


TIPE SOAL PILIHAN GANDA

- 1) Manakah gambar berikut yang merupakan segi empat, klik pada gambar yang tepat...



TIPE SOAL SINGKAT

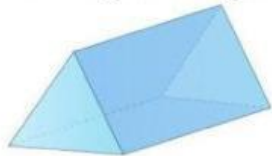
- 2) Segitiga yang salah satu sudutnya 90° disebut dengan segitiga....

TIPE SOAL URAIAN PANJANG

- 3) Pergi Panjang adalah...

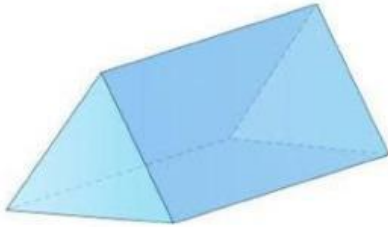
TIPE SOAL DROP DOWN

- 4) Gambar bangun ruang di bawah ini adalah...

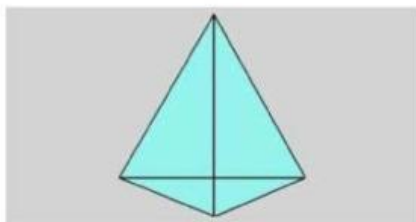


TIPE MEMASANGKAN

5) Pasangkanlah gambar berikut ini..



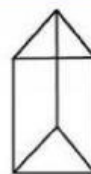
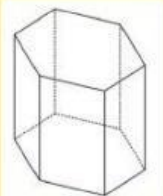
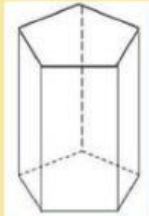
Limas



Prisma

SOAL DRAG AND DROP


6) PINDAHKAN BANGUN RUANG DI BAWAH KE KOTAK YANG TEPAT



**Prisma Segi
Tiga**



**Prisma Segi
Lima**



**Prisma Segi
Enam**