




Considera os diagramas seguintes que representam a organização dos corpúsculos de uma dada substância em três estados físicos. Faz a associação correta entre os itens da coluna I e os itens da coluna II.

Coluna I	Coluna II
(A) 	(1) Sólido
(B) 	(2) Líquido
(C) 	(3) Gasoso