

E-LKPD

Problem Based Learning

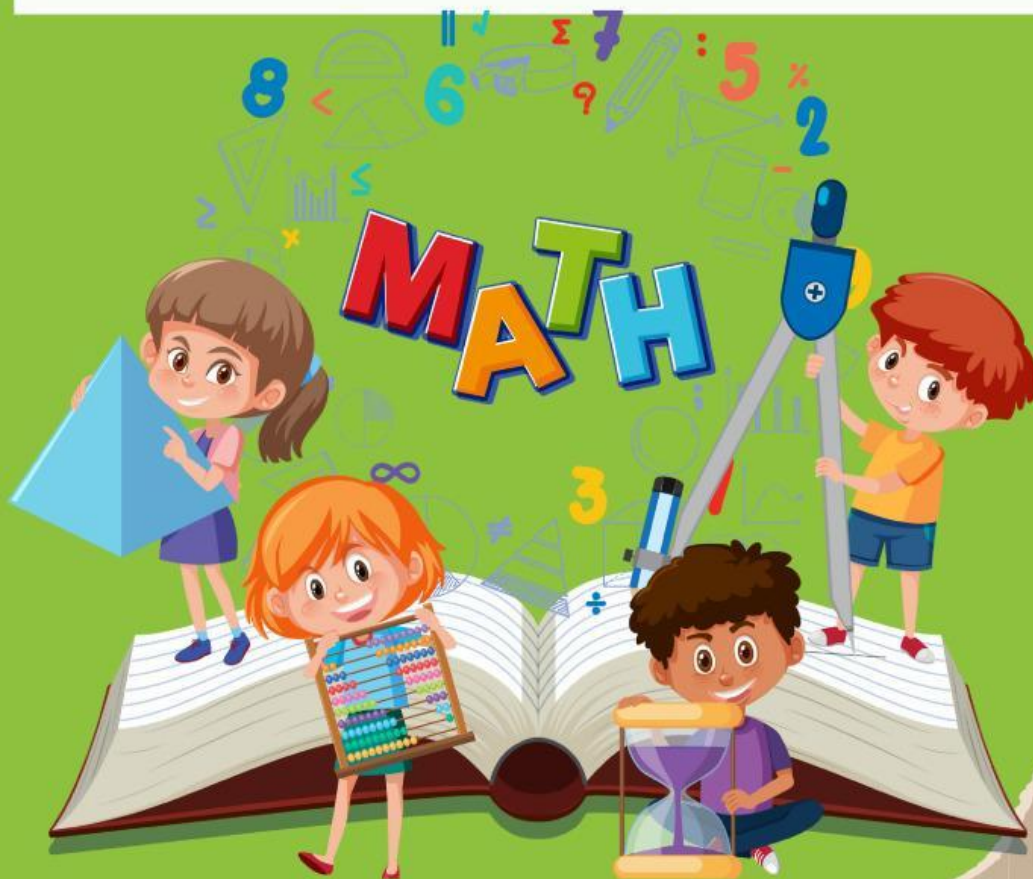
“



2 4 6 8

POLA BILANGAN

”



Kelas
4 SD/MI



KOMPETENSI DASAR

4.1 Mengidentifikasi pola gambar membesar dan mengecil yang melibatkan penjumlahan dan

pengurangan pada bilangan cacah sampai 100

4.2 Mengembangkan pola gambar membesar dan mengecil yang melibatkan penjumlahan dan

pengurangan pada bilangan cacah sampai 100




TUJUAN PEMBELAJARAN

- 1. Menemukan pola bilangan membesar dan mengecil**
- 2. Membuat pola bilangan membesar dan mengecil**



PETUNJUK PENGGUNAAN E-LKPD

- 
1. Berdo'alah terlebih dahulu
 2. Bacalah langkah-langkah pengerjaan e-LKPD
 3. Ikuti sesuai petunjuk yang ada
 4. Kerjakan dengan berkelompok untuk kegiatan 1
 5. Diskusikanlah persoalan yang ada pada e-LKPD dengan teman sekelompok kalian.
 6. Kerjakan kegiatan 2 secara individu
 7. Kerjakan soal evaluasi secara mandiri dengan baik dan benar

Ayo Menyimak!

KLIK START



Nama: 1

3

2

Kelas:

AKTIVITAS KELOMPOK

Lembar kerja bagi siswa-siswi yang menyelesaikan
tugasnya lebih cepat



Kegiatan 1

YUK BANTU UPIN!



Di sebuah toko bunga terdapat banyak tanaman bunga anggrek. Diberis pertama terdapat 10 pot bunga anggrek, di baris kedua terdapat 12 pot bunga anggrek, di baris ketiga terdapat 15 pot bunga anggrek, di baris keempat terdapat 19 pot bunga anggrek.

Bantu Upin untuk memprediksi berapa banyak pot bunga anggrek di baris ke - 5? Berikan alasanmu!

Nama:

Kelas:

AKTIVITAS MANDIRI

Lembar kerja bagi siswa-siswi yang menyelesaikan
tugasnya lebih cepat



Ayo Temukan!



Kegiatan 2

Carilah 5 angka pada kotak dibawah ini!

5	9	13	17	--
--	9	7	5	3
5	10	--	20	25
7	10	13	--	19
9	--	13	15	17

Nilai:

Soal Evaluasi!

1. Disuatu gedung bioskop terdapat 5 baris kursi, dimana banyak kursi yang tersedia pada baris pertama adalah 20 buah kursi, pada baris kedua tersedia 16 buah kursi, pada baris ketiga tersedia 12 buah kursi dan seterusnya sehingga memenuhi pola bilangan tertentu. Tentukan banyak kursi yang tersedia pada baris ke empat?

a. 6

b. 8

c. 4

2. Ciko diberi tugas oleh guru untuk menata buku pada rak di perpustakaan. Pada rak pertama, Ciko menata 5 buku, pada rak kedua menata 9 buku, pada rak ketiga menata 13 buku. Tentukan banyak buku yang ditata oleh Ciko pada rak kelima?

a. 21

b. 20

c. 22

Nilai:

Name:

Kelas:

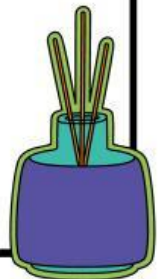
Refleksi

Perasaaanku hari ini



Hari ini aku belajar

Masih adakah materi
yang terasa sulit?



Hari ini aku berbagi
dengan



GLOSARIUM



Problem Based Learning = suatu pendekatan pembelajaran berbasis masalah

Bilangan = cara menyatakan banyak benda



DAFTAR PUSTAKA

HOBRI DKK, 2022. *BUKU SISWA MATEMATIKA*.
Kementerian Pendidikan, Kebudayaan, Riset, dan
Teknologi Republik Indonesia

MEET THE TEACHER



Mrs. EKA

About Me

Assalamu'alaikum,
hello everyone
My Name is Eka
Nurhayati. I was born
in Probolinggo, May
14th 2000.



Contact



089502340185



ekan3114@gmail.com



Fun Fact



I love to travel and experience other culture. I like
reading, watching film and meeting friends

