

**PRUEBA SABER
CIENCIAS NATURALES**

Responde las preguntas a partir de la lectura del siguiente texto

Texto 1

**A LOS ANIMALES SALVAJES
¡DÉJALOS EN LIBERTAD!**


Jaguar


Pacarana


Águila arpía


Tigrillo


Perezoso



Porque *NUESTRA* casa no es *SU* casa.



Los animales salvajes son aquellos que viven libres en su ambiente natural. Por eso, estos animales **NO** deben ser criados ni domesticados por el ser humano.



**NO COMPRES
NO REGALES
NO VENDAS
¡DENUNCIA!**

¿Cómo puedes ayudarlos?

1 Observa si alguien tiene animales salvajes en su casa.

2 Denuncia a estas personas en la Policía Ambiental.

3 Entérate de los programas de ayuda a los animales salvajes.

1. Con las fotografías de animales se quiere

- A. Explicar los alimentos que comen los animales.
- B. Enseñar cómo se puede capturar los animales.
- C. Mostrar cuáles son algunos de los animales salvajes.
- D. Clasificar los animales salvajes más hermosos.

2. Según el texto, ¿Qué debes hacer si observas que alguien tiene un animal salvaje en su casa?

- A. Estudiar sobre los animales salvajes.
- B. Hacer saber a los vecinos la situación.
- C. Hablar de los animales con tus padres.

D. Denunciar ante la policía ambiental

3. En el texto, las imágenes de la casa



de las plantas



miten

- A. Los lugares donde es posible comprar animales.
- B. Los lugares donde viven el hombre y los animales.
- C. Los dibujos de empresas que ayudan a los animales.
- D. Los dibujos que indican qué animales deben protegerse.

4. Con el dibujo

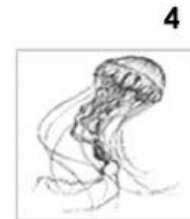




se quiere decir que está prohibido

- A. Enjaular a los animales.
- B. Transportar animales.
- C. Comprar animales.
- D. Alimentar a los animales.

PRUEBA TIPO SABER

Observa las siguientes imágenes y responde la pregunta 1:



1. Si Natalia usa un aparato de rayos X para hacer una radiografía, ¿En cuál de los animales mostrados no veríamos huesos?

A. 1


B. 2

C. 3

D. 4

2. El animal de la imagen pertenece al grupo de las

- A. Mamíferos
- B. Anfibios
- C. Peces
- D. Reptiles




3. ¿Cuál de los siguientes animales pertenecen al grupo de los insectos?


- A. Los patos
- B. Las abejas
- C. Los pájaros
- D. Los gatos

4. Observa las imágenes y luego responde:

1



2



3



De los animales anteriores: ¿Cuáles pueden respirar bajo el agua?

- A. 2 y 1
- B. 3 y 2
- C. 1 y 3
- D. 2 y 3

5. Las aves son animales ovíparos, esto quiere decir que:

- A. Nacen directamente de la madre
- B. Pueden volar
- C. Tienen escamas
- D. Se desarrollan dentro de un huevo

6. ¿Cuál de los siguientes animales es un animal vertebrado?


- A.** La medusa **B.** El pulpo **C.** El armadillo **D.** El alacrán

7. ¿Cuál de las siguientes características está presente únicamente en los mamíferos?

- A.** Nacen de un huevo
B. Poseen plumas que cubren su cuerpo
C. Producen leche para alimentar a sus crías
D. Tienen respiración branquial

8. Algunos peces presentan una cubierta especial además de la piel. La cubierta está formada por:

- A.** Plumas **B.** Uñas **C.** Escamas **D.** Espinas



9. Observo la siguiente gráfica, hago un círculo alrededor de la letra que tiene la respuesta correcta y lo relleno.

- A.** Todos los animales de la gráfica son animales domésticos.
B. Todos los animales de la gráfica son animales salvajes.
C. Hay igual cantidad de animales salvajes y domésticos
D. El número de animales domésticos excede al número de animales salvaje