



LKPD

**RANTAI MAKANAN
DAN
JARING MAKANAN**

Perhatikan Video Berikut Ini!



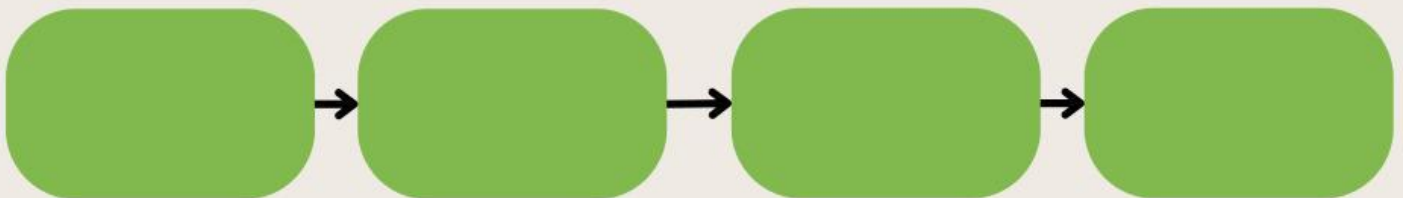
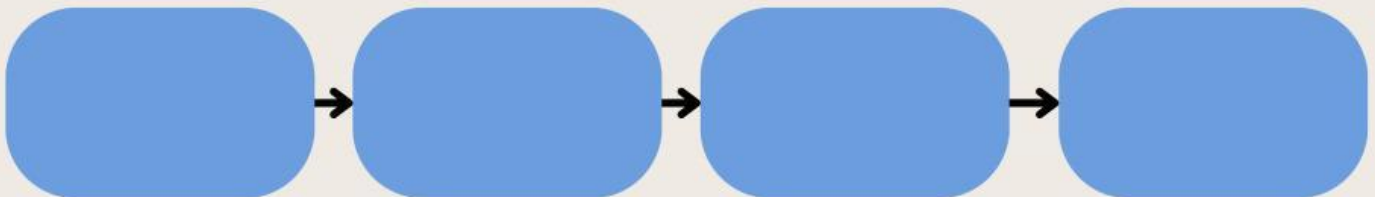
Source: Video Materi SD

RANTAI MAKANAN

NAMA:

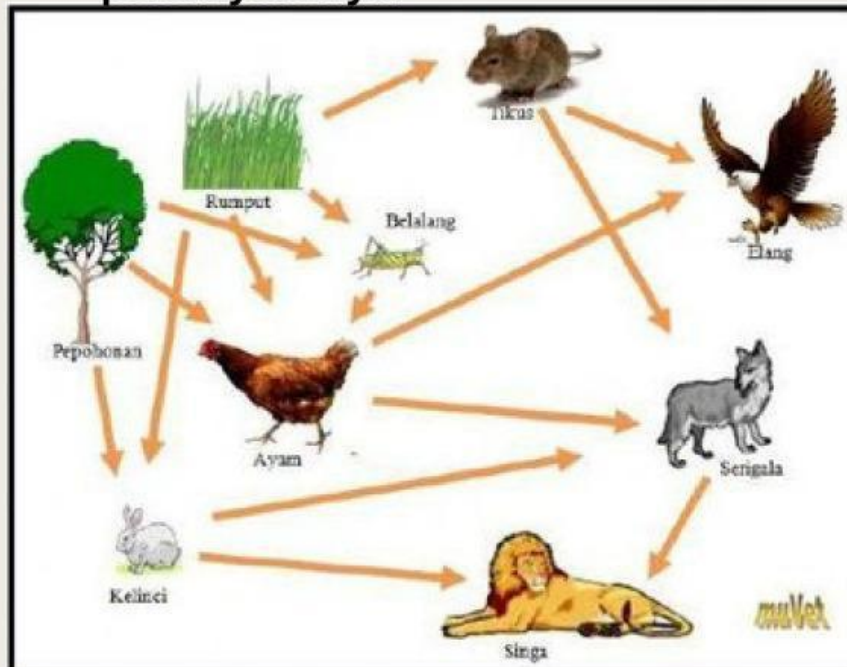
KELAS:

Urutkan rantai makanan di bawah ini dengan cara menggeser gambar dengan tepat!



JARING MAKANAN

Lihat jaring makanan di bawah ini dan jawab pertanyaannya!



Tikus dan ayam berperan sebagai

Makhluk hidup yang berperan sebagai
Konsumen Tingkat II adalah

Pohon dan Rumput

Ayam dan Tikus

Elang dan Singa

Kelinci dan
Belalang

Ayo Berbicara!

Dari rantai makanan berikut coba jelaskan urutannya dari produsen!

