


Esc. Primaria "Centenario de la Revolución Mexicana"
Ciclo Escolar 22-23


Nombre: _____ Grado/grupo: _____

INSTRUCCIÓN. Selecciona el nombre para cada figura geométrica
(select:yes/no).




Círculo

Cuadrado




Triángulo

Círculo



Rectángulo

Cuadrado



Cuadrado

Círculo

Esc. Primaria "Centenario de la Revolución Mexicana"
Ciclo Escolar 22-23

Nombre: _____ Grado/grupo: _____


INSTRUCCIÓN. Completa la oración "arrastrando" el nombre de la figura geométrica en el espacio que corresponde. **(drag:1/drop:1).**

R E S P U E S T A S


Círculo

Triángulo


Rectángulo



¡Hola! Mi nombre es: _____



¡Hola! Mi nombre es: _____


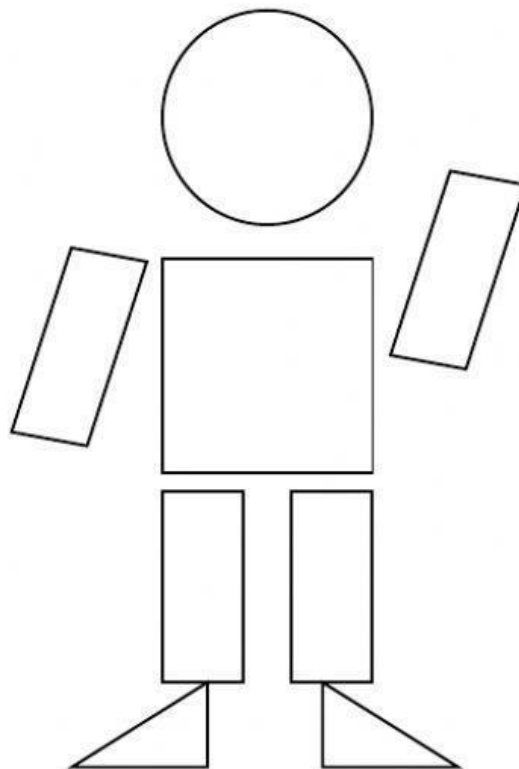



¡Hola! Mi nombre es: _____

Esc. Primaria "Centenario de la Revolución Mexicana"
Ciclo Escolar 22-23

Nombre: _____ Grado/grupo: _____





INSTRUCCIÓN. Observa el siguiente video, para después, armar el siguiente tangram con las figuras geométricas presentadas. (url) (drag/drop).



Esc. Primaria "Centenario de la Revolución Mexicana"
Ciclo Escolar 22-23

Nombre: _____ Grado/grupo: _____

Instrucción. Escribe el nombre de cada figura geométrica. (/)

<div data-bbox="161 622 746 750"></div> 	<div data-bbox="825 622 1410 750"></div> 
<div data-bbox="161 1216 746 1344"></div> 	<div data-bbox="825 1216 1410 1344"></div> 

Esc. Primaria "Centenario de la Revolución Mexicana"
Ciclo Escolar 22-23

Nombre: _____ Grado/grupo: _____

INSTRUCCIÓN. Señala en la siguiente sopa de letras el nombre de las siguientes figuras geométricas (wordsearch).




R	E	C	T	Á	N	G	U	L	O	J
X	G	O	C	R	O	W	O	L	U	I
S	D	V	S	I	P	I	E	M	Z	Q
F	F	J	D	C	Í	R	C	U	L	O
K	K	Q	F	P	L	D	J	X	F	V
F	U	V	F	Y	S	C	R	S	D	H
T	X	J	V	C	U	O	P	J	S	A
I	C	U	A	D	R	A	D	O	S	B
D	P	I	B	I	W	K	Z	B	Q	L
U	T	R	I	Á	N	G	U	L	O	Y
W	S	U	A	P	R	X	R	V	B	T

Esc. Primaria "Centenario de la Revolución Mexicana"
Ciclo Escolar 22-23


Nombre: _____ Grado/grupo: _____

INSTRUCCIÓN. Selecciona el nombre para cada figura geométrica
(select:yes/no).




Círculo

Cuadrado




Triángulo

Círculo



Rectángulo

Cuadrado



Cuadrado

Círculo