



# LKPD

## Lembar Kerja Peserta Didik



### TEMA 5 : EKOSISTEM

Subtema 1 : Komponen ekosistem

Pembelajaran 2

Kelas V



Nama :

Kelas :

# Kompetensi Dasar dan Indikator Pencapaian Kompetensi

KD	IPK
3.5 Menganalisis hubungan antar komponen ekosistem dan jaring-jaring makanan di lingkungan sekitar.	3.5.1 Mengidentifikasi hewan berdasarkan jenis makanannya.
4.5 Membuat karya tentang konsep jaring-jaring makanan dalam suatu ekosistem	4.5.1 Membuat bagan tentang penggolongan hewan berdasarkan jenis makanannya.

## Petunjuk Penggunaan

1. Isilah identitas diri yang telah disediakan
2. Bacalah setiap petunjuk yang ada pada LKPD
3. Jawablah semua pertanyaan dengan teliti

## **Bacalah serta pahami materi mengenai penggolongan hewan di bawah ini !**

Penggolongan Hewan Berdasarkan Jenis Makanannya Sumber makanan hewan dikelompokkan menjadi dua yaitu tumbuhan dan hewan. Makanan yang bersumber dari tumbuhan berupa daun, batang, buah, biji-bijian, akar atau umbi-umbian. Sedangkan makanan yang bersumber dari hewan seperti daging, ikan, tulang dan serangga. Perbedaan jenis makanan pada hewan menyebabkan ada penggolongan jenis makanan hewan yaitu :

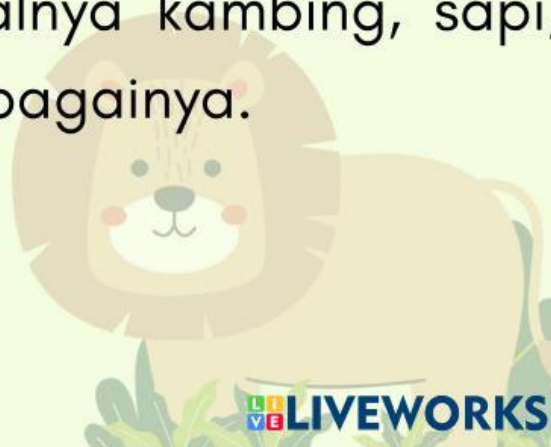

1. Herbivora : hewan pemakan tumbuhan.
2. Karnivora : hewan pemakan daging
3. Omnivora : hewan pemakan





## 1. Hewan herbivora


Hewan herbivora adalah hewan-hewan pemakan tumbuhan. Hewan dalam golongan ini menjadikan bagian dari tumbuhan, mulai dari daun, batang, hingga ranting sebagai makanan dan sumber energinya. Ciri-ciri hewan herbivora dapat kita identifikasi dari bentuk dan susunan giginya. Gigi hewan herbivora cenderung berupa geraham yang rapat. Gigi geraham ini digunakan hewan herbivora untuk mengunyah dan melumatkan makanannya yang berupa tumbuhan. Beberapa contoh hewan herbivora yang dapat kita temukan di lingkungan kita misalnya kambing, sapi, rusa, gajah, dan lain sebagainya.





## 2. Hewan karnivora


Hewan karnivora adalah hewan-hewan pemakan daging. Hewan dalam golongan ini menjadikan hewan lainnya sebagai makanannya. Dalam rantai makanan, hewan karnivora umumnya bertindak sebagai predator atau pemangsa. Ciri-ciri khusus dari hewan golongan karnivora adalah adanya gigi taring yang kuat dan tajam. Gigi taring tersebut digunakan hewan karnivora sebagai alat untuk mencabik-cabik daging mangsanya. Contoh hewan karnivora yang dapat kita temukan di sekitar lingkungan kita misalnya anjing, kucing, singa, macan, serigala, dan lain sebagainya.





### 3. Hewan omnivora

Hewan omnivora adalah hewan-hewan pemakan daging dan tumbuhan, alias pemakan segalanya. Manusia termasuk omnivora sejati. Manusia memakan daging-dagingan dan juga tumbuh-tumbuhan sebagai sayuran. Selain manusia, monyet, tikus, babi, luwak, dan bekantan juga termasuk contoh hewan omnivora. Ciri-ciri dari hewan dalam golongan ini adalah struktur giginya yang terdiri atas gigi seri, gigi taring, dan gigi geraham secara lengkap. Gigi seri berbentuk pipih digunakannya untuk memotong makanan, gigi taring digunakan untuk mencabik daging, sedangkan gigi geraham digunakan untuk mengunyah.





**Simaklah Video dibawah ini !**

**Setelah kalian memahami materi,  
cobalah kalian isi soal dibawah ini !**

1. Sumber makanan hewan dikelompokkan menjadi dua yaitu...

- a. Tumbuhan dan Hewan
- b. Biji-bijian dan tumbuhan
- c. Hewan dan Biji-bijian
- d. Semua benar

2. Makanan yang bersumber dari tumbuhan berupa apa saja, sebutkan...

- a. Ikan, daun, serangga
- b. Daun, batang, buah, biji- bijian, akar atau umbi-umbian
- c. Batang, akar, tulang
- d. Buah, biji-bijian, daging

3. Berdasarkan jenis makanannya, hewan terbagi menjadi...

- a. Lima
- b. Tujuh
- c. Dua
- d. Tiga



4. Ciri-ciri dari susunan dan bentuk gigi hewan jenis Herbivora adalah...

- a. Memiliki gigi taring yang kuat dan tajam
- b. Memiliki gigi cenderung berupa geraham yang rapat
- c. Memiliki struktur giginya yang terdiri atas gigi seri, gigi taring, dan gigi geraham secara lengkap.
- d. Semua benar

5. Gigi taring digunakan hewan karnivora sebagai alat untuk...

- a. mencabik-cabik daging mangsanya
- b. mengunyah dan melumatkan makanannya
- c. memotong makanan
- d. semua benar

6. Sebutkan 3 hewan yang masuk kedalam hewan jenis Omnivora...

- a. Singa, kambing, dan ular
- b. Ayam, tikus, dan orang utan
- c. Sapi, kambing, dan kuda
- d. Harimau, kudaniil, dan buaya



**Carilah kesesuaian antara gambar dan keterangan pada jenis hewan tersebut !**



**Herbivora**

**Omnivora**

**Karnivora**

**Karnivora**

**Herbivora**

**Omnivora**