

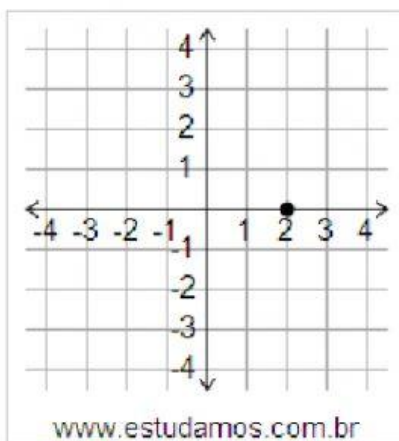
MATEMÁTICA PLANO CARTESIANO



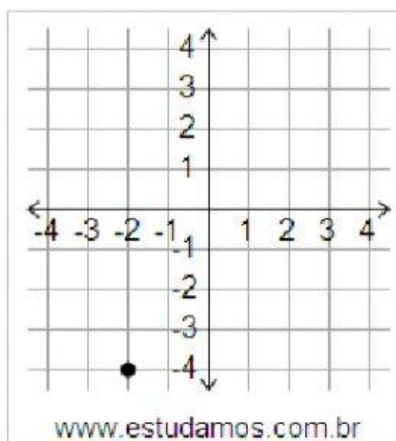
PROFª ÉDINA VIERIA

- 1) Marque as coordenadas da Abscissa X e da Ordenada Y que os Planos Cartesianos estão representando.

PLANO 1



PLANO 2



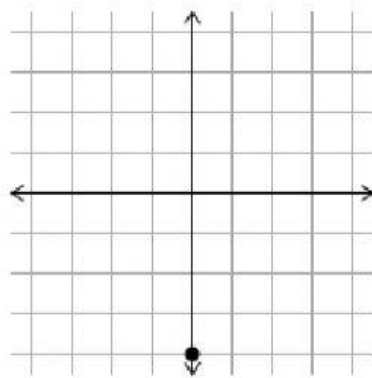
PLANO 1 a) (0,2) b) (2,0) c) (1,2) d) (2,1)

PLANO 2 a) (-2,-4) b) (2,4) c) (0,-4) d) (-1,-4)

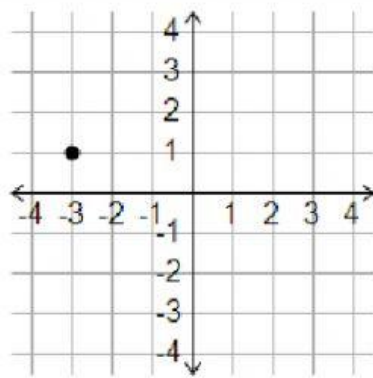
- 1) Abaixo temos dois gráficos com os eixos perpendiculares X e Y, neles existem pontos demarcados onde ocorre o encontro das retas. Partindo da observação destes pontos escreva as coordenadas "x" e "y" de cada Plano Cartesiano. Marque os pontos corretamente aos Planos A e B:

PLANO A

PLANO B



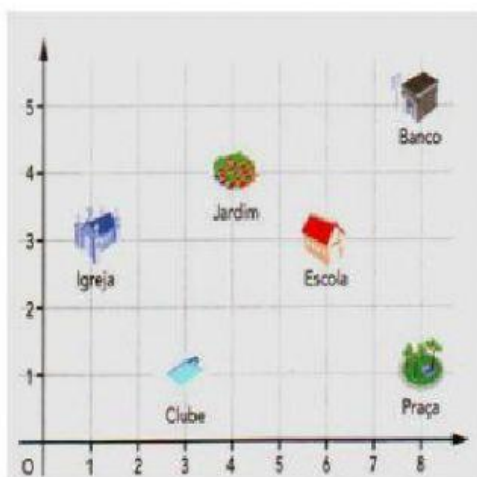
www.estudamos.com.br



www.estudamos.com.br

a) PLANO A (0,4) e PLANO B (3,1) b) PLANO A (0,-4) e PLANO (-3,1) c) PLANO A (4,0) e PLANO B (1,-3)

2) **Observe a imagem abaixo :**



• **Que logradouro está localizado em cada um destes pares ordenados? Ligue corretamente**

(1 ; 3)

PRAÇA

(8 ; 1)

CLUBE

(4 ; 4)

IGREJA

(3 ; 1)

BANCO

(6 ; 3)

JARDIM

(8; 5)

ESCOLA