


SINAU BARENG KKG GENENG
Selasa, 23 Feb 2021

A. Perhatikan video di bawah ini!



B. Letakkan rumus bangun datar secara benar dengan cara menariknya! (drag and drop)

Bangun Datar	Rumus Luas
--------------	------------



$$L = \frac{1}{2} \times a \times t$$

$$L = \pi \times r^2$$

$$L = a \times t$$

$$L = p \times l$$

C. Pilihlah jawaban yang tepat! (multiple choice)

3. Dalam mandi wajib disunahkan mendahulukan bagian tubuh sebelah....
A. kiri
B. kanan
C. atas
D. bawah
4. Mandi wajib bertujuan untuk menghilangkan hadats
A. besar
B. kecil
C. sedang
D. kuman
١. يَذْهَبُ حَسَنٌ إِلَى الْمَدْرَسَةِ الْمَقْرَسَةِ مَعَهَا
أ. sekolah
ب. tas
ج. kelas
د. pasar
٢. مَا هَذَا ؟ هَذَا ...
أ. بَيْتٌ
ب. طَائِرَةٌ
ج. مَسْجِدٌ
د. سُوْقٌ
- 

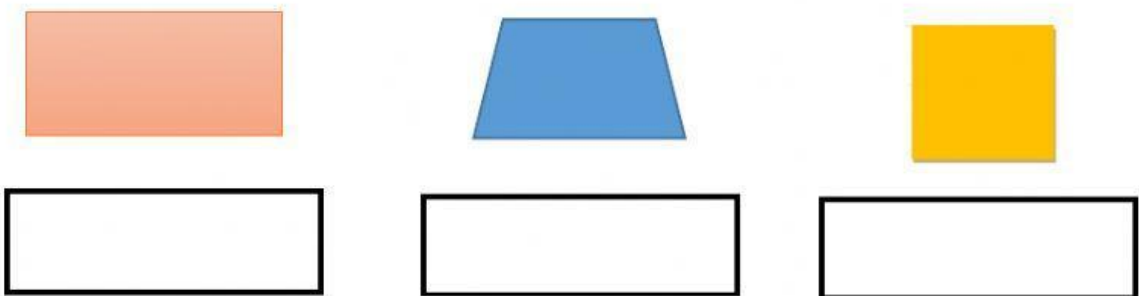
D. Jawablah dengan tepat! (fill in the blank)

- Nama nama yang mulia / Asmaul husna yang di miliki oleh Allah SWT ada buah
- Sebuah persegi memiliki keliling 40 cm maka sisi dari persegi tersebut adalah ... cm.

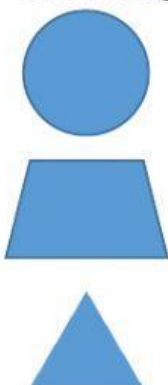
E. Benar atau salah pernyataan berikut! (true or false)

- B – S** Jika jumlah MI di Kec.Geneng ada 6. Negeri 1 dan Swasta 5. Maka perbandingan MI Swasta dengan negeri 1:5.
- B – S** Jika Bulan adalah satelit Bumi. Maka Bulan berevolusi terhadap Matahari.

F. Pilihlah nama bangun yang sesuai! (drop down)



G. Tariklah garis pada pasangan yang sesuai! (matching)



Trapezium

Segitiga

Lingkaran