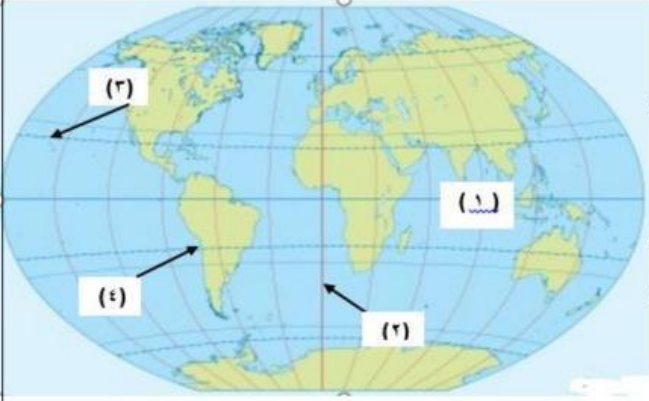


8- الرقم الذي يُشير إلى دائرة الاستواء في الشكل المُقابل:

أ- (1) ب- (2) ج- (3) د- (4)



9- الحضارة التي رَسَمَ شعبها خرائط لمواقع المناجم والطرق المؤدية إليها للبحث عن المعادن:

أ- الرومانية ب- المصرية ج- البابلية د- الإغريقية

10- عدد خطوط الطول:

أ- 90 خط ب- 180 خط ج- 360 خط د- 400 خط



11- الجغرافي المسلم الذي رسم خريطة العالم التي أمامك:

أ- المسعودي ب- الإدريسي

ج- المقدسي د- ابن حوقل

12- درجة خط الطول الرئيس (خط غرينتش) تبلغ :

أ- صفر ب- 23.5 ج- 66.5 د- 90



13- الحضارة التي رسمَ شعبها الخريطة المُقابلة:

أ- الإسلامية ب- الإغريقية

ج- المصرية د- الأوروبية

14- إذا كانت الساعة 8 مساءً على خط غرينتش، فستكون الساعة في مسقط والتي تبعد 60 خط طول شرق خط غرينتش:

أ- الرابعة صباحًا ب- السادسة صباحًا ج- العاشرة صباحًا د- الثانية عشر صباحًا

إشراف: أ. بدر بن عبد الله الحراسي

(2)

إعداد: أ. باسم بن هلال الكندي

15- الرقم الذي يُشير إلى الحضارة التي رسم شعبها خرائطه على لوحات من الصلصال المحروق:



أ- (1) ب- (2) ج- (3) د- (4)

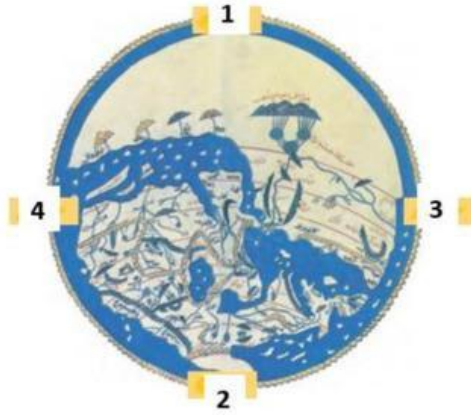
16- الفرق الزمني بين كل خط طول والذي يليه:

أ- دقيقتين ب- أربع دقائق ج- نصف ساعة د- ساعة واحدة

17- الملاح العُماني صاحب كتاب (الفوائد في أصول علم البحر والقواعد):

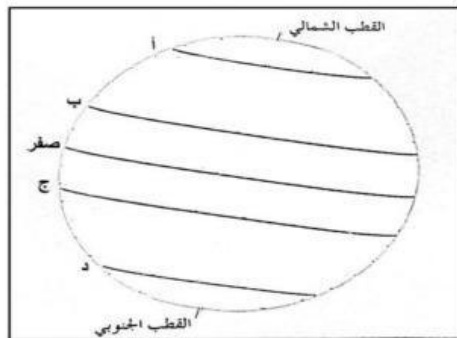
أ- سليمان المهري ب- ناصر بن علي الخضوري ج- أحمد بن ماجد د- الإدريسي

18- الرقم الذي يُشير إلى جهة الشمال في خريطة الأرض التي رسمها الجغرافي الإدريسي:



أ- (1) ب- (2)

ج- (3) د- (4)



19- الدائرة العرضية التي يُشير إليها الرمز (ج) :

أ- مدار الجدي ب- دائرة الاستواء
ج- مدار السرطان د- الدائرة القطبية الشمالية