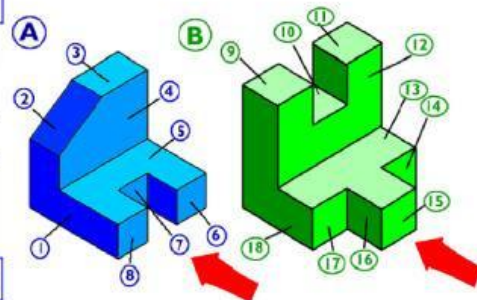
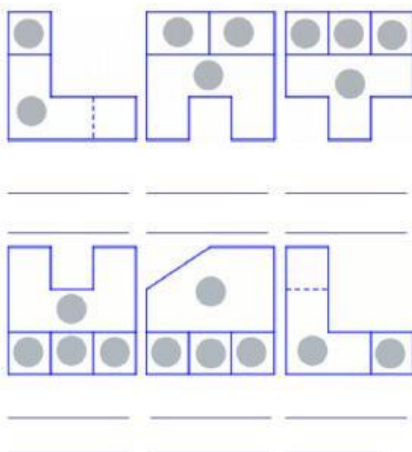
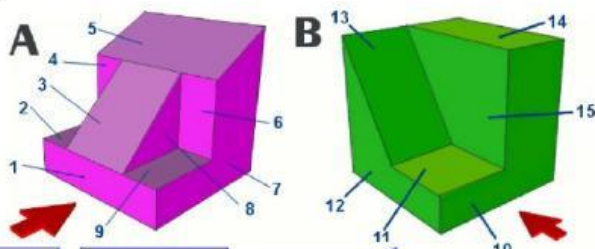
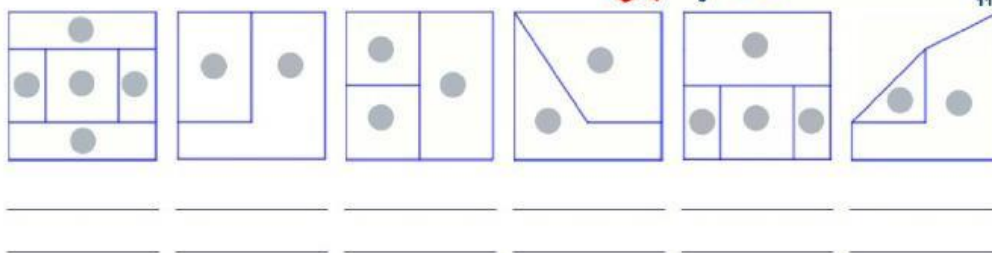


1. Indica para cada vista, a qué figura corresponde y si se trata de la planta, el alzado o el perfil. (la flecha indica la dirección y sentido del alzado). Además, en los círculos grises de las vistas, indica a qué cara de las figuras se corresponden.

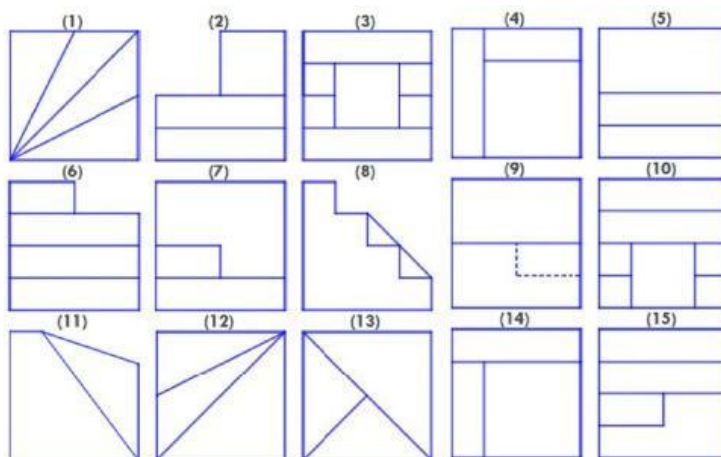


2. Indica para cada vista, a qué figura corresponde y si se trata de la planta, el alzado o el perfil. (la flecha indica la dirección y sentido del alzado). Además, en los círculos grises de las vistas, indica a qué cara de las figuras se corresponden.



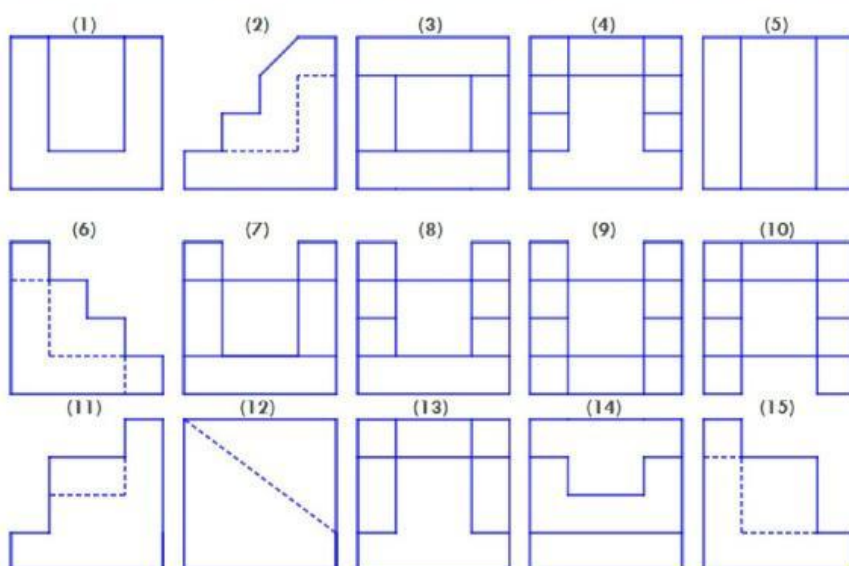
3. Rellena la tabla con los números de las vistas correspondientes. La flecha indica el alzado.

ALZADO					
PLANTA					
PERFIL					



4. Rellena la tabla con los números de las vistas correspondientes. La flecha indica el alzado.

ALZADO					
PLANTA					
PERFIL					



5. Rellena la tabla con los números de las vistas correspondientes. La flecha indica el alzado.

ALZADO					
PLANTA					
PERFIL					

