

Nama :

Kelas :

SOAL EVALUASI

1. Perhatikan diagram berikut!



Diagram di atas menunjukkan kegemaran siswa kelas 4, 5, dan 6 SD Harapan.

Banyaknya siswa yang gemar membaca yaitu ...

2. Perhatikan diagram berikut!

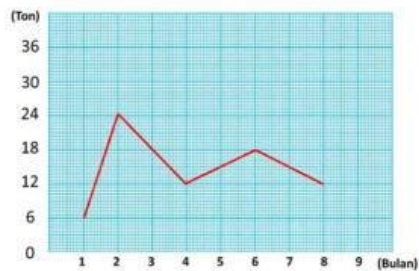


Diagram garis tersebut menunjukkan penjualan jeruk oleh PT Makmur Sejahtera.

Penjualan terbanyak terjadi pada bulan ke ...

3. Perhatikan diagram berikut!

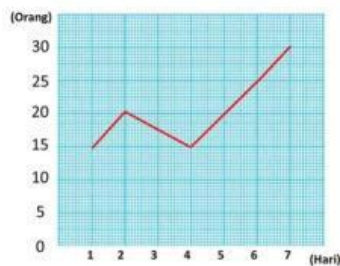


Diagram garis diatas menunjukkan banyaknya pasien yang datang ke Klinik Permata Bunda.

Selisih pasien yang datang pada hari selasa dan hari sabtu yaitu ...

4. Perhatikan diagram berikut!

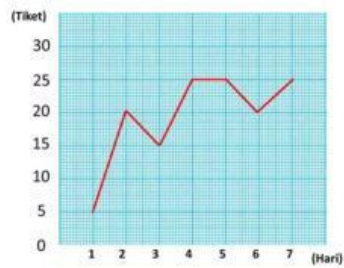


Diagram diatas menunjukkan penjualan tiket pertandingan sepak bola.

Kenaikan penjualan tiket yang drastis terjadi pada hari ...

5. Perhatikan diagram berikut!

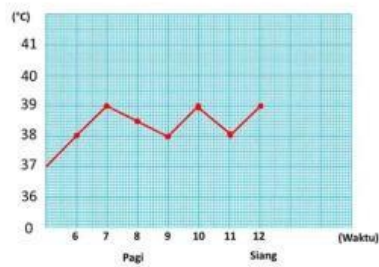


Diagram diatas menunjukkan suhu badan Adit. Suhu badan Adit yang tertinggi yaitu ...