













Nombre _____

fecha _____

Los polígonos

Escribe el nombre de cada uno de estos polígonos.

CÍRCULO	TRAPECIO	CUADRADO	PENTÁGONO
TRIÁNGULO	RECTÁNGULO	TRIÁNGULO	HEPTÁGONO
RECTÁNGULO	TRAPEZOIDE	OCTÓGONO	HEXÁGONO
ROMBO			

 <input type="text"/>	 <input type="text"/>	 <input type="text"/>
 <input type="text"/>	 <input type="text"/>	 <input type="text"/>
 <input type="text"/>	 <input type="text"/>	 <input type="text"/>
 <input type="text"/>	 <input type="text"/>	 <input type="text"/>