




# ATIVIDADES



PROF<sup>ª</sup> EDINA VIEIRA

- 1) Observe a imagem abaixo de uma cozinha. Veja suas dimensões e determine a sua área em m<sup>2</sup> :



- a) 18,05
- b) 18,75
- c) 17,05
- d) 17,50

- 2) A figura abaixo é a planta baixa de um apartamento. Observe-a e responda às questões, considerando cada quadradinho uma unidade de medida de área: Ligue o valor da área de cada cômodo. Apenas da sala, cozinha, banheiro e quarto.



4 UNIDADE

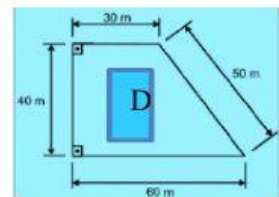
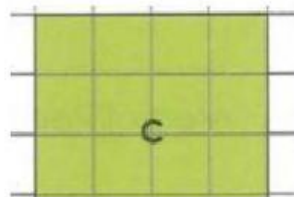
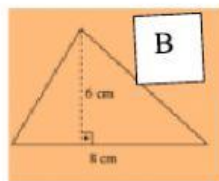
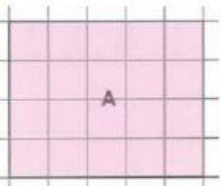
15 UNIDADES

5 UNIDADES

6 UNIDADES

- 3) Qual é a área total do apartamento da atividade anterior?  
 A -45 unidades    B -40 unidades    C -8 unidades    D -5 unidades

- 4) Ligue cada figura apresentada abaixo, ao valor de sua área: (Cada quadrinho tem valor de 1 m)



PROF<sup>ª</sup> EDINA VIEIRA

12

20

1800

24