



# REPASO NAVIDEÑO

## 3º PRIMARIA





Escribe un adjetivo para  
cada sustantivo



trineo



niño



chimenea



familia



juguete



Une con flechas los sinónimos



regalar

juntar

celebrar

donar

feliz

vivienda

hermoso

bonito

unir

festear

casa

contento



Escribe si es sustantivo,  
adjetivo o verbo



cantar



viajar



reno



divertido



navideño




amigos



amor



reunir



emotivo





Escribe el antónimo de  
cada palabra



rápido

lejos

luminoso

alegre

frío

dulce

joven


ruidoso



## Une los regalos con el género y número correspondiente



masculino singular



femenino plural



masculino plural



femenino singular



masculino singular



## Lee y responde. "El arbolito de navidad"



Érase una vez, hace mucho tiempo, un pueblecito donde vivía una familia muy pobre.

Cuando estaba próxima la Navidad, ellos no sabían como celebrarla sin dinero. Entonces el padre de la familia empezó a preguntarse cómo podía ganar dinero para pasar la noche de Navidad compartiendo un pavo al horno con su familia, disfrutando de la velada junto al fuego.

Decidió que ganaría algo de dinero vendiendo árboles de Navidad.

Así, al día siguiente se levantó muy temprano y se fue a la montaña a cortar algunos pinos. Subió a la montaña, cortó cinco pinos y los cargó en su carroza para venderlos en el mercado.

Cuando sólo quedaban dos días para Navidad, todavía nadie le había comprado ninguno de los pinos.

Finalmente, decidió que puesta que nadie le iba a comprar los abetos, se los regalaría a aquellas personas más pobres que su familia. La gente se mostró muy agradecida ante el regalo.

La noche de Navidad, cuando regresó a su casa, el hombre recibió una gran sorpresa. Encima de la mesa había un pavo y al lado un arbolito pequeño.

Su esposa le explicó que alguien muy bondadoso había dejado eso en su puerta.

Aquella noche el hombre supo que ese regalo tenía que haber sido concedido por la buena obra que él había hecho regalando los abetos que cortó en la montaña.





## Lee y responde




- 1) ¿Cómo quería pasar la navidad el padre de la familia?
- 2) ¿Qué se le ocurrió?
- 3) ¿Dónde consiguió los pinos?
- 4) ¿Logró venderlos?
- 5) ¿Qué se encontró cuando regresó a su casa la noche de navidad?
- 6) ¿Qué le explicó su esposa?
- 7) ¿Cómo piensas que se habrán sentido con la sorpresa?





Elige uno de los regalos  
y descríbelo



A large, empty rounded rectangle for writing a description of the chosen gift.



Completa con el anterior  
y el posterior





Resuelve las sumas



$$\begin{array}{r} + \begin{array}{|c|c|c|} \hline 8 & 5 & 1 \\ \hline 1 & 2 & 4 \\ \hline \end{array} \end{array}$$

$$\begin{array}{r} + \begin{array}{|c|c|c|} \hline 3 & 4 & 7 \\ \hline 5 & 1 & 8 \\ \hline \end{array} \end{array}$$

$$\begin{array}{r} + \begin{array}{|c|c|c|} \hline 2 & 7 & 6 \\ \hline 4 & 6 & 1 \\ \hline \end{array} \end{array}$$

$$\begin{array}{r} + \begin{array}{|c|c|c|} \hline 1 & 8 & 5 \\ \hline 6 & 2 & 4 \\ \hline \end{array} \end{array}$$

$$\begin{array}{r} + \begin{array}{|c|c|c|} \hline 5 & 9 & 1 \\ \hline 4 & 0 & 3 \\ \hline \end{array} \end{array}$$

$$\begin{array}{r} + \begin{array}{|c|c|c|} \hline 4 & 1 & 2 \\ \hline 3 & 2 & 5 \\ \hline \end{array} \end{array}$$





Escribe el signo mayor  
o menor según corresponda



1130

2015

5216

5206

3284

3684

1049

1094

2698

1698



## Resuelve los siguientes problemas



María fue al supermercado y gastó 238 euros. Luego pasó por la panadería y gastó 126 euros. Después de todas las compras, aún le quedaban 136 euros en su cartera.

¿Cuánto dinero tenía en total?

Planteo:

Resultado:



José ha comprado un árbol de navidad con un billete de 500 euros. Le han devuelto 102 euros. ¿Cuánto ha costado el árbol?

Planteo:

Resultado:



Papá Noel tiene 582 cartas para repartir entre 15 duendes. ¿Cuántas cartas le corresponden a cada duende?

Planteo:

Resultado:





Descompone en millares,  
centenas, decenas y unidades



**3851:** 3 MILLARES, 8 CENTENAS, 5 DECENAS Y 1 UNIDAD

**5201:**

**1284:**

**9731:**

**4176:**

**1235:**

**6857:**

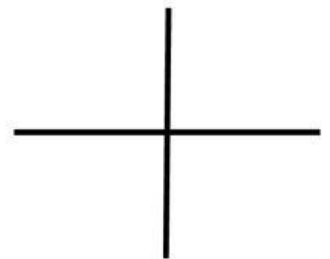
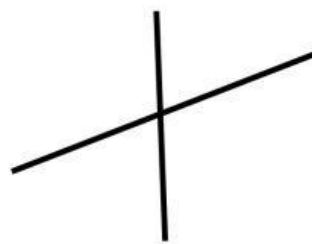






Traza con regla dos rectas  
paralelas



Colorea de rojo las rectas paralelas



¿Qué tipo de ángulos son?

