

Nama : .....

Kelas : .....

# Bangun Ruang

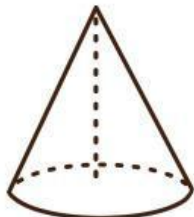
Simak video dibawah ini sebelum mengerjakan latihan soal selanjutnya !



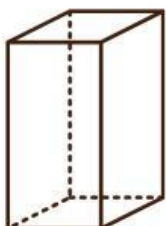
Pasangkan gambar dengan nama bangun ruang yang sesuai dengan menarik garis lurus !



Kerucut



Bola

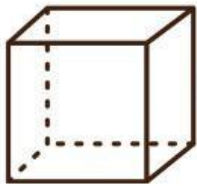


Balok

Tempelkan jumlah sisi bangun ruang pada gambar yang sesuai !



6

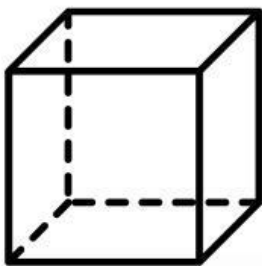


3



Hitunglah banyak rusuk, sisi, dan titik sudut bangun ruang berikut!

1.

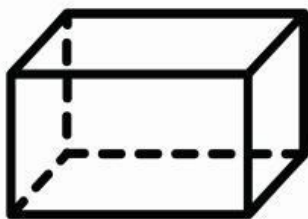


Banyak Sisi : .....

Banyak Rusuk : .....

Banyak Titik Sudut : .....

2.



Banyak Sisi : .....

Banyak Rusuk : .....

Banyak Titik Sudut : .....