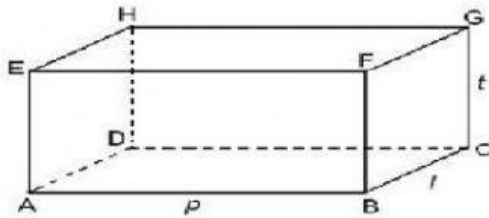
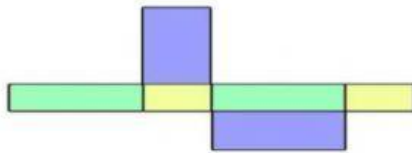


**Isilah titik-titik dibawah ini dengan jawaban yang benar!**

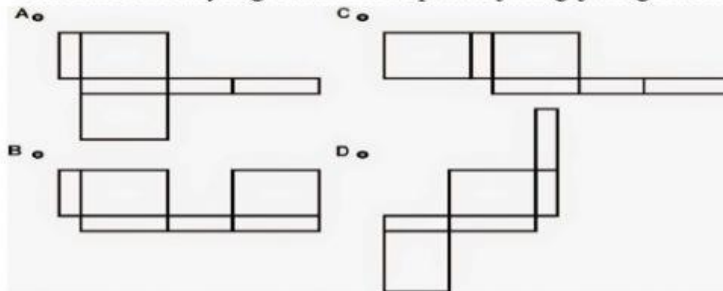
1. Gambar bangun ruang dibawah ini adalah.....



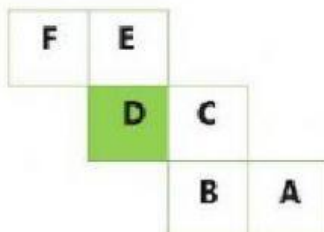
2. Jaring-jaring dibawah ini merupakan jaring-jaring sebuah...



3. Berikut ini adalah ciri-ciri kubus kecuali...
- Memiliki 12 rusuk yang sama panjang
  - Memiliki 6 buah sisi yang berbentuk persegi yang kongruen
  - Memiliki 8 buah titik sudut
  - Memiliki 12 diagonal sisi yang terdiri 3 kelompok diagonal sisi yang sama panjang
4. Gambar berikut yang bukan merupakan jaring-jaring balok adalah.....



5. Perhatikan gambar berikut!

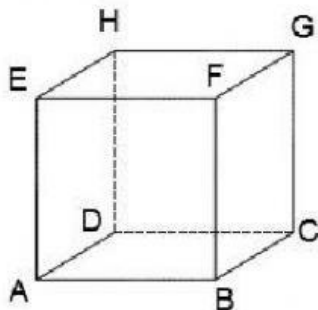


Jika **D** adalah alas kubus, maka yang menjadi tutup kubus (bagian atas kubus) adalah..

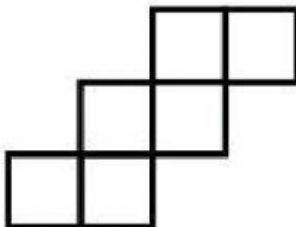
6. Jika nomor 4 pada gambar jaring-jaring balok dibawah ini adalah bagian bawah balok, maka yang menjadi bagian atas balok adalah nomor....



7. Dibawah ini adalah gambar sebuah..



8. Jaring-jaring Kubus terdiri dari... buah persegi
9. Berikut ini adalah ciri-ciri balok yang benar yaitu...
- Memiliki 12 rusuk yang terdiri dari 4 rusuk panjang, 4 rusuk lebar dan 4 rusuk tinggi
  - Memiliki 12 rusuk yang sama panjang
  - Memiliki 6 buah sisi yang berbentuk persegi yang kongruen
  - Memiliki 6 buah bidang sisi yang berbentuk bujur sangkar
10. Perhatikan gambar berikut ini !



Jaring-jaring disamping ini merupakan jaring-jaring....