

VUI HỌC TOÁN

TOÁN 3

LỚP THẦY SĨ

THỬ THÁCH TUẦN 13

Nội dung: Mi – li – mét (tiết 2)

Gam. Mi – li – lít. Nhiệt độ, đơn vị đo nhiệt độ  
Thực hành và trải nghiệm với các đơn vị mi – li – mét,  
gam, mi – li – lít, độ C (tiết 1)

**Câu 1** Kết quả của phép tính  $48 \text{ mm} : 3$  là:

- A. 16 m                      B. 15 dm                      C. 16 mm                      D. 18 cm

**Câu 2** " $1 \text{ l} = \dots \text{ ml}$ ". Số thích hợp điền vào chỗ chấm là:

- A. 10                      B. 100                      C. 1 000                      D. 500

**Câu 3** Trong phích nước có  $1 \text{ l}$  nước. Sau khi rót nước từ phích ra ba cốc (như bức tranh) thì lượng nước còn lại trong phích là:

- A. 200 ml  
B. 300 ml  
C. 400 ml  
D.  $1 \text{ l}$



**Câu 4** Một quả táo có cân nặng khoảng:



- A. 200 g                      B. 2 kg                      C. 20 kg                      D. 2 g

**Câu 5** Nhiệt độ bình thường của cơ thể người là:

- A.  $32^\circ\text{C}$                       B.  $37^\circ\text{C}$                       C.  $40^\circ\text{C}$                       D.  $10^\circ\text{C}$

**Câu 6** Nhiệt độ ngoài trời hôm qua là  $30^\circ\text{C}$ . Nhiệt độ ngoài trời hôm nay cao hơn hôm qua  $3^\circ\text{C}$ . Vậy nhiệt độ ngoài trời hôm nay là:

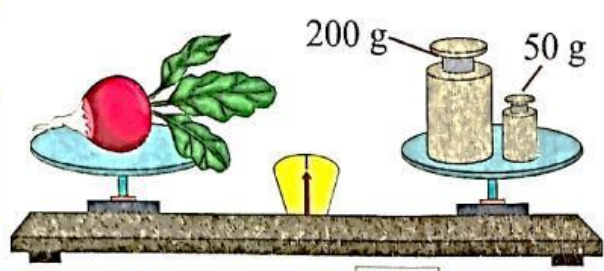
- A.  $25^\circ\text{C}$                       B.  $37^\circ\text{C}$                       C.  $27^\circ\text{C}$                       D.  $33^\circ\text{C}$

**Câu 7** Mẹ Hà đi chợ mua hai con cá. Con cá nhỏ cân nặng 400 g và nhẹ hơn con cá to 200 g. Vậy mẹ Hà đã mua:

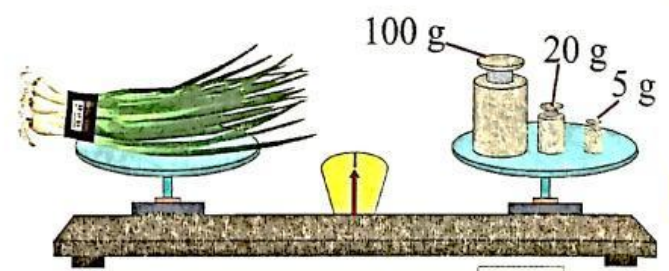
- A. 1 kg cá                      B. 800 g cá                      C. 600 g cá                      D. 700 g cá

II. Phần tự luận.

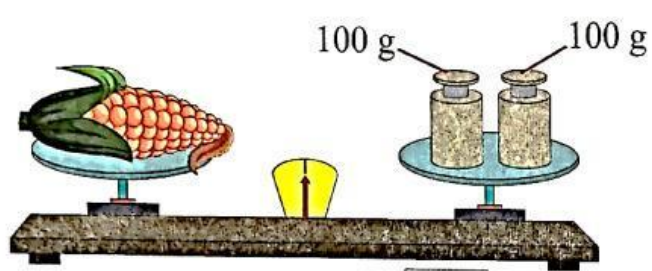
**Bài 1** Số?



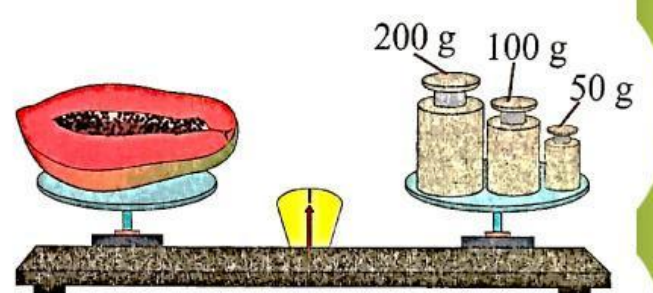
Củ cải cân nặng  g.



Bó hành lá cân nặng  g.



Bắp ngô cân nặng  g.



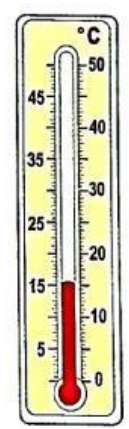
Miếng đu đủ cân nặng  g.



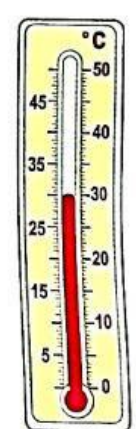
ml



ml



°C



°C

**Bài 2** Tính.

$520 \text{ mm} + 280 \text{ mm} =$

$765 \text{ g} - 370 \text{ g} =$

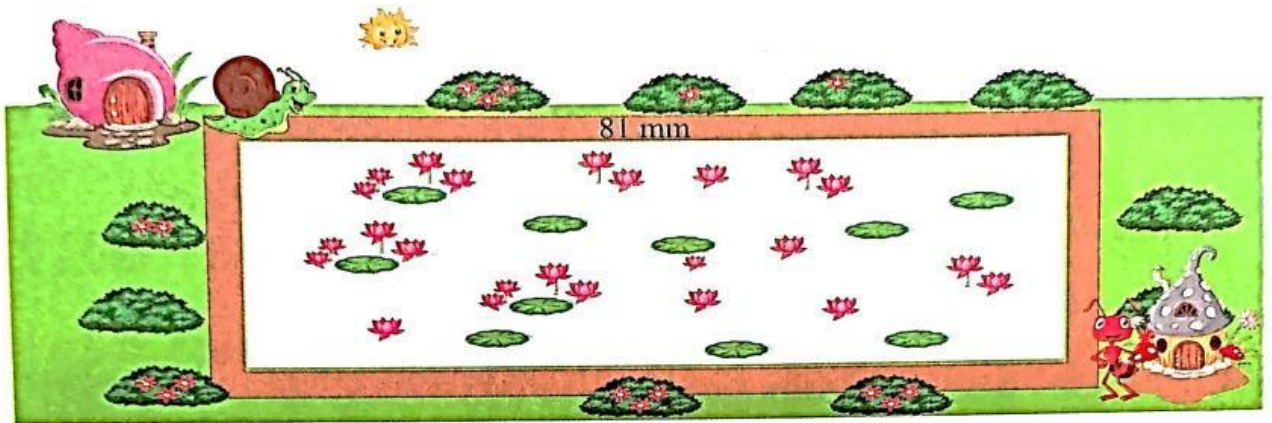
$12 \text{ ml} \times 7 =$

$11 \text{ g} \times 9 =$

$64 \text{ ml} : 4 =$

**Bài 3**

Nhà của Ốc Sên và Kiến nằm ở hai đỉnh của một cái ao sen dạng hình chữ nhật (như bức tranh). Ao sen có chiều dài là 81 mm và chiều rộng bằng chiều dài giảm đi 3 lần. Hỏi nhà Ốc Sên cách nhà Kiến bao nhiêu mi-li-mét?

*Bài giải*

- A. Số mi – li – mét nhà Ốc Sên cách nhà Kiến là: 27 mi – li – mét  
 B. Số mi – li – mét nhà Ốc Sên cách nhà Kiến là: 81 mi – li - mét  
 C. Số mi – li – mét nhà Ốc Sên cách nhà Kiến là: 108 mi – li - mét  
 D. Số mi – li – mét nhà Ốc Sên cách nhà Kiến là: 127 mi – li - mét

**Bài 4**

Một vị khách muốn mua nửa quả đu đủ nên cô Hà đã cắt quả đu đủ thành hai miếng. Miếng to cân nặng 550 g và nặng hơn miếng nhỏ 100 g. Hỏi quả đu đủ đó cân nặng bao nhiêu gam?

*Bài giải*

- A. Số gam quả đu đủ đó cân nặng là: 700 gam  
 B. Số gam quả đu đủ đó cân nặng là: 800 gam  
 C. Số gam quả đu đủ đó cân nặng là: 900 gam  
 D. Số gam quả đu đủ đó cân nặng là: 1000 gam

