

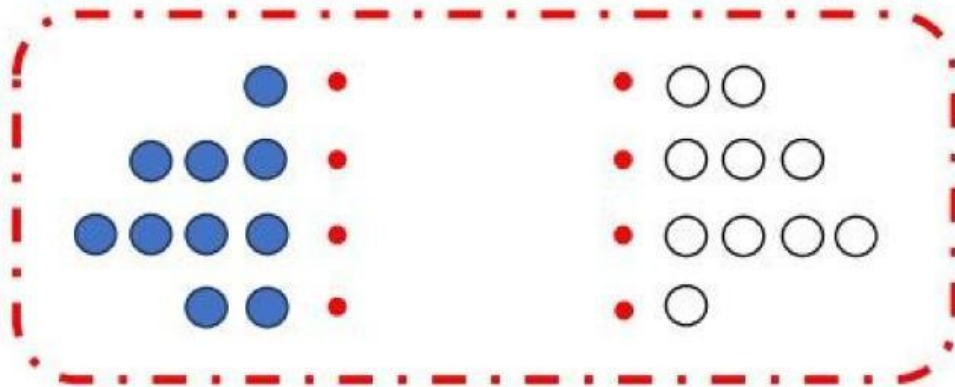


Nombre y Apellido: \_\_\_\_\_

## Ejercicios con números del 1 al 5

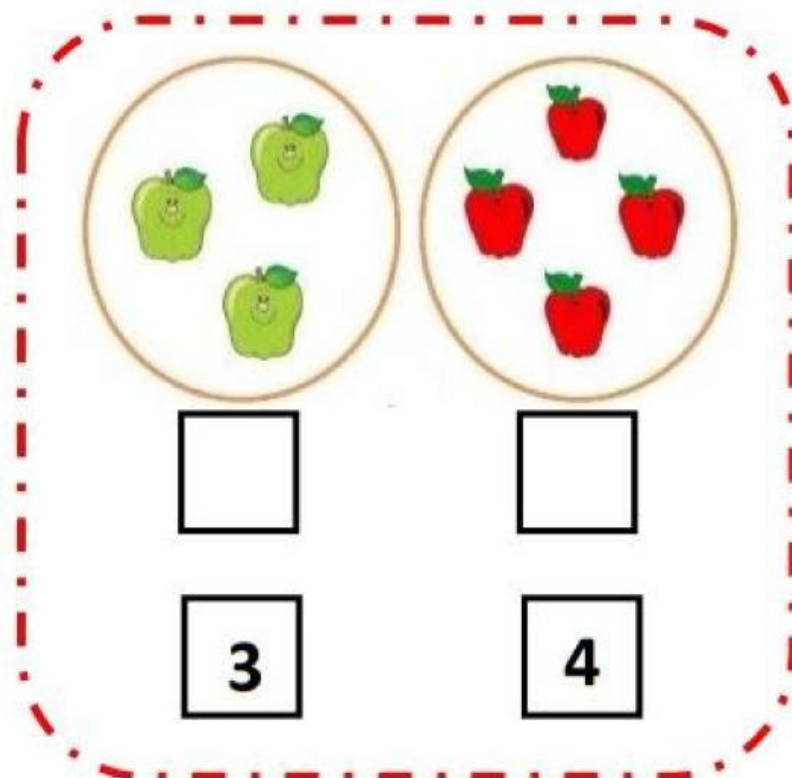
### ¡Unamos!

1. Une las bolitas azules con las bolitas blancas. (4 pts.)



### ¡Arrastramos!

2. Observa cada conjunto y relaciona el número de elementos que contiene. (6 pts.)



**¡Seleccionamos!**

3. Observa las imágenes y selecciona la respuesta correcta. (2 pts.)

1 3 5

1 3 5

**¡Completamos!**

4. Halle el resultado de las siguientes sumas. (2 pts.)

1

2


**¡Marquemos!**

5. ¿Cuál es el resultado de la suma? (2 pts.)

- a) 1 gatito
- b) 2 gatitos
- c) 3 gatitos
- d) 4 gatitos
- e) 5 gatitos

**¡Resolvamos!**

6. Juancito va al mercado y compra 3 manzanas en la tienda de Panchita y 3 manzanas la tienda de Pepe. ¿Cuántas manzanas compro en total? (4 pts.)



RPTA: \_\_\_\_\_