


# FRACCIONES

## Recuerda

Las fracciones tienen dos términos: **numerador** y **denominador**.



$\frac{2}{4}$

◀ **Numerador:** número de partes coloreadas.

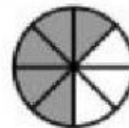
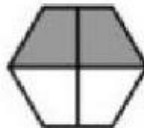

◀ **Denominador:** número de partes iguales en que está dividido el cuadrado.

### 1. Observa y contesta.



- ¿Qué fracción de los calcetines son grises? \_\_\_\_\_
- ¿Cuál es el numerador de esa fracción? \_\_\_\_\_
- ¿Qué indica el numerador? \_\_\_\_\_
- ¿Cuál es el denominador de esa fracción? \_\_\_\_\_
- ¿Qué indica el denominador? \_\_\_\_\_

### 2. Escribe la fracción que representa la parte coloreada de cada figura.



## SERES VIVOS: ANIMALES

Clasifica los siguientes animales. Para ello, emplea todos tus conocimientos, puedes ir a la pestaña de ciencias y ayudarte con los esquemas.

