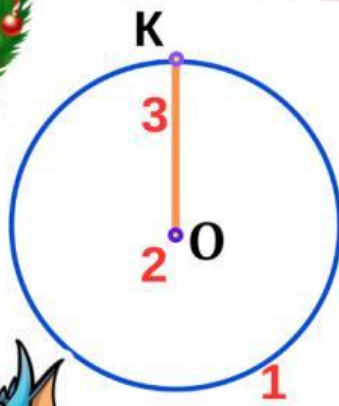


# Задачі на визначення часу. Рівняння. Коло



## 1. Познач назви об'єктів

- 1
- 2
- 3

радіус

коло

центр кола



## 2. Познач правильно обчислені рівняння

$$72:b=9$$

$$b=72:9$$

$$\underline{b=8}$$

$$72:8=9$$

$$9=9$$

$$83-a=14$$

$$a=83-14$$

$$\underline{a=71}$$

$$83-71=14$$

$$14=14$$

$$k:4=0$$

$$k=0:4$$

$$\underline{k=0}$$

$$0:4=0$$

$$0=0$$

$$c*8=56$$

$$c=56:8$$




$$\underline{c=7}$$

$$7*8=56$$

$$56=56$$

## 3. Розв'яжи задачі.

а) Дракончик випікав печиво **2 год 05хв** і закінчив о **14 год 50хв**. Який годинник показує час, коли Дракончик розпочав роботу?



б) Скільки часу пройшло від початку доби, якщо зараз:

2 година ночі



8 година вечора



9 година ранку

