











ใบงานเรื่อง การแก้ปัญหา

การใช้สัญลักษณ์

พิจารณาภาพที่กำหนดให้ต่อไปนี้ แล้วให้นักเรียนคำนวณหาผลลัพธ์ตามที่กำหนดให้ถูกต้อง บันทึกลงในสมุด

	เท่ากับ	1		เท่ากับ	2
	เท่ากับ	3		เท่ากับ	4

1.		บวก		เท่ากับ	<input type="text"/>
2.		บวก		เท่ากับ	<input type="text"/>
3.		บวก		เท่ากับ	<input type="text"/>
4.		บวก		เท่ากับ	<input type="text"/>
5.		บวก		เท่ากับ	<input type="text"/>

