

EVALUASI PEMBELAJARAN



Matematika Kelas I SD

Tema 4. Subtema 3. Pembelajaran ke 3

Nama:

Kelas:


Jawablah pertanyaan di bawah ini dengan benar!

1. Lingkari benda yang lebih pendek.

a



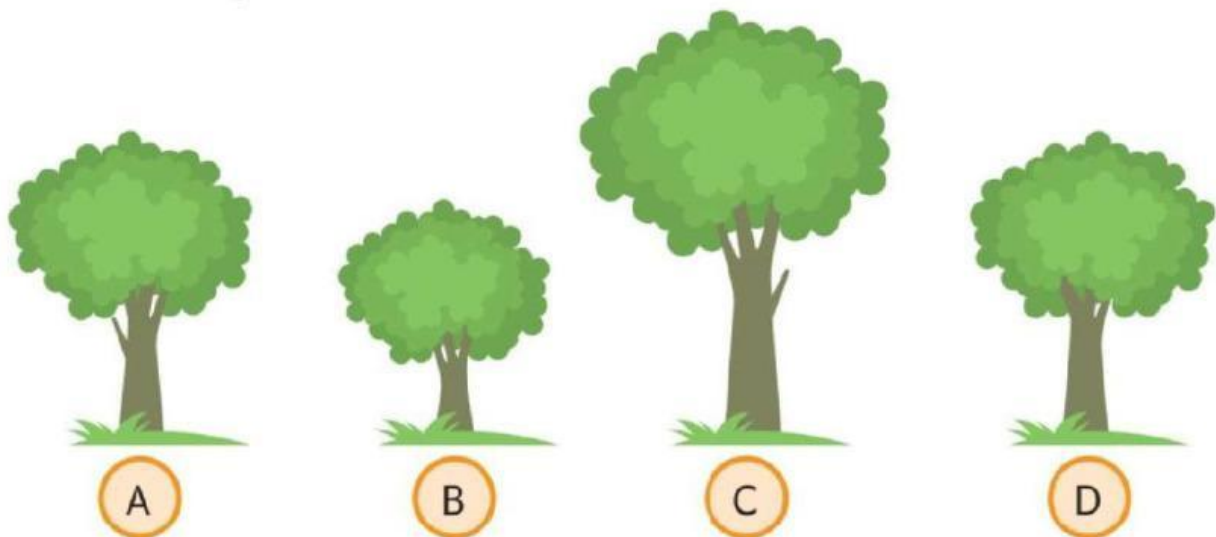
b



2. Lingkari benda yang lebih panjang.



3. Perhatikan gambar berikut.




Pohon yang sama tinggi adalah _____ dan _____

Pohon yang paling pendek adalah _____

Pohon yang paling tinggi adalah _____

4. Perhatikan gambar berikut.



Bunga yang paling tinggi adalah _____

Bunga yang paling pendek adalah _____

Urutan bunga dari paling pendek:

_____, _____, _____

5. Hitunglah panjang benda berikut.



Panjang jam tangan = _____ penjepit kertas



Panjang pensil = _____ penjepit kertas

Panjang sendok = _____ penjepit kertas



6. Temukan panjang pita berikut.

Panjang pita A = _____ kotak

Panjang pita B = _____ kotak

Panjang pita C = _____ kotak

Pita A lebih _____ dari pita B.

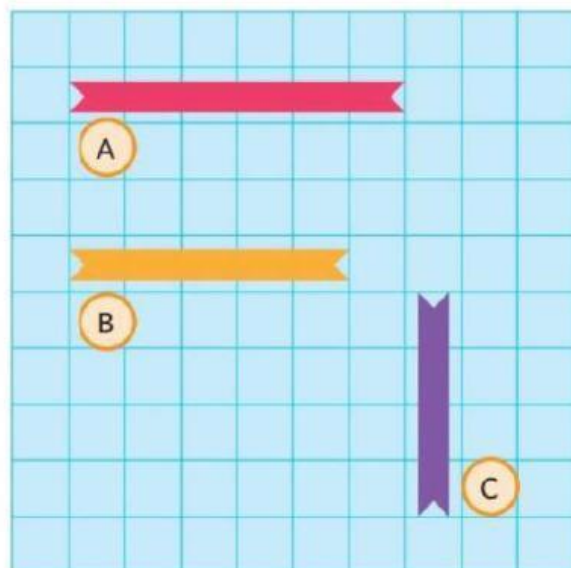
Pita B lebih _____ dari pita C.

Pita paling panjang adalah _____

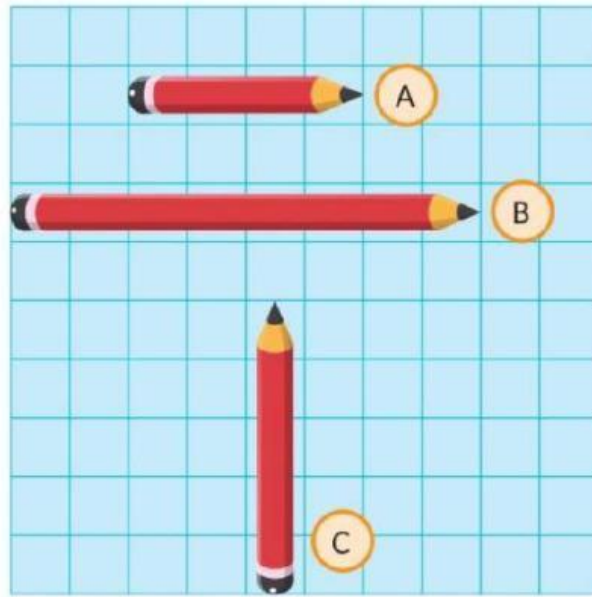
Pita paling pendek adalah _____

Urutan pita dari terpanjang:

_____, _____, _____



7. ✂️ Temukan panjang pensil berikut.



Panjang pensil A = ____ kotak

Panjang pensil B = ____ kotak

Panjang pensil C = ____ kotak

Pensil A lebih ____ dari pensil B.

Pensil B lebih ____ dari pensil C.

Pensil yang paling panjang adalah ____

Pensil yang paling pendek adalah ____

Urutan pensil dari paling pendek: ____, ____, ____

Selamat Mengerjakan :)