

Nama :

Kelas :



REMIDI ASESMEN SUMATIF AKHIR SEMESTER (ASAS)

Tahun Ajaran 2022/2023


Mata Pelajaran : Seni Musik Hari, tanggal :
Kelas : V (Lima) Waktu :

A. PILIHAN GANDA

Berilah tanda silang (x) pada huruf a, b, c atau d pada jawaban yang paling benar!

1. Jenis suara Wanita yang tinggi adalah ...
A. Alto C. Tenor
B. Sopran D. Mezzo sopran
2. Jenis suara pria yang rendah adalah ...
A. Bas C. Sopran
B. Tenor D. Bariton
3. Jenis suara pria yang paling tinggi adalah ...
A. Alto C. Sopran
B. Mezzo sopran D. Tenor
4. Anak-anak mempunyai jenis suara ...
A. Kecil C. Sopran
B. Besar D. Sedang
5. Alat musik gamelan berasal dari daerah ...
A. Maluku C. Jawa
B. Kalimantan D. Sumatera Utara
6. Gitar adalah jenis alat musik yang di ...
A. Mainkan
B. Pukul
C. Gesek
D. Petik

7. Perhatikan gambar di bawah ini!



Alat musik di atas dinamakan...

- A. Gondang
- B. Kulintang
- C. Kecapi
- D. Angklung

8. Perhatikan gambar berikut!



Alat musik di atas berasal dari ...

- A. Jawa Tengah
- B. Yogyakarta
- C. Jawa Barat
- D. Jawa Timur

9. Perhatikan alat musik berikut!

- 1. Kendang
- 2. Sapek
- 3. Kulintang
- 4. Sasando

Alat musik yang cara memainkannya dengan dipetik adalah nomer ...

- A. 1 dan 3
- B. 1 dan 4
- C. 2 dan 3
- D. 3 dan 4

10. Perhatikan gambar berikut!



Alat musik diatas dimainkan dengan cara ...

- A. Dipukul
- B. Ditiup
- C. Digesek
- D. Dipetik

11. Di bawah ini jenis – jenis alat musik!

- 1. Drum
- 2. Kendang
- 3. Cajon
- 4. Angklung

Yang merupakan alat musik modern adalah ...

- A. 1 dan 3
- B. 1 dan 4
- C. 2 dan 4
- D. 3 dan 4

12. Perhatikan gambar di bawah ini!




Nama alat musik di atas adalah ...

- A. Gitar
- B. Rebab
- C. Mandolin
- D. Arbab

13. Alat musik modern yang cara memainkannya di tiup sebagai berikut, **kecuali** ...

- A. Flute
- B. Seruling
- C. Terompet
- D. Saksofon

14. Perhatikan gambar berikut ini,



Nama alat musik tersebut adalah

- A. trumpet
- B. saksofon
- C. suling
- D. flute

15. Rebab dan arbab merupakan alat musik yang dimainkan dengan cara

- A. dipukul
- B. ditabuh
- C. digesek
- D. dipetik

16. Di bawah ini kelompok alat musik yang dimainkan dengan cara dipukul adalah

- A. gong, gondang, kolintang
- B. sapek, sasando, kecap
- C. rebab, arbab, biola
- D. flute, suling, saksofon

17. Berikut ini yang termasuk dalam kelompok alat musik barat/modern adalah

- A. gong, gondang, kolintang
- B. sapek, sasando, kecap
- C. rebab, arbab, biola
- D. flute, trumpet, saksofon

18. Drum, cajon, timbales termasuk dalam alat- alat musik yang dimainkan dengan cara

- A. dipukul
- B. ditabuh
- C. digesek
- D. ditiup

19. Perhatikan gambar berikut ini!



Alat musik pada gambar di atas adalah

- A. trumpet
- B. flute
- C. saksofon
- D. tuba

20. Piano termasuk dalam alat musik yang dimainkan dengan cara

- A. dipukul
- B. ditabuh
- C. digesek
- D. ditekan

21. Not angka terdiri dari susunan ...

- A. huruf
- B. angka
- C. huruf dan angka
- D. garis

22. Urutan not angka adalah ...


- A. 1 2 3 4 5
- B. 1 3 5 7 1
- C. 1 2 3 4 5 6 7 1'
- D. 0 1 2 3 4 5 6 7

23. Susunan penyebutan not angka yang benar adalah ...

- A. do mi sol mi do
- B. do si la sol fa mi re do
- C. do do re re mi mi fa fa sol sol
- D. do re mi fa sol la si do'

24. Nilai not  adalah ...

- A. 1 ketuk
- B. 2 ketuk
- C. 3 ketuk
- D. 4 ketuk

25. Nilai not  adalah

- A. 1 ketuk
- B. 2 ketuk
- C. 3 ketuk
- D. 4 ketuk

26. Titik di atas notasi angka menunjukkan nada yang lebih ...

- A. Tinggi
- B. Rendah
- C. Sedang
- D. Diam

27. Perhatikan gambar di bawah ini!



Gambar diatas disebut garis ...

- A. Paranada
- B. Birama
- C. Bantu pertama
- D. Bantu kedua

28. [1 . . .] memiliki arti ...

- A. Nada Do berbunyi 1 ketukan
- B. Nada Do berbunyi 2 ketukan
- C. Nada Do berbunyi 3 ketukan
- D. Nada Do berbunyi 4 ketukan

29. Perhatikan gambar berikut!



Bunyi not balok di atas adalah ...

- A. Sol dan do'
- B. Sol dan si
- C. Mi dan sol
- D. Mi dan do'

30. Perhatikan gambar berikut!




Bagian yang ditunjuk tanda panah disebut ...

- A. Birama
- B. Paranada
- C. Garis birama
- D. Tanda birama

31. Perhatikan not balok dari lagu topi saya bundar berikut!

TOPI SAYA BUNDAR



Jika di ubah ke dalam not angka maka akan menjadi ...

- A. |5|5 . 3|1̇ . 3|2 . .| |2 0 3|4 . 6|5 . 4|3 . .|
|5|5 . 3|1̇ . 3|2 . .| |2 0 7|7 . 5|6 . 7|1̇ . .|
- B. |5|5 . 3|1̇ . 3|2 . .| |2 0 3|4 . 6|5 . 4|3 . .|
|5|5 . 3|1̇ . 3|2 . .| |2 0 7|7 . 5|6 . 7|1̇ . .|
- C. |5|5 . 3|1̇ . 3|2 . .| |2 0 3|4 . 6|5 . 4|3 . .|
|5|5 . 3|1̇ . 3|2 . .| |2 0 1̇|7 . 5|6 . 7|1̇ . .|
- D. |5|5 . 3|1̇ . 3|2 . .| |2 0 3|4 . 6|5 . 4|3 . .|
|5|5 . 3|1̇ . 3|2 . .| |2̇ 0 7|7 . 5|6 . 7|1̇ . .|

32. Jarak tangga nada diatonis mayor adalah ...

- A. 1 - 1 - 1/2 - 1 - 1 - 1/2 - 1
- B. 1 - 1 - 1/2 - 1 - 1 - 1 - 1/2
- C. 1 - 1 - 1 - 1/2 - 1 - 1 - 1/2
- D. 1 - 1 - 1/2 - 1 - 1/2 - 1 - 1

33. Perhatikan gambar berikut!



Arti dari $\frac{3}{4}$ dari gambar diatas adalah ...

- A. Ada 4 ketukan dan setiap ketuknya adalah not $\frac{1}{3}$
- B. Ada 3 ketukan dan setiap ketuknya adalah not $\frac{1}{4}$

- C. Ada 3 ketukan dan setiap ketuknya adalah not $\frac{1}{2}$
D. Ada 4 ketukan dan setiap ketuknya adalah not $\frac{1}{2}$

34. Dibawah ini yang bukan merupakan organ penghasil suara adalah ...

- A. Udara dari paru – paru
B. Pita suara
C. Rongga resonansi di tenggorokan, mulut dan hidung
D. Perut

35. Pada suara manusia, dorongan udara dari paru – paru merupakan ...

- A. Vibrator
B. Generator
C. Resonator
D. Resonator dan generator

36. Pita suara merupakan elemen penting keluarnya suara sebagai ...

- A. Vibrator
B. Generator
C. Resonator
D. Resonator dan generator

37. Laring merupakan organ penting dalam proses terjadinya suara manusia yang terletak pada ...

- A. Mulut
B. Tenggorokan
C. Kerongkongan
D. Lambung

38. Bagian irama yang memberikan kekhasan pada suatu musik dan bisa membedakan suasana atau perasaan tertentu pada sebuah musik disebut ...

- A. Tempo lagu
B. Pola irama
C. Tanda birama
D. Irama lagu

39. Perhatikan gambar berikut!



Gambar tersebut menunjukkan pola irama ...

- A. Pola 1
B. Pola 2
C. Pola 3
D. Pola 4

40. Perhatikan gambar berikut!



Gambar diatas menunjukkan pola irama ...

- A. Pola 1
B. Pola 2
C. Pola 3
D. Pola 4