

Medidas de Capacidad.



Ejemplo: ¿Cuántos medios litros hay en 3 litros?

$\times 3$ $\begin{matrix} 1 \text{ litro} \rightarrow 2 \text{ medios litros} \\ 3 \text{ litros} \rightarrow 6 \text{ medios litros} \end{matrix}$ $\times 3$

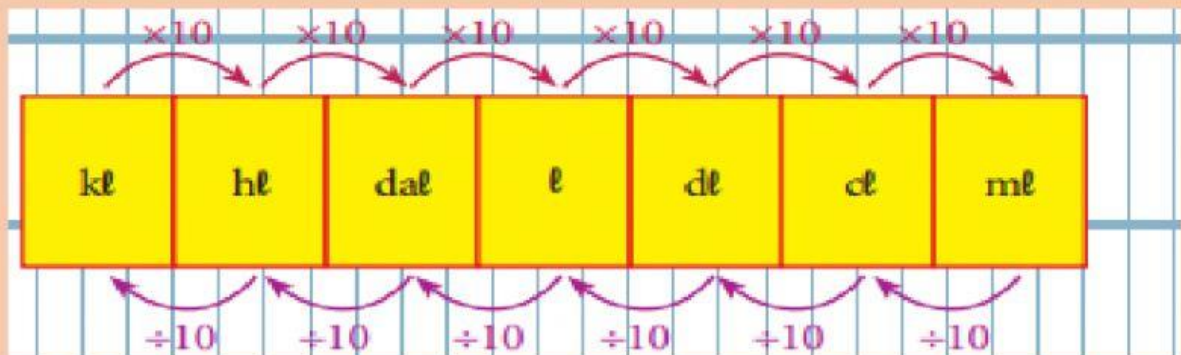
Respuesta: 6 medios litros

¿Cuántos medios litros hay en 5 litros?

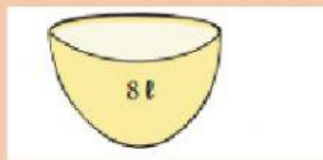
10 medios litros

12 medios litros

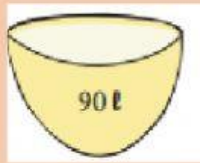
15 medios litros



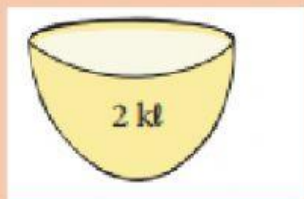
Calcula la capacidad del recipiente en dl.



Calcula la capacidad del recipiente en dal.



Calcula la capacidad del recipiente en hl



¿Cuántas jarras llenas necesito para llenar el recipiente?



¿Cuántas jarras llenas necesito para llenar el recipiente?



Coloca verdadero (V) o falso (F) según corresponda:

- Dos $\frac{1}{2}$ de litro = 1 litro ()
- Tres $\frac{1}{4}$ de litro = 1 litro ()

- Cuatro $\frac{1}{4}$ de litro = 1 litro ()

35 hectolitros a centilitros.

350 cl

350000 cl

3500 cl

3857 centilitros a litros

38,75 l

3,875 l

0,3875 l

287 decalitros a kilolitros

28,7 kl

2,87 kl

2870 kl