



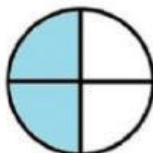
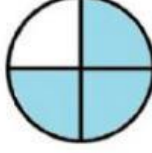








Lembar Kerja Peserta Didik

PECAHAN



NAMA :

Bandingkan pecahan berikut (Berilah tanda <, >, atau =)

  $\frac{1}{2}$ <input type="text"/> $\frac{1}{3}$	  $\frac{2}{4}$ <input type="text"/> $\frac{3}{4}$
  $\frac{2}{4}$ <input type="text"/> $\frac{2}{3}$	  $\frac{2}{4}$ <input type="text"/> $\frac{4}{8}$
  $\frac{1}{2}$ <input type="text"/> $\frac{2}{4}$	  $\frac{3}{4}$ <input type="text"/> $\frac{4}{5}$

Menjodohkan

PECAHAN YANG MELAMBANGKAN
MASING-MASING GAMBAR.

