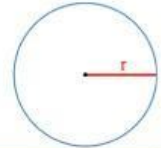
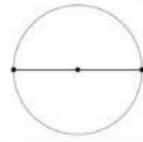
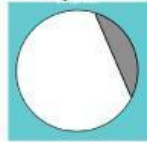


Nama :

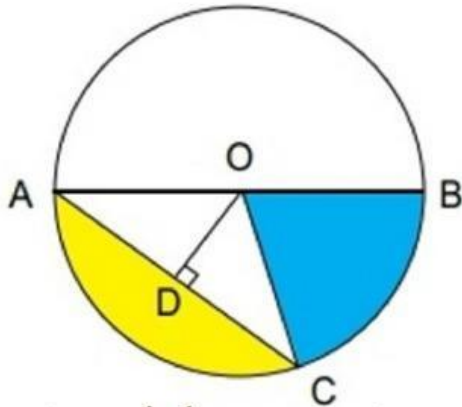
Tanggal :

## UNSUR-UNSUR LINGKARAN

1. Isilah nama bagian pada lingkaran berikut !



2. Perhatikan gambar lingkaran berikut ini !



Centanglah pernyataan berikut

| Pernyataan                        | Benar | Salah |
|-----------------------------------|-------|-------|
| Daerah warna kuning adalah juring |       |       |
| Daerah warna biru adalah juring   |       |       |
| OB adalah jari-jari               |       |       |
| OD adalah diameter                |       |       |
| AB adalah diameter                |       |       |