

**EL MOVIMIENTO Y LA PALANCA**

1.- Completa el siguiente cuadro; en la primera línea escribe las frases siguientes, en el espacio correcto.




F = fuerza    R= resistencia    PA= punto de apoyo o fulcro

La F está entre R y el PA

El PA está entre F y R

La R está entre el PA y F

En la segunda línea escribe Dibujo 1, en la columna que corresponda de acuerdo con el punto de apoyo (PA), la resistencia (R) y la fuerza (F):

Primer género	Segundo género	Tercer género
 <p>Dibujo 1</p>	 <p>Dibujo 2</p>	 <p>Dibujo 3</p>

2.- De acuerdo con el lugar donde se encuentra el punto de apoyo, la fuerza y la resistencia, identifica las palancas escribiendo cuál es de primer género, cuál de segundo género y cuál de tercer género

