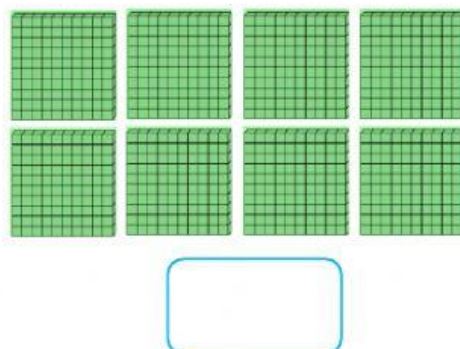
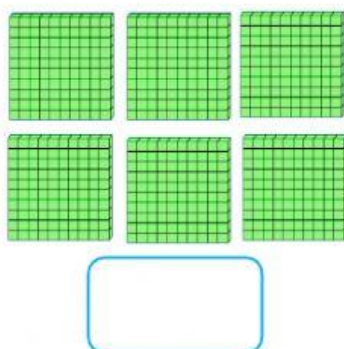
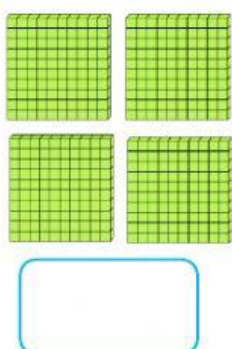


PRODUCCIÓN #1

1. Cuenta las estrellas de 5 en 5



2. Escriba el número que se representa en cada caso.



3. Elige las expresiones que representan la misma cantidad.

20 U	2 C	2 D	2 U
4 C	40 U	4 U	400 U
9 U	9	900	90
8 D	80 U	8 U	800 U
600 U	60 U	6 D	6 C