

**E-LKPD**

**KELAS 3**

**TEMA 5  
SUBTEMA  
1, 2 DAN 3**




**Nama : .....**

**NO ABSEN : .....**

***DISUSUN OLEH :  
KETUT SURSIH***





Di dalam E-LKPD ini terdapat 3 sub tema seputar cuaca dengan berbagai petunjuk yang akan mengarahkan kamu untuk menjawab pertanyaan.

Selamat Mengerjakan



Mari kita mulai dari sub tema I

Satuan Pendidikan : SD Negeri I  
Sangsit

Kelas : 3 / iii

Semester : 2

Tema : 5 Cuaca

Subtema : I Keadaan Cuaca

Alokasi waktu : 15 Menit

Hari/Tanggal :

Mari kehalaman berikutnya  
untuk bermain tebak-tebakan !



# LKPD

## TEMA 5 SUBTEMA 1.2 DAN 3

### KOMPETENSI DASAR

3.3 Menggali informasi tentang perubahan cuaca dan pengaruhnya terhadap kehidupan manusia yang disajikan dalam bentuk lisan, tulis, visual, dan/atau eksplorasi lingkungan.

4.3 Menyajikan hasil penggalan informasi tentang konsep perubahan cuaca dan pengaruhnya terhadap kehidupan manusia dalam bentuk tulis menggunakan kosakata baku dan kalimat efektif.

### TUJUAN

1. Dengan membaca teks, siswa dapat mengidentifikasi informasi mengenai keadaan cuaca dengan benar.
2. Dengan menuliskan pokok-pokok informasi dari teks, siswa dapat menggunakan kosakata baku mengenai keadaan cuaca dalam kalimat yang efektif.

### PETUNJUK

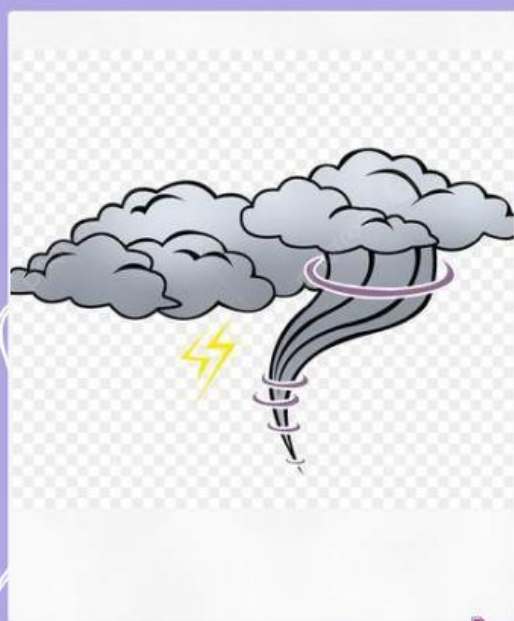

1. Isilah identitasmu
2. Amatilah setiap petunjuk yang terdapat pada lembar tersebut
3. Simaklah semuanya dengan cermat!
4. Kerjakanlah dengan baik
5. Silahkan bertanya jika ada yang belum kamu pahami







**Ayo tebak keadaan cuaca pada gambar dibawah ini!**  
**Pilihannya sudah ibu jelaskan**



# LKPD

**Satuan Pendidikan : SD Negeri 1 Sangsit**

**Kelas : III / 3**

**Semester : 2**

**Tema : 5. Cuaca**

**Subtema : 3. Keadaan Cuaca**

**Alokasi Waktu : 15 Menit**

# LKPD

## SOAL PERTANYAAN URAIAN

Jawablah soal dibawah ini dengan memilih jawaban a,b atau c yang kamu anggap benar!!!

**1. Pada pagi hari cuacanya cerah, namun pada siang hari terjadi hujan. Hal ini menandakan bahwa....**

- a. Waktu pagi hari biasanya cerah**
- b. Hujan selalu datang di siang hari**
- c. Cuaca dapat berubah-ubah**

**2. Berikut ini adalah tanda-tanda akan turun hujan, kecuali.....**

- a. Langit cerah**
- b. Langit Berawan**
- c. Terdengar guruh**

**3. Fenomena indah yang biasa muncul setelah hujan adalah.....**

- a. Langit cerah**
- b. Pelangi**
- C. Angin seoi-sepoi**



# LKPD

## SOAL PERTANYAAN URAIAN

Jawablah soal dibawah ini dengan memilih jawaban a,b atau c yang kamu anggap benar!!!

**4. Kamu ingin pergi keluar, tetapi matahari sedang panas terik. kamu memerlukan .....**

**a.**



**b.**



**c.**



**5. Cuaca panas ialah...**

**a. Matahari bersinar terang sehingga udara menjadi panas**

**b. Awan berkumpul menutupi sinar matahari**

**c. Turun rintik-rintik air**

**6. Jika akan hujan maka biasanya akan dimulai dengan terlihatnya ....**

**a. Pelangi**

**b. Mendung**

**c. Bintang**

# LKPD

## SOAL PERTANYAAN URAIAN

Jawablah soal dibawah ini dengan memilih jawaban a,b atau c yang kamu anggap benar!!!

**7. Eko dan Edo dapat bermain bola dengan mudah ketika cuaca ....**

- a. Mendung**
- b. Hujan**
- c. Cerah**

**8. Cuaca di muka bumi bersifat ....**

- a. Tetap**
- b. Berubah-ubah**
- c. Merusak**





# LEMBAR KERJA PESERTA DIDIK

Satuan Pendidikan : SD Negeri 1 Sangsit  
Kelas : 3  
Semester : 2  
Tema : 5 (Cuaca)  
Subtema : 3 (Pengaruh perubahan cuaca terhadap kehidupan manusia)  
Alokasi Waktu : 15 Menit  
Hari/Tanggal :





# Menjodohkan

Pada subtema sebelum nya kamu telah mengetahui bahwa cuaca itu dapat berubah-ubah. Sekarang, pasangkanlah kegiatan yang cocok untuk dilakukan sesuai cuacanya. Dengan cara menarin garis!





# LKPD

Amati gambar dibawah in!



**Es Cendol**



**Topi Pantai**



**Bakso**



**Kipas angin**



**Jaket**



**Kipas**



**Payung**



**Teh hangat**



**Selimut**



**Es kelapa**



**Jas Hujan**



**Es Jeruk**



**Topi**



**Mie ayam**



**LENGKAPILAH TABEL DIBAWAH INI DENGAN NAMA-NAMA BENDA, MINUMAN DAN MAKANAN SESUAI DENGAN KEADAAN CUACANYA BERDASARKAN GAMBAR BENDA, MINUMAN DAN MAKANAN YANG TELAH KAMU AMATI DIATAS**

NO	KELENGKAPAN CUACA PANAS	KELENGKAPAN CUACA HUJAN
1		
2		
3		
4		
5		
6		
7		