

MEDIA PEMBELAJARAN MATEMATIKA

Oleh : Hikmah Ariyanti Utami 2252000058 3B PGSD
UVBN



Untuk Kelas
2 SD/MI

MATERI PEMBELAJARAN + Dan -

Materi penjumlahan dan pengurangan bisa diterapkan pada bilangan bulat dan cacah. Penjumlahan dan Pengurangan adalah bagian dari operasi Matematika.

Caranya adalah dengan menjumlahkan suatu angka dengan angka lainnya dan menghasilkan nilai tertentu yang sifatnya pasti. Adapun simbol yang digunakan dalam penjumlahan adalah (+).

Sedangkan pengertian pengurangan adalah mengurangi suatu angka dengan angka lainnya dan termasuk dalam operasi aritmatika dan dilambangkan dengan tanda (-). Berikut ini cara menghitung penjumlahan beserta pengurangan dalam Matematika.

CAPAIAN PEMBELAJARAN DENGAN MEDIA INI

Kegiatan ini bertujuan agar siswa mampu melakukan penjumlahan dan pengurangan dua atau lebih bilangan hingga 99. Dicontohkan dengan gambar / simbol berikut.....



= 10



= 50



= 6



= 18


Maka,



+



-






=

14

**KERJAKAN SOAL BERIKUT DENGAN MEMILIH OPSI DI TITIK-TITIK
YANG BENAR**

***Perhatikan Gambar dan Arti Dari Tiap Buah ini untuk menjawab soal**

	= 5		= 25		= 50
---	-----	---	------	---	------

1.  +  -  =

2.  +  +  =

3.  +  -  =

4.  -  +  =

5.  -  +  =

KERJAKAN SOAL CERITA BERIKUT


Perhatikan Keterangan dan Soal cerita, Pada beberapa pertanyaan dibawah akan ada beberapa gambar yang akan menentukan jawaban mu

*Bacalah cerita dibawah ini untuk dapat mengisi titik-titik dengan gambar..... Yaitu Jawaban yang benar

Anton adalah anak yang suka memelihara hewan... Awalnya Anton Memiliki **5 Ikan** dalam Akuarium, **10 Kupu-Kupu** dalam Sangkarnya dan **3 Kelinci** dalam Rumahnya

Disaat Anton berulang tahun, Ayahnya membelikan Anton **3 Ikan**, **5 Kupu-Kupu** dan **2 Kelinci Baru**... Tidak lama kemudian **1 Ikan** Anton mati karena stres, begitu juga dengan **3 Kelinci** Anton mati karena diserang **tikus** dan Kupu-Kupu Anton mati semua dimakan **burung**.

1. Jumlah ikan yang tersisa adalah?



2. Jika tidak diserang tikus, Berapakah Kelinci Anton?



3. Kupu-kupu Anton yang tersisa adalah?



0

7

5