


	Nama :	Paraf Orang Tua
	Kelas :	
	Hari/Tanggal :	
PENILAIAN AKHIR SEMESTER 1 KELAS 5 2023/2024		

Bacalah dengan cermat dan jawablah dengan singkat dan jelas!

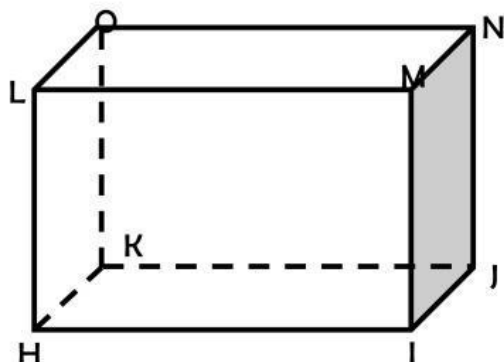
Rian bersama sedang bermain pantun dengan teman-temannya, pantun yang dibacakan Rian sebagai berikut:

Membuat manisan dari buah salak  
 Di jual dengan macam-macam harga  
 Jadi anak berbakti lah kepada ibu dan bapak  
 Agar kelak bisa masuk surga

Apa pesan yang terkandung dalam pantun yang dibacakan Rian!



Di Rumah Rian, ada sebuah kardus berbentuk balok. Kemudian Rian dan kawan-kawannya main tebak-tebakan seputar unsur-unsur balok. Rian menggambar kardus tersebut pada sebuah kertas yang bentuknya seperti ini:



Dimulai dari Rian, coba tuliskan 3 rusuk:

....., ....., .....


Kemudian Rini bertanya, tuliskan 3 diagonal ruang:

....., ....., .....

Sekarang giliranku sahut Umar, tuliskan 3 bidang diagonal:

....., ....., .....


Jika panjang kotak itu adalah 40 cm, lebar 30 cm dan tinggi 50 cm. Berapakah volume dari kotak tersebut?



Kardus tersebut adalah kardus yang biasa dibuat untuk berjualan Rubik. Ibunya Rian, ingin membuat grafik penjualan rubik selama satu bulan, data yang sudah dicatat adalah sebagai berikut:

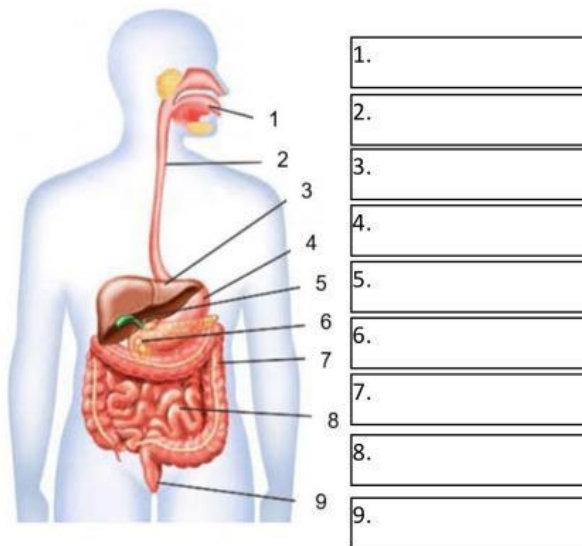
No	Minggu	Penjualan
1.	Minggu ke-1	20 buah
2.	Minggu ke-2	15 buah
3.	Minggu ke-3	30 buah
4.	Minggu ke-4	33 buah

Ayo bantu Ibunya Rian membuat diagram batangnya!  
Drag dan drop yang sesuai data di atas

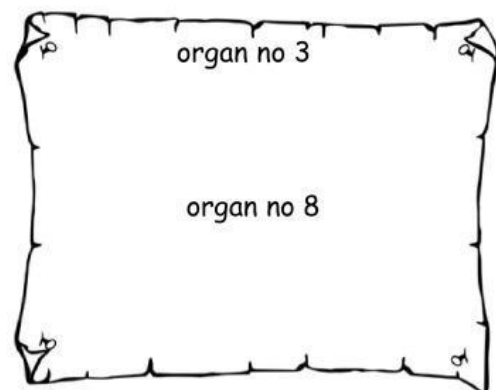


Tak terasa, jam sudah menunjuk jam 12 siang, Rian dan teman-temannya sudah mulai merasa lapar. Ibu Rian menyuguhkan makanan untuk dimakan bersama. Rian dan teman-temannya mulai makan dengan diawali membaca basmalah dan doa sebelum makan.

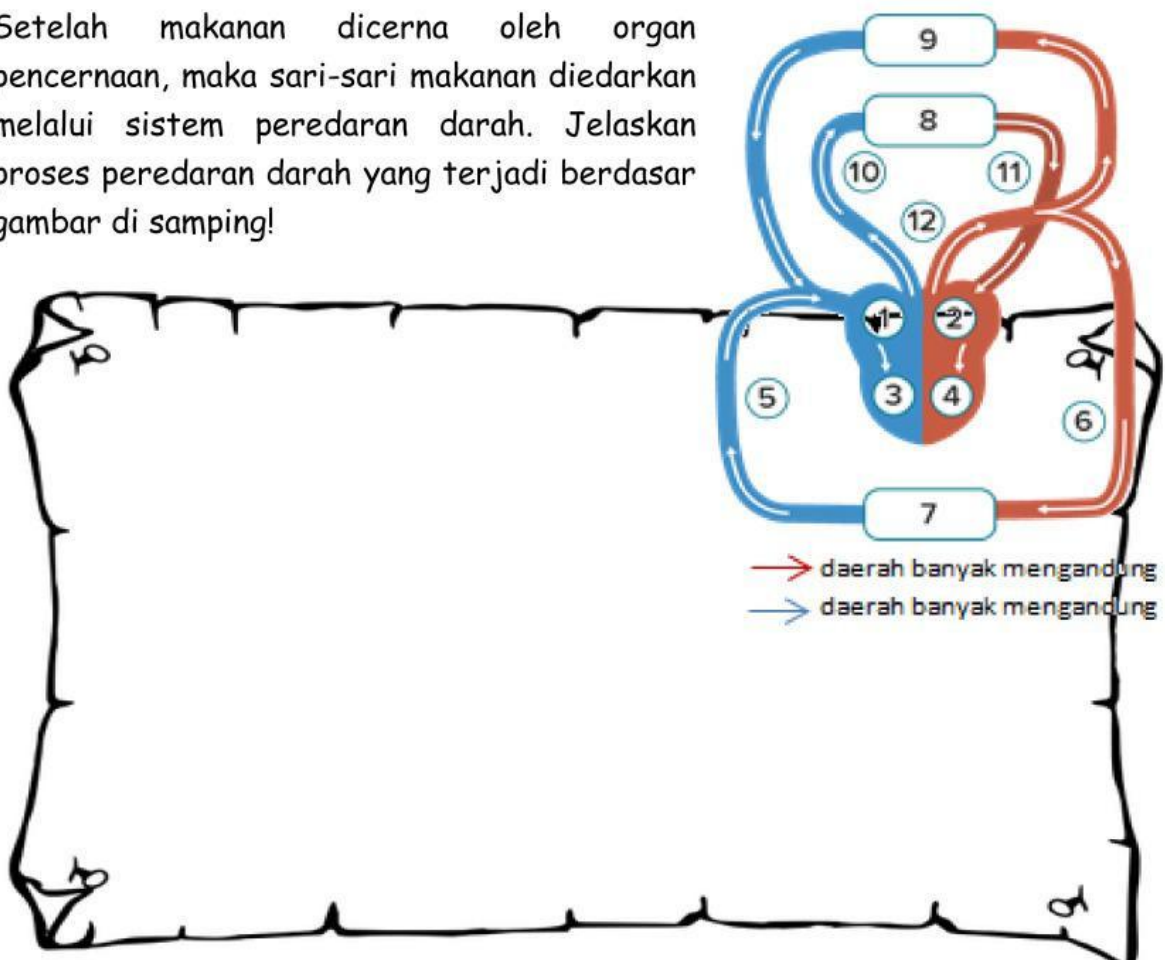
Ketika sebuah makanan dimakan oleh Rian, maka makanan tersebut akan masuk ke dalam organ pencernaan. Seperti gambar di bawah ini. Berilah keterangan dari masing-masing organ di bawah ini!




Jelaskan fungsi organ dari nomor 3 dan 8!



Setelah makanan dicerna oleh organ pencernaan, maka sari-sari makanan diedarkan melalui sistem peredaran darah. Jelaskan proses peredaran darah yang terjadi berdasar gambar di samping!



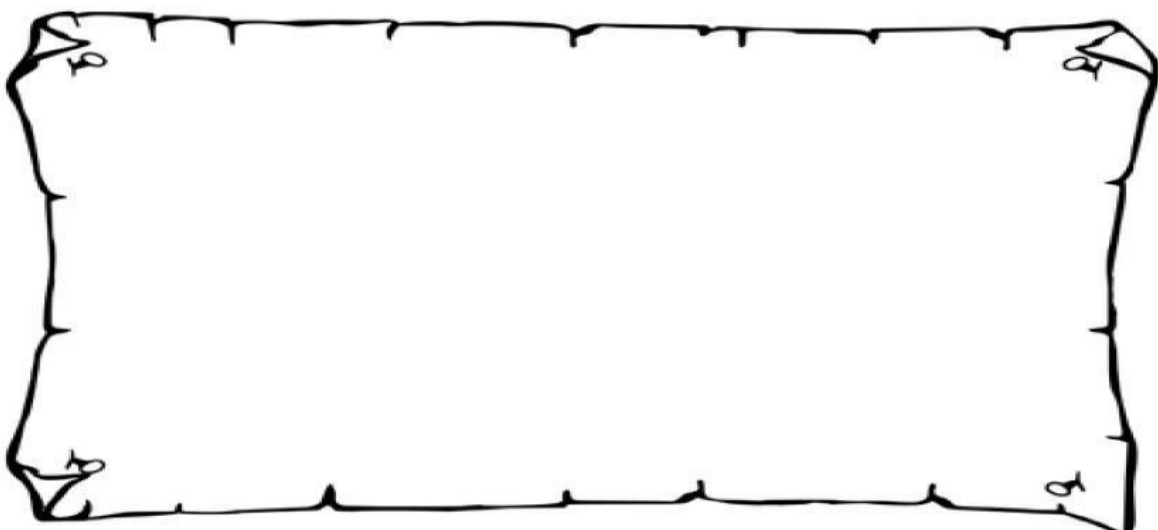
Di Sekolah, Rian senantiasa menunjukkan perilaku yang menerapkan nilai-nilai Pancasila sila ke-2. Sebutkan dan jelaskan perilaku yang menunjukkan nilai pancasila, sila ke-2!



Beberapa minggu yang lalu di sekolah Rian melaksanakan pemilu OSIS, dalam proses pemilihan tersebut apa yang menjadi Hak dan Kewajiban sebagai pemilih!

Hak	Kewajiban


Rian tinggal di negeri tercinta Indonesia, yang terdiri dari berbagai macam ras, suku, agama, dan bahasa. Hingga sekarang negeri kita masih bisa bersatu meski dengan berbagai macam perbedaan tersebut. Menurutmu, apa manfaat persatuan dan kesatuan bagi bangsa Indonesia?






Rian sering mendapat nasihat dari gurunya lewat kisah teladan dari para Nabi dan Rasul, diantaranya kisah Nabi Daud dan Nabi Sulaiman. Ceritakan keteladanan apa saja yang bisa kita tiru dari kedua Nabi tersebut!

Nabi Daud



Nabi Sulaiman



Selain kisah para nabi, Allah juga mengabadikan kisah sebuah keluarga yang sangat sholeh yang bernama keluarga Luqman. Dalam kisah Luqman, nilai-nilai keteladanan apa saja yang diajarkan?

