

**EVALUACIÓN DE CONOCIMIENTOS PREVIOS SECUNDARIA**

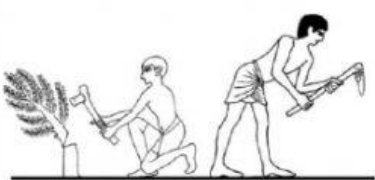

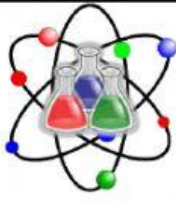
**1er AÑO DE ESCOLARIDAD TÉCNICA TECNOLÓGICA GENERAL C y T**

**NOMBRES APELLIDOS**.....

**UNIDAD EDUCATIVA**.....**FECHA:**.....

**Analizamos:** para iniciar esta nueva gestión necesitamos saber cómo estamos volviendo a clases y que recordamos. Por tanto iniciaremos realizando un diagnóstico de nuestros conocimientos, capacidades, habilidades y destrezas. Para ello te invitamos a que puedas responder las siguientes preguntas:

1. **Escribe debajo de cada imagen, cuál de las imágenes hace referencia a: Ciencia, técnica y tecnología**

		
<p>..... .....</p>	<p>..... .....</p>	<p>..... .....</p>

2. **¿En qué espacios crees que se utilizan la técnica?**

- a) En la elaboración de café
- b) En la siembra y la cosecha
- c) En taller de carpintería
- d) Todas las anteriores




3. **Una de las siguientes acepciones es tecnología:**

- a) Sembrado a mano
- b) Computadora
- c) Hortalizas
- d) Madera




4. **Una de ellas es tecnologías ancestrales:**

- a) El arado
- b) La computadora
- c) Televisor
- d) Tractor agrícola

5. **Marca con una (X) en donde se encuentra la materia prima:**

		
Naturaleza <input type="radio"/>	Fabrica <input type="radio"/>	Casa <input type="radio"/>

6. La materia prima se clasifica en:

		
Animal <input type="radio"/>	Vegetal <input type="radio"/>	Mineral

7. Subraya la respuesta correcta. Los materiales artificiales pueden ser:

- a) El plástico
- b) La madera
- c) La sábila
- d) El hierro