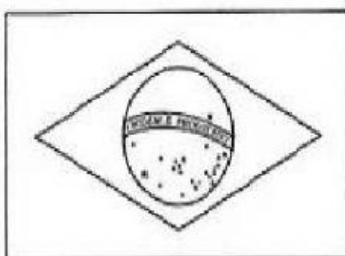


# LÍNGUA PORTUGUESA

## 🔊 CONHECENDO OS SÍMBOLOS



\_\_\_\_\_

\_\_\_\_\_

\_\_\_\_\_



\_\_\_\_\_

\_\_\_\_\_

\_\_\_\_\_



\_\_\_\_\_

\_\_\_\_\_

1) QUAIS OS SÍMBOLOS QUE EXISTEM NA SUA ESCOLA?

2) HÁ ALGUM SÍMBOLO EM SEU UNIFORME? O QUE ELE REPRESENTA?

TELEFONE PÚBLICO

PASSAGEM DE PEDESTRES

PROIBIDO FUMAR

PERMITIDO ESTACIONAR

PARE

RESERVADO

PROIBIDO CAMINHÕES



BANDEIRA DO BRASIL

# MATEMÁTICA

4	7	9	4	2
10	6	7		
8	3	9		
10	8	6		
7	9	10		
6	4	5		
8	7	8		
9	5	10		
3	8	6		
9	10	9		
5	8	7		1

2	1	1	1	1	2	1	3	4	4
4	2	4	4	2	3	1	3	2	2
3	2	4	4	4	3	2	4	4	3

Veja, no gráfico abaixo, quanto pesa cada brinquedo e, depois, responda:



A) Qual o brinquedo **mais pesado**?

- ☐ Boneca.
- ☐ Trem.
- ☐ Carrinho.

B) Quantos quilos pesam o **carrinho** e a **boneca** juntos?

- ☐ 12 quilos.
- ☐ 13 quilos.
- ☐ 14 quilos.

C) Qual a **diferença** de peso entre a **boneca** e o **ursinho**?

- ☐ 2 quilos.
- ☐ 3 quilos.
- ☐ 4 quilos.