
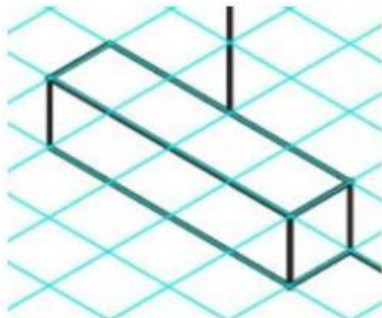


Ejercicio: Escalas sobre vista isométrica sin cotas

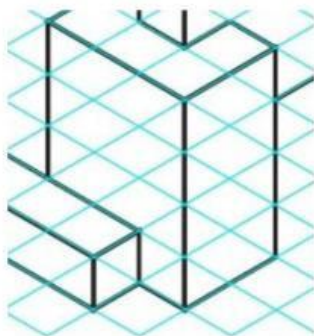
1. Suponga que la imagen inferior está representada en una escala 1:100. Ahora calcule el volumen de la figura inferior izquierda. (Cada cuadro isométrico representa un cm).



2. Suponga que la imagen inferior se encuentra representada en escala 1:1. ¿Cuánto mide de largo la pieza? (Cada cuadro isométrico representa un mm).



3. Suponga que la imagen inferior se encuentra representada en escala 2:1. ¿Cuánto mide de alto la pieza? (Cada cuadro isométrico representa 1 cm).



4. ¿Qué tipo de escala es la de la pregunta 1?
5. ¿Qué tipo de escala es la de la pregunta 2?