

LEMBAR KERJA PESERTA DIDIK (LKPD)

PERTEMUAN 1 : SIFAT BANGUN DATAR SEGIEMPAT BERATURAN



Nama kelompok :

Anggota kelompok : 1.
2.
3.
4.
5.

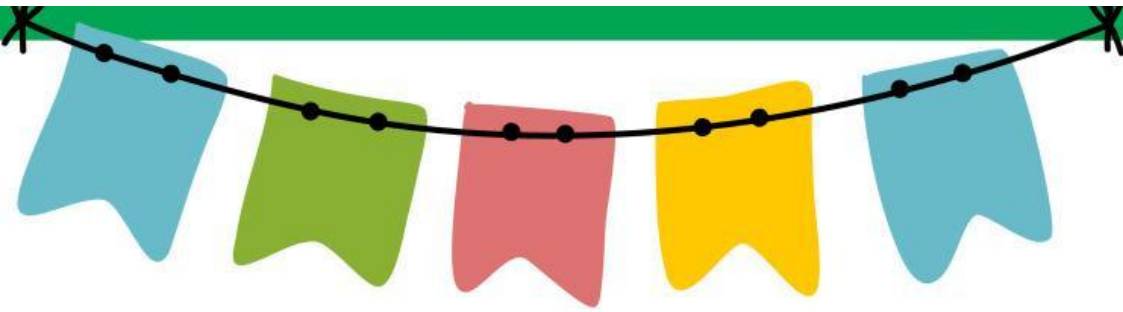
Tujuan

Dengan penugasan, peserta didik dapat menelaah sifat-sifat bangun datar segiempat beraturan yang ditemukan dalam kehidupan sehari-hari dengan benar.



Langkah Kerja

1. Siswa dibagi menjadi 4 kelompok.
2. Siswa duduk di kelompok yang telah ditentukan.
3. Siswa membaca petunjuk soal sesuai jenis soal yang diberikan
4. Siswa menyelesaikan soal berdasarkan petunjuk yang telah dibaca dan dipahami.
5. Siswa membuat kesimpulan.




LATIHAN SOAL

1. Perhatikan gambar di bawah ini!



Tono memiliki sebuah penghapus berbentuk jajargenjang. Bantulah Tono menemukan sifat-sifat jajargenjang berdasarkan gambar penghapus milik Tono tersebut!





2. Amin menemukan sebuah benda dengan ciri-ciri sebagai berikut :

- Memiliki 4 buah sisi sama panjang.
- Memiliki empat simetri lipat.
- Memiliki simetri putar tingkat empat.

Bantulah Amin menentukan nama bangun datar sesuai ciri benda yang ia temukan!

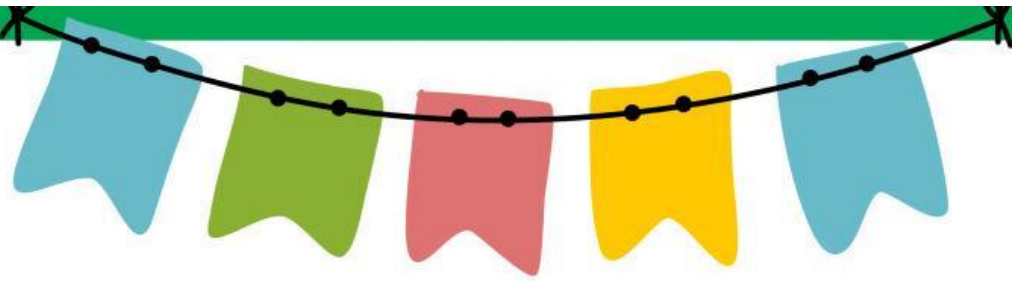


3. Perhatikan gambar di bawah ini!



Roni memiliki sebuah layangan. Bantulah Roni menemukan sifat-sifat layang-layang berdasarkan gambar layangan milik Roni tersebut!






4. Ani menemukan sebuah benda dengan ciri-ciri sebagai berikut :

- Memiliki sisi yang berhadapan sama panjang.
- Memiliki empat titik sudut yang sama besar yaitu 90°
- Memiliki empat dua diagonal yang sama panjang.
- Memiliki 3 simetri lipat.
- Memiliki simetri putar tingkat dua.

Bantulah Ani menentukan nama bangun datar sesuai ciri benda yang ia temukan!



5. Perhatikan gambar di bawah ini!



Ibu Tika memiliki sebuah ketupat yang berbentuk bangun datar belah ketupat. Bantulah Tika menemukan sifat-sifat belah ketupat berdasarkan gambar ketupat milik ibu Tika tersebut!

