

LKPD

Lembar Kerja Peserta Didik

"Pembagian Bilangan Cacah Sampai 100"

Nama Kelompok :

Anggota Kelompok :

- 1.
- 2.
- 3.
- 4.
- 5.

Tujuan


- Peserta didik mampu memahami operasi pembagian bilangan cacah sampai 100 menggunakan benda konkret, gambar dan simbol.
- Peserta didik dapat menentukan hasil operasi pembagian bilangan cacah sampai 100 dengan cara pembagian bersusun.
- Peserta didik dapat mampu menyelesaikan soal cerita tentang operasi pembagian bilangan cacah sampai 100.

Petunjuk


1. Simaklah arahan dari guru
2. Bacalah dengan teliti perintah yang ada pada lembaran ini
3. Isi data kelompok
4. Pahami soal yang ada di LKPD
5. Diskusikan dan kerjakan soal yang ada di LKPD secara berkelompok
6. Presentasikan hasil kerja kelompok dengan mengutus 1 orang perwakilan kelompok di depan kelas

Diskusikanlah Soal berikut dengan teman sekelompok mu

1. $84 : 6 = \dots\dots\dots$ Selesaikan pembagian ini dengan cara pembagian bersusun!




2. $64 : 4 = \dots\dots\dots$ Selesaikan pembagian ini dengan cara pembagian bersusun!



Diskusikanlah Soal berikut dengan teman sekelompok mu

3. Ibu mempunyai sebanyak 81 kue yang akan diletakkan pada kotak kue. Setiap kotak kue berisi 3 kue. Berapa kotak yang harus disiapkan ibu ?



4. Peternak ayam petelur hari ini mendapatkan 96 butir telur. Telur yang ada akan dimasukkan pada kotak telur sama rata, masing-masing kotak telur memuat 8 telur. Berapakah jumlah kotak telur yang diperlukan?

