



Nama:

IPAS

1. Bagian tumbuhan yang berfungsi untuk menyerap air dan unsur hara adalah.....
 2. Biji terdapat pada bagian tumbuhan yaitu
 3. Wortel adalah contoh dari umbi.....
 4. Zat hijau daun disebut
 5. Bunga yang memiliki bagian lengkap disebut bunga.....
 6. Zat yang tidak diperlukan untuk fotosintesis adalah...
-
- 7. Bagian tumbuhan yang berguna untuk proses fotosintesis adalah.....

- 
- 8. Perubahan wujud benda dari Gas menjadi padat disebut...



- 
- 9. Menguap adalah perubahan benda dari cair menjadi.....



- 10. Bagian bunga yang berfungsi sebagai alat kelamin betina adalah.....

untuk soal 11-15 jawaban boleh lebih dari satu.

11. ✨ Zat yang dibutuhkan dalam proses Fotosintesis adalah.....

- Oksigen
- Karbondioksida
- Air
- cahaya Matahari

12. Perubahan wujud benda yang dapat terjadi dari Gas dan Padat adalah.....


- Menguap
- Mencair
- Mengkristal
- Menyublim

13. Bagian bunga yang berfungsi sebagai alat kelamin jantan dan betina adalah....

- Kelopak
- Putik
- Benang sari
- Mahkota



14. Manakah yang merupakan Perkembangbiakan vegetatif pada tumbuhan...

- Biji ✨
 - Cangkok
 - Tunas
 - Stek
- 

15. Bentuk tulang daun pada tumbuhan diantaranya..... ✨

- Bulat
- Oval
- Sejajar
- Menjari