

LEMBAR KERJA PESERTA DIDIK KELOMPOK

MATEMATIKA KELAS 1 SEMESTER 1
PENJUMLAHAN SAMPAI DENGAN 10

Nama Kelompok :

Nama Anggota Kelompok :

- 1.
- 2.
- 3.

Tujuan :


Untuk lebih memahami penjumlahan sampai dengan 10 serta dapat menyelesaikan masalah di kehidupan sehari-hari yang berkaitan dengan penjumlahan sampai dengan 10.

Langkah Kerja :

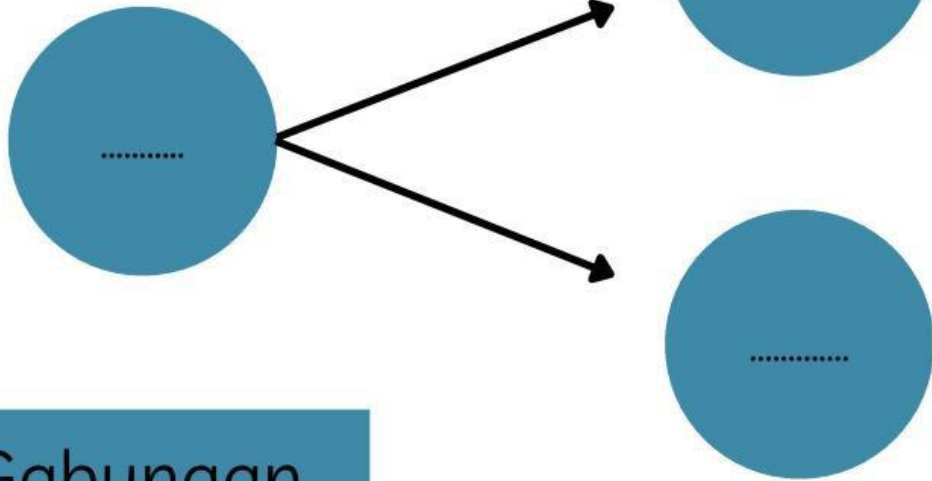
- a. Silahkan duduk secara berkelompok
- b. Setelah itu, silahkan baca dan pahami secara seksama LKPD yang dibagikan oleh guru.
- c. Kemudian, jika ada yang diragukan silahkan bertanya.
- d. Jika tidak ada, silahkan diskusikan untuk menyelesaikan LKPD yang diberikan guru dengan perintahnya masing-masing dengan baik dan benar!

Isilah titik-titik i bawah ini dengan
bilangan yang tepat !

1.



Sebagian




Gabungan

Sebagian

Operasi Penjumlahannya adalah.....

Lengkapilah setiap kalimat dengan
bilangan yang benar !

2.



Ada.....buah pisang

Ada.....buah apel.

Semuanya ada.....buah

Operasi Penjumlahannya yaitu :

Jawablah pertanyaan dibawah ini
dengan tepat!

3. Bima berada di angka 2. Bima meloncat empat langkah ke depan. Di angka berapakah Bima sekarang ?

Operasi Penjumlahannya :

Jadi, Bima sekarang berada di
angka

Kesimpulan :

SELAMAT
MENGERJAKAN