

SDN NO.21 BATANG LAMPE

TEMA

3

SOAL PAS

SEMESTER 1 TP.2023/2024



Wahyunita,S.Pd.Gr

LIVEWORKSHEETS



PEMERINTAH KABUPATEN SINJAI
DINAS PENDIDIKAN
SEKOLAH DASAR NEGERI NO. 21 BATANGLAMPE
 Alamat: Dusun Pulau Batanglampe Desa Pulau Padaelo Kec. Pulau Sembilan Kab. Sinjai

SOAL PENILAIAN AKHIR SEMESTER GANJIL
TAHUN PELAJARAN 2023/2024

Tema : 3 (Tiga) Nama :
 Alokasi Waktu : 60 Menit Kelas : V (Lima)

Jawablah pertanyaan dibawah ini dengan benar!

■ **Pilihan Ganda Kompleks**

Perhatikan iklan di bawah ini!



1. Berilah tanda centang pada kolom benar salah berdasarkan iklan di atas!

No.	Pernyataan	Benar	Salah
1.	Hari demam berdarah Nasional diperingati tanggal 22 April		
2.	Cegah Demam Berdarah dengan 4 M		
3.	Kita harus Membuka tempat penampungan air		
4.	Sebaiknya kita menggunakan kelambu saat tidur		

2. Berilah tanda centang pada asal daerah yang sesuai dengan nama tari berikut!

No.	Nama tari	Jawa barat	Jawa timur
1.	Tari Reog		
2.	Tari Jaipong		
3.	Tari Topeng		
4.	Tari Kuda Lumping		

3. Beri tanda Centang (✓) pada jawaban yang benar, pernyataan yang termasuk ciri -ciri lagu dengan tangga nada mayor !

- ☐ Lagu bersifat riang gembira
- ☐ Terdengar kurang bersemangat
- ☐ Umumnya diawali dan diakhiri dengan nada Do
- ☐ Umumnya diawali dan diakhiri nada La



4. Gambar di atas menunjukkan suasana kerjasama dalam keberagaman di tengah masyarakat !

Berikan tanda centang (✓) pernyataan yang benar tentang manfaat yang didapatkan dari kerjasama dalam keberagaman seperti pada gambar di atas !

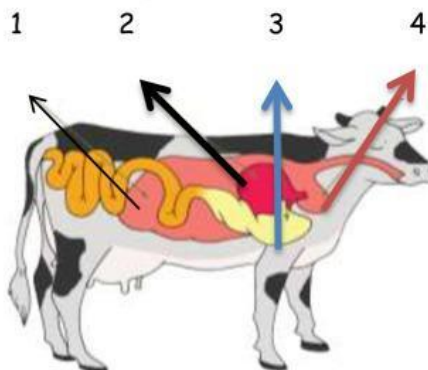
- ☐ Terjalin hubungan harmonis antar sesama warga
- ☐ Muncul rasa percaya antar sesama keluarga
- ☐ Lingkungan sekitar kita akan bersih dan sehat
- ☐ Waktu bersantai berkurang karena harus bergotong royong

■ Pilihan ganda

5. Upacara kematian yang dilakukan oleh masyarakat tana toraja disebut

- A. Khitanan
- B. Mappabboting
- C. Rambu Tuka
- D. Rambu Solo

6. Perhatikan Gambar di bawah ini !



Bagian lambung sapi pada gambar di atas ditunjukkan nomor...

- A. 1
 - B. 2
 - C. 3
 - D. 4
7. Iklan yang biasa disajikan dalam televisi termasuk iklan
- A. Media cetak
 - B. Majalah
 - C. Media elektronik
 - D. Surat kabar

8. Perhatikan iklan berikut !



Tubuh kita dalam sehari membutuhkan air sebanyak ...

- A. 22 liter setiap hari
- B. 2 - 2,5 liter setiap hari
- C. 7 gelas setiap hari
- D. 8 - 15 gelas setiap hari

■ Menjodohkan

9. Hubungkan gambar batik di bawah ini sesuai dengan nama batik sehingga menjadi satu kesatuan yang utuh.



Motif batik Yogyakarta Ceplok

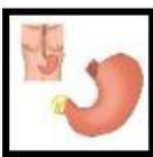


Motif batik Solo Parang Kusumo

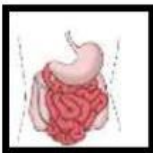


Motif batik Pekalongan

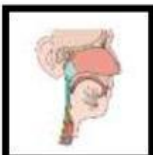
10. Pasangkan gambar alat pencernaan di bawah ini dengan fungsinya



Memecah dan menyerap nutrisi dari makanan maupun minuman yang dikonsumsi



Membawa makanan ke perut dan trakea yang membawa udara ke paru-paru



Tempat proses pemecahan makanan menjadi sari-sari makanan

11. Bacalah teks berikut!

Sistem pencernaan manusia terdiri atas berbagai macam organ di dalam tubuh kita. Sistem tersebut berfungsi untuk menyerap sari-sari makanan yang digunakan oleh tubuh. Namun, apabila salah satu organ pencernaan mengalami gangguan, kerja sistem pencernaan pun akan terganggu. Salah satu contoh gangguan sistem pencernaan Maag.

Berdasarkan teks di atas, pasangkan pernyataan dengan benar tentang jenis penyakit sistem pencernaan dan penyebabnya!

Diare	•	•	Luka karena tergigit, kekurangan vitamin C atau infeksi oleh bakteri.
Sariawan	•	•	Adanya infeksi virus atau bakteri di saluran cerna. Infeksi virus atau bakteri tersebut bisa terjadi karena adanya kontaminasi pada makanan atau minuman yang dikonsumsi
Maag	•	•	Adanya peningkatan kadar asam lambung, pola makan yang tidak teratur atau infeksi bakteri.

12. Bacalah teks berikut!

Lambung sapi berbeda dengan lambung manusia, ukurannya jauh lebih besar. Lambung sapi merupakan organ pencernaan yang sangat penting bagi sapi. Lambung sapi terdiri atas empat bagian, yaitu rumen, retikulum, omasum dan abomasum. Oleh karena itu, sapi dikatakan memiliki empat perut.

Berdasarkan teks di atas, pasangkanlah bagian-bagian lambung sapi sesuai dengan proses pencernaannya!

Rumen	•	•	Makanan kembali mengalami proses fermentasi dengan bantuan bakteri anaerob dan protozoa
Retikulum	•	•	Makanan dicerna dengan bantuan enzim pencernaan pepsin
Omasum	•	•	Tempat terjadinya pencernaan dengan bantuan mikroba (bakteri)
Abomasum	•	•	Makanan dicerna dengan bantuan enzim pencernaan

■ Essay

13. Apa yang dimaksud dengan interaksi sosial ?

Jawab :

14. Dalam pemenuhan makanan, manusia tidak bekerja sendiri. Contohnya dalam budidaya padi, budidaya hewan maka manusia harus melakukan interaksi sosial dengan lingkungan alam.

Tuliskan 2 contoh interaksi sosial manusia dengan lingkungan alam dalam memenuhi kebutuhan makanan sehari-hari !

Jawab :

15. Tuliskan pengertian semboyan "Bhineka Tunggal Ika"

Jawab :

16. Perhatikan iklan di bawah ini !



Berdasarkan iklan di atas tuliskan 5 perilaku hidup bersih yang harus kita lakukan agar kita sehat !

Jawab :

■ Isian

17. Berdasarkan gambar di bawah ini merupakan contoh interaksi sosial dalam.....



18. Perhatikan gambar berikut!



Berdasarkan gambar di atas, tari kipas pakarena berasal dari daerah ...

19. Sikap Saling tolong menolong antar tetangga merupakan wujud hidup rukun di lingkungan ...

20. Bacalah teks berikut!

Dalam Pancasila yang merupakan pedoman hidup bangsa, persatuan dan kesatuan Indonesia disebutkan dalam sila ke-3. Contoh sikap memperkuat persatuan dan kesatuan bangsa dapat dilakukan dengan menanamkan sikap gotong royong, menanamkan sifat tolong menolong, musyawarah dalam pengambilan keputusan dan lain lain.

Berdasarkan teks di atas, cara untuk menjaga persatuan dan kesatuan dalam lingkungan masyarakat adalah ...