


1. ¿CUÁNTAS MANZANAS HAY EN CADA CAJA? COMPLETA.



6

+



=

8

→

8	
6	



+



=

8

→

8	



7

+




=


8

→

8	



+



4

=

8

→

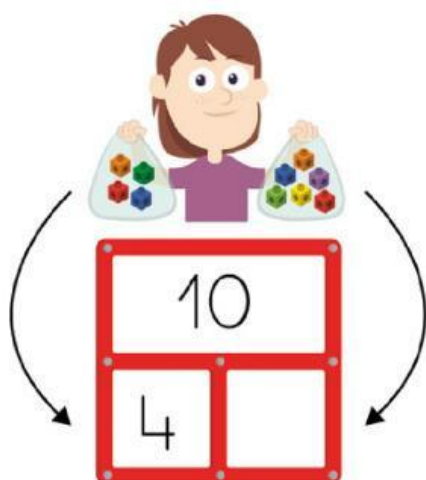
8	

34 treinta y cuatro

FECHA:



2. CADA NIÑO TIENE 10 CUBITOS EN TOTAL. ¿CUÁNTOS CUBITOS HAY EN CADA BOLSA? COMPLETA.



3. CADA NIÑO TIENE 10 CUBITOS EN TOTAL. ¿CUÁNTOS CUBITOS HAY ESCONDIDOS EN CADA BOLSA OPACA? COMPLETA.



$$\begin{array}{r} 10 - 5 = \text{-----} \\ 10 = 5 + \text{-----} \end{array}$$



$$\begin{array}{r} 10 - 1 = \text{-----} \\ 10 = 1 + \text{-----} \end{array}$$

35 treinta y cinco