




BANGUN DATAR

KELAS 3 SD

Soal 1



Gambar bangun di samping adalah gambar bangun

- a. Persegi panjang
- b. Persegi
- c. Segitiga
- d. Trapesium

Soal 2

Bangun yang memiliki
3 sisi dan 3 sudut
adalah

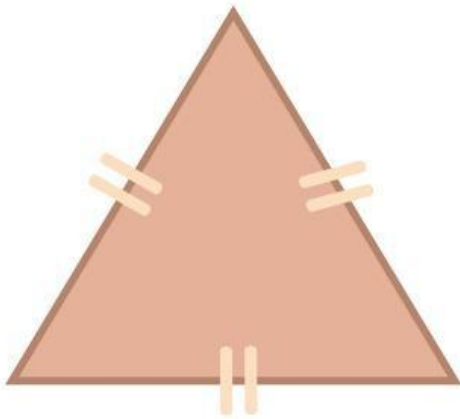
- a. Trapesium
- b. Persegi
- c. Segitiga
- d. Persegi panjang

SOAL 3

**Bangun yang memiliki 4 sisi,
2 pasang sisi sama
panjang, dan memiliki 4
sudut yang sama besar
adalah**

- a. Persegi**
- b. Trapesium**
- c. Layang-layang**
- d. Persegi panjang**

Soal 4



Gambar bangun di samping ini adalah gambar bangun

- a. Segitiga sama sisi
- b. Segitiga siku-siku
- c. Segitiga sama kaki
- d. Segitiga sembarang

SOAL 5

**Bentuk buku gambar
biasanya berbentuk**



- a. Persegi
- b. Segitiga
- c. Layang-Layang
- d. Persegi panjang

Soal 6




Gambar di samping merupakan gambar bangun

- a. Jajar genjang
- b. Belah ketupat
- c. Layang-layang
- d. Trapesium

SOAL 7

Manakah gambar berikut yang merupakan bangun jajar genjang?




a



b

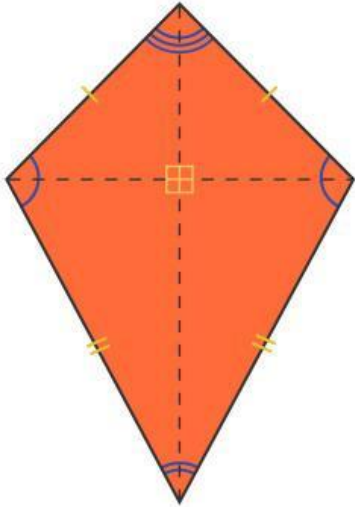


c



d

Soal 8



Gambar bangun di samping adalah

- a. Layang layang
- b. Belah ketupat
- c. Trapesium
- d. Jajar genjang

SOAL 9

**Bangun persegi
panjang mempunyai
.... sisi.**

- a. 2**
- b. 3**
- c. 4**
- d. 5**

Soal 10

Bangun yang memiliki 4 sisi yang sama panjang, memiliki 2 pasang sudut sama besar, dan memiliki diagonal– diagonal saling tegak lurus adalah ...

- a. Persegi
- b. Belah Ketupat
- c. Layang–layang
- d. Persegi panjang



Guessing Game

**THANK YOU FOR
PLAYING!**

 **LIVEWORKSHEETS**