



**PEMERINTAH DAERAH KOTA CIMAHI**  
**DINAS PENDIDIKAN**  
**SD NEGERI CITEUREUP MANDIRI 3**

Jl. Encep Kartawiria No.49 Kel. Citeureup Kec. Cimahi Utara Kota Cimahi 40512  
Telp. 022-87774326 Email: [sdnciteureupmandiri3@gmail.com](mailto:sdnciteureupmandiri3@gmail.com)



Tema 2	: Persatuan dalam Perbedaan	Nama	: .....
Hari, Tanggal	:	No. Induk	: .....
Waktu	: 2 x 35 m		

**I. Berilah tanda silang (X) pada pilihan jawaban A, B, C, atau D yang paling tepat!**

1. Riyanto dan teman-teman suka bermain sepak bola. Meskipun berbeda suku bangsa, mereka selalu bermain dengan kompak, tidak membedakan satu sama lain, dan tidak pernah saling menyalahkan. Karena itulah mereka sering menjadi pemenang di setiap pertandingan. Berdasarkan cerita tersebut perilaku Riyanto dan teman-temannya sesuai dengan sila ....

A. ketiga	C. keempat
B. kedua	D. kelima

2. Perhatikan gambar berikut !



Sikap saling menghargai, menghormati, serta menyayangi antara sesama manusia tanpa memandang perbedaan seperti yang ditunjukkan pada gambar di atas menunjukkan sikap....

A. toleransi	C. disintegrasi
B. kolaborasi	D. sosialisasi

3. "Rasa persatuan dan kesatuan menjalin rasa kebersamaan dan saling melengkapi antara satu dengan yang lain, Menjalin rasa kemanusiaan dan sikap saling toleransi serta rasa harmonis untuk hidup berdampingan, dan Menjalin rasa persahabatan, kekeluargaan, dan sikap tolong menolong antar sesama, serta sikap nasionalisme." Penjelasan di atas merupakan makna dari ...

A. persatuan dan kesatuan	C. kebangsaan
B. kewarganegaraan	D. bhineka tunggal ika

4. Perhatikan gambar berikut!



Berdasarkan gambar di samping sikap yang sesuai dengan persatuan kesatuan ditunjukkan oleh gambar nomor....

A. 1 dan 2  
B. 2 dan 5  
C. 3 dan 4  
D. 1 dan 4

- 5.



Warga RT 06/04 kerjasama membangun gapura, dengan kerjasama gapura tersebut dapat diselesaikan dalam waktu dua hari

Berdasarkan ilustrasi di samping salah satu manfaat dari kerjasama adalah....

A. pekerjaan akan lebih cepat selesai  
B. mempererat kerukunan  
C. Menjaga komunikasi antar warga  
D. Hasil pekerjaan akan lebih bagus



6. Perhatikan kalimat berikut!

Pertanyaan :... pemuda Indonesia bertempur dengan pasukan Inggris?

Jawaban : Pemuda Indonesia bertempur melawan pasukan Inggris di Surabaya.

Kata tanya yang tepat sesuai informasi pada jawaban tersebut adalah ....

A. Kemana  
B. Dimana  
C. Kapan  
D. Bagaimana


7. Perhatikan teks sejarah berikut!  
Latar belakang para pahlawan kemerdekaan Indonesia berasal dari sukubangsa yang berbeda-beda. Perbedaan tersebut tidak melemahkan semangat mereka untuk bersatu melawan penjajah. Para pahlawan memiliki keahlian yang berbeda-beda. Ada yang memiliki kemampuan menggunakan senjata dan bela diri. Ada pula yang memiliki kemampuan negosiasi atau orasi. Perbedaan keahlian tersebut mereka gunakan untuk tujuan menggapai kemerdekaan Indonesia.  
Informasi penting paragraf pada teks sejarah tersebut adalah ....  
A. perbedaan latar belakang para pahlawan kemerdekaan.  
B. tujuan para pahlawan kemerdekaan.  
C. kemampuan setiap pahlawan kemerdekaan  
D. upaya mencapai kemerdekaan Indonesia
8. Perhatikan paragraf berikut!  
Achmad Soebarjo lahir di Karawang, 23 Maret 1896 dan wafat pada 15 Desember 1978. Achmad Soebardjo menjabat sebagai Menteri Luar Negeri Indonesia yang pertama. Achmad Soebardjo merupakan perwakilan dari golongan tua pada saat proklamasi. Beliau ikut menyusun konsep teks proklamasi bersama Bung Karno dan Bung Hatta.  
Pertanyaan yang tepat sesuai isi paragraf tersebut adalah ....  
A. Mengapa Achmad Soebardjo terpilih sebagai Menteri Luar Negeri Indonesia yang pertama?  
B. Bagaimana peran Achmad Soebardjo saat menjadi Menteri Luar Negeri?  
C. Di mana Achmad Soebardjo meninggal?  
D. Apa peran Achmad Soebardjo dalam mempersiapkan proklamasi kemerdekaan Indonesia?
9. Penggunaan kata apa, siapa, dimana dalam sebuah kalimat merupakan ciri kalimat....  
A. tanya C. ajakan  
B. sapaan D. seruan
10. Perhatikan teks sejarah berikut!  
Latar belakang para pahlawan kemerdekaan Indonesia berasal dari sukubangsa yang berbeda-beda. Perbedaan tersebut tidak melemahkan semangat mereka untuk bersatu melawan penjajah. Para pahlawan memiliki keahlian yang berbeda-beda. Ada yang memiliki kemampuan menggunakan senjata dan bela diri. Ada pula yang memiliki kemampuan negosiasi atau orasi. Perbedaan keahlian tersebut mereka gunakan untuk tujuan menggapai kemerdekaan Indonesia.  
Pertanyaan yang sesuai dengan teks sejarah di atas adalah ....  
A. Bagaimana latar belakang para pahlawan kemerdekaan ?  
B. Dimana perang kemerdekaan terjadi?setiap pahlawan kemerdekaan?  
C. Siapakah tokoh kemerdekaan Republik Indonesia ?  
D. Apa upaya untuk mencapai kemerdekaan Indonesia?
11. Perhatikan gambar berikut !  
  
Batang dan akar bunga teratai berada di bawah air, walaupun di dalam air bagian batang dan akar tetap memerlukan oksigen  
Fungsi rongga rantai pada bunga teratai adalah...  
A. membawa oksigen ke daun  
B. membawa oksigen ke batang dan akar  
C. membawa oksigen ke batang  
D. Membawa oksigen ke bunga
12. Ciri khusus pada gambar hewan tersebut adalah....  
  
A. Memiliki kaki berselaput untuk berjalan di gurun pasir  
B. memiliki rambut yang tebal  
C. memiliki duri pada bagian tubuhnya  
D. Memiliki punuk yang berfungsi untuk menyimpan cadangan makanan berupa lemak
13. Tumbuhan yang sebagian tubuhnya ada di permukaan air. Akarnya berada di air. Memiliki rongga udara dalam batang atau tangkai daun. Daunnya muncul ke permukaan air merupakan jenis tumbuhan...  
A. higrofit C. xerofit  
B. hidrofit D. epifit
14. Tanaman lumut adalah tanaman yang hidup di daerah lembab, seperti : lantai dasar hutan, di batang pohon, dinding sumur, tebing, kulit kayu yang lembab, atau permukaan batu bata. Berdasarkan pernyataan tersebut lumut termasuk jenis tumbuhan....  
A. xerofit C. epifit  
B. higrofit D. parasit



15. Bunglon memiliki kemampuan mengubah warna kulit menyerupai lingkungan yang di tempati untuk melindungi dari predator, kemampuan tersebut dinamakan....  
 A. mimikri  
 B. autotomi  
 C. herbivora  
 D. omnivora
16. Simbol Kemerdekaan secara De Facto  
 Proklamasi kemerdekaan bagi bangsa Indonesia , yaitu sebagai simbol kemerdekaan secara De Facto. Istilah De Facto berarti kenyataan atau fakta. Dengan kata lain, Proklamasi merupakan tanda bahwa Indonesia telah merdeka dan dapat dibuktikan secara nyata. Dalam hal ini, Indonesia menyatakan diri pada dunia bahwa telah menjadi negara yang merdeka. Kemudian mendapatkan pengakuan secara De Jure di mana kemerdekaan Indonesia sudah diakui dan sah secara hukum. Berdasarkan paragraf tersebut di bawah ini yang tidak termasuk makna proklamasi adalah....  
 A. sebagai puncak perjuangan bangsa Indonesia  
 B. Pengakuan kepada dunia luar  
 C. menaikkan martabat bangsa  
 D. persatuan rakyat Indonesia



Gambar di atas adalah tiga tokoh pejuang proklamasi Indonesia, berdasarkan gambar tersebut yang tidak termasuk tokoh pejuang proklamasi Indonesia adalah ....

- A. Ir. Soekarno  
 B. Moh. Hatta  
 C. Achmad Soebardjo  
 D. Ahmad Yani
18. “ Tokoh ini berperan cukup penting dalam kemerdekaan Indonesia. Tak hanya dikenal sebagai orang yang mengetik naskah atau teks proklamasi, ia juga punya sejarah hidup yang panjang dan berliku, melintas batas zaman, hingga wafat pada 27 Februari 1989 dalam usia 80 tahun. Tergabung dengan golongan muda yang menghendaki kemerdekaan Indonesia secepat-cepatnya tanpa menunggu janji Jepang, ia juga terlibat krusial dalam rangkaian peristiwa sejarah menjelang proklamasi tanggal 17 Agustus 1945. Sehari sebelumnya, tanggal 16 Agustus 1945, ia dan para pemuda revolusioner lainnya “mengamankan” Sukarno dan Mohammad Hatta ke Rengasdengklok, dekat Karawang. Tujuannya untuk mendesak dua tokoh golongan tua itu agar segera menyatakan kemerdekaan Indonesia. Berdasarkan teks di atas tokoh yang mengetik naskah proklamasi adalah....  
 A. Sayuti Melik  
 B. Irma Wati  
 C. Camelia Malik  
 D. Fatmawati
19. Teks proklamasi kemerdekaan dibacakan oleh Ir. Soekarno di Jalan Pegangsaan Timur No. 56 pada pukul... WIB  
 A. 09.00  
 B. 10.00  
 C. 11.00  
 D. 12.00
20. Manfaat diterapkannya sikap mendahulukan kepentingan bersama adalah....  
 A. tercapainya tujuan golongan tertentu  
 B. tercipta persatuan dalam perbedaan  
 C. diutamakan kepentingan para golongan tertentu  
 D. golongan tertentu mendapatkan kenyamanan
21. Pada gambar di bawah pola lantai yang ditunjukkan oleh para penari tersebut adalah....  
  
 A. garis vertikal  
 B. garis horizontal  
 C. garis diagonal  
 D. melingkar
22. Penari tari Pakarena bergerak ke depan dan ke belakang secara teratur, berdasarkan hal tersebut maka para penari membentuk pola lantai ....  
 A. vertikal  
 B. horisontal  
 C. zigzag  
 D. melingkar

23. Perhatikan gambar berikut!



Tari yang ditunjukkan pada gambar di atas berasal dari daerah....

- A. Jakarta
- B. Jawa Barat
- C. Jawa Tengah
- D. Jawa Timur

24. Gerakan penari membentuk sebuah bulatan saat menari, akan membentuk pola lantai ....

- A. vertikal
- B. horizontal
- C. melingkar
- D. diagonal

25. "Gerakan tari berbeda dari gerakan sehari-hari seperti berlari, berjalan, atau bersenam. Menurut jenisnya, tari digolongkan menjadi tari rakyat, tari klasik, dan tari kreasi baru. Untuk mempermudah menuturkan keindahan dalam gerakannya, kebanyakan penari mengandalkan macam-macam pola lantai seni tari"

Pola lantai pada sebuah tarian adalah....

- A. garis imajiner yang dilalui penari saat memperagakan tarian
- B. garis lurus saat menari
- C. garis yang dibuat oleh penari saat memperagakan tarian
- D. garis lingkaran yang dibentuk oleh penari

## II. Jawablah pertanyaan di bawah ini dengan benar!

- 26. Informasi yang terdapat dalam suatu teks sebaiknya dituliskan menggunakan kata baku. Kata baku adalah kata yang ditulis dan disusun sesuai dengan PUEBI (Pedoman Umum Ejaan Bahasa Indonesia). Berdasarkan hal tersebut, apa yang menjadi kata baku dari **otentik, jadual, moderen**?
- 27. Proklamasi Kemerdekaan Indonesia merupakan peristiwa bersejarah yang menandai kelahiran bangsa Indonesia sebagai bangsa yang merdeka dari penjajahan. Hal apa saja yang dapat dilakukan oleh para siswa dalam memaknai proklamasi kemerdekaan dalam kehidupan sehari-hari di lingkungan sekolah?
- 28. Para pahlawan membela tanah air dengan semangat dan pengorbanan. Sebutkan 5 sikap yang dapat kita teladani dari para pahlawan kemerdekaan?
- 29. Setiap hewan mempunyai ciri khusus tertentu. Jelaskan yang dimaksud dengan **ekolokasi, nokturnal, dan mimikri**!
- 30. Saat melakukan tarian kelompok, para penari membentuk formasi tertentu yang disebut pola lantai. Apa yang dimaksud dengan pola lantai dan gambarkan 2 pola lantai yang kamu ketahui!