



SUMATIF AKHIR SEMESTER I
TAHUN AJARAN 2023-2024

Kelas/Semester : VI / I

Tema/Mapel : 1 / **Selamatkan Makhluk Hidup**

Waktu : 2 x 35 Menit



I. Berilah tanda silang (X) pada *List Box* A, B, C, atau D yang paling tepat!

1. Nilai-nilai yang terkandung dalam sila “Ketuhanan yang Maha Esa” kecuali...
 - a. Takwa terhadap Tuhan Yang Maha Esa
 - b. Toleransi dan penghormatan kepada agama lain.
 - c. Kerukunan antarumat beragama.
 - d. bermusyawarah setiap pengambilan keputusan
2. Nilai yang terkandung pada “sila Kemanusiaan yang Adil dan Beradab” adalah...
 - a. Menghargai hak asasi manusia
 - b. Toleransi dan penghormatan kepada agama lain.
 - c. bergotong royong setiap akhir pekan
 - d. bermusyawarah setiap pengambilan keputusan
3. Perhatikan gambar di bawah ini!
Gambar di samping merupakan cerminan dari sila Pancasila...
 - a. Ketuhanan yang maha esa
 - b. Kemanusiaan yang adil dan beradab
 - c. Persatuan Indonesia
 - d. Kerakyatan yang dipimpin oleh hikmat kebijaksanaan dalam permusyawaratan Perwakilan.



4. Perhatikan paragraf berikut !

“Jagung merupakan salah satu tanaman yang dijadikan bahan makanan pokok di berbagai, negara, salah satunya di Indonesia. Di Indonesia, penduduk Pulau Madura menjadikan jagung sebagai makanan pokoknya. Jagung merupakan salah satu tanaman penghasil karbohidrat yang sangat diperlukan oleh tubuh”.

Informasi penting apa yang didapat dalam paragraf di atas?

- a. Jagung merupakan makanan pokok.
 - b. Jagung merupakan salah satu tanaman penghasil karbohidrat yang sangat diperlukan oleh tubuh.
 - c. jagung merupakan makanan pokok berbagai negara.
 - d. Jagung merupakan makanan pokok pulau madura.
5. Mendapatkan hak yang sama dimata hukum merupakan salah satu pengamalan nilai Pancasila, terutama sila ...
 - A. kelima
 - B. kedua
 - C. keempat
 - D. ketiga




6. Berikut ini merupakan cara efektif yang dapat dilakukan dalam membuat kesimpulan dari sebuah teks, di antaranya
 - A. Cukup membaca kalimat awal dan akhir paragraf saja
 - B. Cukup membaca judul teks saja
 - C. membaca secara sekilas
 - D. mencatat pokok-pokok pikiran setiap paragraf


7. Perhatikan beberapa hewan berikut !
1. Sapi 2. Lumba-lumba 3. Kucing

Persamaan kedua hewan tersebut terletak pada


- A. cara berkembangbiaknya C. ciri fisiknya
B. jenis makanannya D. habitatnya

8.  Ikan Paus merupakan hewan Mamalia. Mamalia berkembang biak dengan cara melahirkan. Jika dilihat dari cara berkembangbiaknya maka lumba-lumba termasuk hewan


- A. ovovivipar C. vivipar
B. ovipar D. porifera

9.  ASEAN merupakan salah satu organisasi terbesar yang mempersatukan negara-negara di kawasan Asia Tenggara yang didirikan di Bangkok pada tanggal

- A. 18 Agustus 1987 B. 8 Agustus 1987
C. 18 Agustus 1976 D. 8 Agustus 1967

10.  Setiap negara berhak menentukan dan menggunakan mata uang yang digunakan secara resmi di negaranya. Seperti Malaysia misalnya, mata uang resmi negara tersebut adalah


- A. ringgit
B. riel
C. peso
D. dolar

11.  Plastisin, playdough dan tanah liat merupakan bahan yang dapat digunakan untuk membuat patung. Patung merupakan salah satu contoh jenis karya seni

- A. dimensional
B. multi dimensi
C. 2 dimensi
D. 3 dimensi

12. Selain memiliki bentuk, karya seni 3 dimensi juga dapat kita warnai, salah satu alat yang dapat kita gunakan untuk mewarnai karya 3 dimensi secara efektif adalah

- A. pensil warna. C. spidol
B. krayon D. kuas cat

13.  Kita dapat menggunakan berbagai bahan untuk membuat karya seni 3 Dimensi seperti Patung. Patung dari tanah liat dapat kita buat dengan teknik

- A. memahat
B. merakit
C. merangkai
D. mencetak tekan

14. Kita dapat menggunakan berbagai kata tanya untuk mengetahui berbagai informasi dari sebuah teks berita ataupun cerita. Kata tanya yang dapat kita gunakan untuk mengetahui waktu terjadinya suatu peristiwa adalah

- A. kapan C. apa
B. siapa D. di mana

15. Tidur merupakan salah satu cara menjaga tubuh agar tetap sehat. Orang yang tidur 8 jam per malam, bisa dipastikan lebih sehat dibandingkan orang yang sering bangun sepanjang malam. Tidur yang baik memulihkan sistem imun. Ketika tidur pulas di malam hari, kadar melatonin meningkat dan memperbaiki imunitas. Simpulan paragraf tersebut yang tepat adalah ...
- A. tidur yang cukup adalah tidur yang tidak bangun-bangun sepanjang malam.
 B. tidur yang cukup sebaiknya kurang dari 8jam sehari.
 C. tidur yang cukup dapat meningkatkan imunitas diri.
 D. tidur dengan waktu lebih dari 8 jam dapat melindungi diri dari penyakit.
16. Sama seperti hewan, tumbuhan pun dapat berkembang biak dengan cara generatif. Sel kelamin jantan dan betina pada tumbuhan terdapat pada bunga. Bagian bunga yang merupakan sel kelamin betina adalah ...
- A. mahkota B. putik C. kelopak D. benang sari
17. Secara alamiah hewan dapat bertahan hidup pada habitatnya. Namun banyak faktor yang menyebabkan hewan menjadi punah. Salah satu faktor yang dapat menyebabkan hewan menjadi punah adalah ...
- A. perburuan liar di hutan C. pembuatan tempat suaka margasatwa
 B. penangkaran hewan-hewan langka D. budidaya hewan
18. Pada momentum Deklarasi Bangkok 5 negara di kawasan Asia tenggara bersepakat untuk membentuk organisasi yang dapat menyatukan negara-negara yang berada di kawasan Asia Tenggara. Nama Organisasi tersebut adalah adalah
- A. ASEAN B. NATO C. PBB D. KTT
19. Indoneisa merupakan salah satu negara yang menggagas pembentukan ASEAN pada saat Deklarasi Bangkok. Tokoh yang mewakili Indonesia sebagai penggagas berdirinya ASEAN adalah ...
- A. Tun Abdul Razak B. S. Rajaratnam C. Adam Malik D. Narcisco Ramos
20. Andika membuat patung menggunakan tanah liat yang terlalu lembek karena terlalu banyak diberikan air. Dampaknya patung yang dibuat Andika akan ...
- A. mudah dibentuk dan ditata C. mudah diukir
 B. mudah diwarnai D. sulit dibentuk dan di cetak
21. Perhatikan teks berikut!
- Wilayah pantai termasuk dataran rendah karena letaknya kurang dari 200 m di atas permukaan laut. Sebagai negara kepulauan, Indonesia memiliki banyak wilayah pantai. Pada umumnya, pantai dimanfaatkan sebagai tempat rekreasi. Namun, pantai juga dapat digunakan untuk tujuan yang lain, misalnya sebagai tempat pengolahan garam dan tempat pembudidayaan rumput laut. Informasi yang tidak terdapat dalam teks diatas adalah
- A. pantai termasuk dataran rendah
 B. pantai dijadikan tempat rekreasi
 C. fungsi lain pantai adalah tempat pembuatan garam
 D. warga disekitar pantai umumnya bekerja sebagai nelayan

22. Perhartikan gambar di bawah ini!



Gambar di atas merupakan icon dari negara...

- a. Malaysia c. Thailand
 b. Singapura d. Vietnam
23. Banyak teknik yang dapat kita gunakan nuntuk membuat karya seni 3 Dimensi "Patung" tergantung dari bahan yang kita gunakan. Teknik yang digunakan untuk membuat patung dari bahan dasar batu adalah teknik ...
- A. pahat B. merakit C. cetak tekan D. cor

24. Ovipar merupakan sebutan bagi hewan yang berkembang biak dengan cara bertelur. Contoh hewan yang berkembang biak dengan cara ovipar adalah



Merupakan bendera negara

a. Filipina dan Thailand

c. Brunei Darussalam dan Filipina

b. Malaysia dan Thailand

d. Vietnam dan Filipina

II. Jawablah pertanyaan di bawah ini dengan benar dengan cara memilih Sub Menu !

25. Perhatikan paragraf pada teks laporan hasil pengamatan berikut!

Nasi merupakan makanan pokok masyarakat Indonesia. Sebagian besar masyarakat Indonesia mengonsumsi nasi. Beberapa orang bahkan menganggap jika tidak mengonsumsi nasi sama halnya belum makan. Hal ini karena sebagian masyarakat menganggap makanan selain nasi hanyalah camilan. Gagasan pokok paragraf tersebut adalah

26. Perhatikan data berikut!

- | | |
|-----------------|-----------|
| 1. Burung puyuh | 4. Ayam |
| 2. Kambing | 5. Landak |
| 3. Lele | |

Hewan-hewan tersebut berkembang biak dengan berbagai cara. Jelaskan masing-masing cara perkembangbiakannya!

28. Perhatikan pernyataan-pernyataan berikut!



- (1) Mempercepat pertumbuhan ekonomi dan kemajuan sosial budaya di Asia Tenggara.
- (2) Memajukan perdamaian dengan tetap menghormati keadilan dan penegakan hukum.
- (3) Memajukan persiapan perang negara-negara ASEAN melawan penjajah.
- (4) Memajukan kerja sama dalam bidang ilmu pengetahuan dan teknologi (IPTEK).

Dari pernyataan di atas, manakah yang tidak termasuk tujuan berdirinya ASEAN

29. Untuk memperluas wilayah, salah satu cara yang ditempuh suatu negara adalah menjajah bangsa lain. Praktik kolonialisme ini dianggap menjadi strategi yang jitu bagi negara untuk mengambil alih dan memanfaatkan sumber daya alam dan manusia dari wilayah jajahannya. Praktik kolonialisme ini sangat bertentangan dengan nilai kemanusiaan dan pengamalan nilai Pancasila terutama sila

30. Ada banyak teknik dan cara yang dapat kita gunakan untuk membuat karya seni 3 Dimensi khususnya patung, cara tersebut dapat kita pilih tergantung bahan yang kita gunakan dalam membuat patung. Jelaskan beberapa bahan yang dapat kita gunakan untuk membuat patung

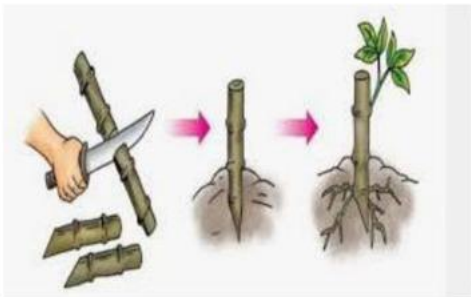
II. Pilihlah Benar atau Salah pada kalimat berikut dengan membubuhkan tanda checklis !

1. Berdasarkan hasil pengamatan kami, ternyata jika tanaman bawang kebanyakan disiram akan mati. Pernyataan tersebut merupakan bagian dari *Isi laporan Pengamatan*

2. Gambar di bawah ini menunjukkan penerapan *Pancasila Sila Pertama*



3. Kegiatan di bawah ini cara perkembangbiakan vegetatif buatan *Mencangkok*



4. Alat di bawah ini digunakan untuk membuat *membuat patung dari kayu*



5. Negara yang memiliki julukan Lock Land adalah *Laos*