




I. Berilah tanda silang (x) huruf a,b,c, atau d pada jawaban yang benar!

1. Lagu Cicak cicak di dinding diciptakan oleh ...
a. NN b. AT. Mahmud c. Pak Bob d. Pak Kasur
 2. Pola bunyi ■ berikut dinamakan sebagai simbol nada ...
a. Panjang b. Pendek c. Campuran d. Tidak beraturan
 3. Pola bunyi ■■■ berikut dinamakan sebagai simbol nada ...
a. Panjang b. Pendek c. Campuran d. Tidak beraturan
 4. Lagu Anak Ayam diciptakan oleh ...
a. NN b. AT. Mahmud c. Pak Bob d. Pak Kasur
 5. Datang seekor nyamuk
Lanjutan dari lagu diatas adalah ...
a. Cicak cicak di dinding c. Diam diam merayap
b. Hap lalu ditangkap d. Anak ayam turun berkotek
 6. Orang yang ahli dalam melukis disebut ...
a. Petani b. Pelukis c. Guru d. Polisi
 7. Mawar melati semuanya indah.
Syair tersebut merupakan syair lagu ...
a. Lihat Kebunku c. Mawar melati
b. Matahari d. Indah
 8. Alat music disamping adalah ...
a. Gitar
b. Marakas
c. Seruling
d. Drum
- 
9. Gambar disamping merupakan contoh sketsa ...
a. Kucing
b. Kelinci
c. Sapi
d. Semut
- 
10. Salah satu bahan mozaik yang dapat disobek adalah ...
a. Gunting b. Kertas lipat c. Kayu d. Biji bijian
 11. Gerakan tari pada gambar di bawah ini menirukan gerakan....
a. Mengepakkan sayap
b. Meninju angin
c. Berlompat
d. Senam mulut
- 
12. Unsur paling utama dalam sebuah tari adalah
a. Gerak b. Tokoh c. Musik d. Suara
 13. Gerakan dalam tari adalah gerakan yang
a. Indah b. Cepat c. Lambat d. Diulang-ulang

14. Lagu " Bintang Kecil " termasuk kategori lagu
 a. Wajib b. Daerah c. Melayu d. Anak-anak
15. Teknik yang dilakukan dengan cara memotong atau memisahkan bahan menjadi dua bagian atau lebih dalam membentuk benda kerajinan disebut.....
 a. Teknik gunting c. Teknik lipat
 b. Teknik potong d. Teknik sambung
16. Teknik yang dilakukan dengan cara menyatukan menggabungkan bahan dari dua bagian atau lebih menjadi satu dalam membentuk benda kerajinan disebut.....
 a. Teknik gunting c. Teknik lipat
 b. Teknik potong d. Teknik sambung
17. Untuk membuat kerajinan dengan teknik potong, maka bahan yang wajib ada adalah....
 a. Pensil b. Kertas c. Penggaris d. Gunting
18. Untuk membuat kerajinan dengan teknik sambung, maka bahan yang wajib ada adalah....
 a. Gunting b. Lem c. Pisau d. Cutter
20. Menggerakkan seluruh anggota badan disebut ...
 a. Menggambar c. Membaca
 b. Menulis d. Menari
21. Lagu gundul gundul pacul termasuk jenis lagu ...
 a. Wajib b. Daerah c. Melayu d. Anak-anak
22. Alat musik yang ditiup adalah ...
 a. Gendang b. Piano c. Gitar d. Seruling
23. Warna tersier dibawah ini adalah ...
 a. Hijau b. Merah c. Biru d. Kuning
24. Gambar yang diwarnai akan lebih ...
 a. Jelek b. Menarik c. Besar d. Kecil
25. Seorang pencipta lagu disebut ...
 a. Dirijen b. Komponis c. Mayoret d. Koreografer
26. Seni melipat kertas disebut dengan ...
 a. Origami b. Monogami c. Diagami d. Irogami
27. Membuat kapal mainan dari kertas menggunakan teknik ...
 a. Sambung b. Potong c. Lipat d. Cor
28. Alat yang digunakan untuk teknik potong adalah ...
 a. Lem b. Kertas c. Kain d. Gunting
29. Alat yang digunakan untuk teknik sambung adalah ...
 a. Lem b. Kertas c. Kain d. Gunting
30. Warna primer terdiri dari ... warna.
 a. Satu b. Dua c. tiga d. empat

II. Isilah titik-titik di bawah ini dengan benar!

1. Saat menirukan gerakan ayam, gerakan siku ditekuk ke atas dan ke
2. Saat menirukan gerakan kupu-kupu terbang, bagian tubuh yang digerakkan ke atas dan kebawah adalah

3. Gerakan menirukan kelinci dilakukan dengan cara
4. Kolase kertas lipat adalah kerajinan menggunakan teknik
5. Ampar ampar pisang termasuk jenis lagu
6. Gendang dimainkan dengan cara
7. Gitar dimainkan dengan cara
8. Lagu Indonesia Raya termasuk jenis lagu
9. Gambar imajinatif berarti membuat gambar berdasarkan
10. Piano dimainkan dengan cara

III. Jawablah pertanyaan di bawah ini dengan benar!

1. Tulislah lirik lagu Cicak di dinding!
2. Sebutkan 3 lagu anak yang kamu tahu!
3. Sebutkan 3 warna primer!
4. Sebutkan 3 alat musik yang dipetik!
5. Sebutkan manfaat gambar dekoratif!