



---

**PENILAIAN AKHIR SEMESTER I  
TAHUN PELAJARAN 2023/2024**

Satuan Pendidikan : SMPLB Tunarungu  
Hari / tgl : Selasa, 12 Desember 2023  
Kelas : VIII  
Tema : 2  
Waktu : 07.30 - 09.00 Nama : .....

---

**A. Pilihlah jawaban yang benar!**

1. Salah satu tokoh perumusan Pancasila di bawah ini adalah....
  - A. Ir. Soekarno
  - B. Ir. Soeharto
  - C. Ki. Hajar Dewantara
  - D. Sayuti Malik
2. Pengesahan Pancasila sebagai dasar NKRI pada tanggal....
  - A. 17 Agustus 1945
  - B. 18 Agustus 1945
  - C. 19 Agustus 1945
  - D. 20 Agustus 1945
3. Rumusan Pancasila yang dipakai sampai sekarang adalah....
  - A. BPUPKI
  - B. Piagam Jakarta
  - C. Pembukaan UUD 1945
  - D. Batang Tubuh UUD 1945
4. Jika kita melanggar norma kesusilaan maka kita mendapat sangsi dari ....
  - A. diri sendiri
  - B. Tuhan
  - C. negara
  - D. dikucilkan oleh masyarakat

5. *Cermati kutipan teks berikut!*

Salah satu ciri teknologi tepat guna adalah pendayagunaan sumber-sumber setempat, termasuk sumber alam dan energi secara baik dan optimal.

Makna kata pendayagunaan pada kutipan teks tersebut adalah ...

- mendatangkan hasil dan manfaat.
- mengoptimalkan potensi sekitar.
- Berusaha dengan besar-besaran dan berkelanjutan.
- Berusaha dengan cara bekerja secara bersama-sama.

6. *Bacalah kalimat berikut!*

Yosep ingin memelihara ikan hias di aquarium rumahnya. Ikan biasanya hidup di ... maka yosep harus menyiapkan tempat yang baik dan air yang cukup.

Kalimat yang tepat untuk melengkapi teks tersebut adalah ....

- darat
- rumah
- air
- tanah

7. *Bacalah teks kutipan berikut ini!*

Keberadaan hutan bakau di kawasan pantai timur Provinsi Jambi kini makin kritis, karena maraknya penebangan hutan secara liar dan tidak terkendali. Bupati Tanjung Jabung Timur mengatakan "Hutan bakau itu makin kritis akibat terus dirambah". Perambahan hutan bakau harus dihentikan karena selain dapat mengancam wilayah darat, juga akan memusnahkan ekosistem hewan laut yang berkembang di hutan tersebut.

Kesimpulan isi teks kutipan tersebut adalah ...

- Hutan bakau pantai timur Provinsi Jambi .
- Maraknya perambah hutan bakau di Tanjung Jabung.
- Perambahan hutan bakau harus segera dihentikan.
- Hutan bakau makin kritis akibat perambahan secara liar.

8. *Perhatikan kutipan wawancara berikut!*

Anisa : "Selamat siang Kak, maaf mengganggu?"

Wisnu : "Silakan, apa yang bisa saya bantu?"

Anisa : "Kak, saya ingin bertanya kepada Kakak?"

Wisnu : "Boleh, tentang apa?"

Penggunaan kata yang salah pada teks wawancara tersebut adalah ....

- mengganggu
- bertanya
- silakan
- tentang

9. Lengkapi pantun berikut!

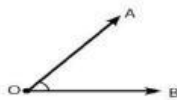
Ada orang menangkap capung  
Sambil makan buah pepaya  
Kalau kamu rajin ....  
Hidupmu pasti akan kaya

Kata yang tepat untuk melengkapi pantun tersebut adalah ....

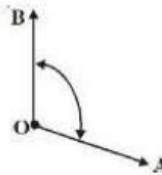
- a. Belajar
  - b. Memasak
  - c. Membantu
  - d. Menabung
10. Dua garis yang terletak pada satu bidang yang sama dan keduanya tidak mempunyai titik perpotongan walaupun dipanjangkan.  
Kalimat di atas merupakan pengertian garis...
- a. Lurus
  - b. Berpotongan
  - c. Sejajar
  - d. Tegak lurus
11. Kumpulan dari beberapa titik-titik merupakan definisi dari . . . .
- a. Titik
  - b. Garis
  - c. Sudut
  - d. Bangun

12. Yang termasuk sudut lancip adalah . . . .

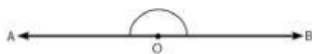
a.



b.



c.



d.



13. Segitiga tumpul memiliki dua sudut lain yang berbentuk sudut . . . .

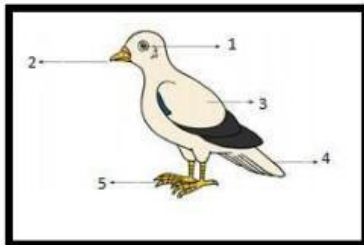
- a. Lancip
- b. Siku-siku
- c. Tumpul
- d. Lurus

14. Pada gambar dibawah ini, yang dipergunakan beruang untuk merobek makanannya dengan ...



- a. Mulut
- b. Belalai
- c. Kukunya.
- d. Gadingnya

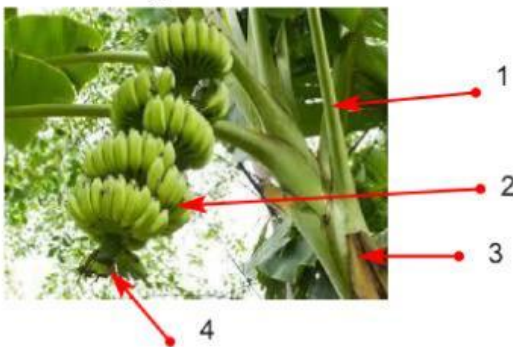
15. Perhatikan gambar di bawah ini!



Dari gambar di atas, bagian tubuh hewan yang berfungsi untuk mematak makanan adalah nomor....

- a. 2
- b. 3
- c. 4
- d. 5

16. Perhatikan gambar berikut!



Bagian dari tanaman yang ditunjukkan pada nomor 2 adalah ....

- a. Batang
- b. buah
- c. bunga
- d. pelepah daun

17. Perhatikan gambar di bawah ini



1



2



3



4

Pada gambar hewan di atas yang termasuk hewan bermetamorfosis sempurna adalah nomor ....

- a. 4
- b. 3
- c. 2
- d. 1



18. Perhatikan gambar berikut!

Gambar tersebut merupakan kenampakan lingkungan alam berupa ....

- a. Sawah
- b. Pantai
- c. Kebun
- d. Taman

19. Indonesia memiliki 3 iklim yaitu ....

- a. Iklim sedang, iklim tropis, iklim gurun
- b. Iklim musim, iklim tropis, iklim laut
- c. Iklim gurun, iklim kutub, iklim laut
- d. Iklim laut, iklim kutub, iklim gurun

20. Perhatikan gambar peristiwa berikut!



Peristiwa pada gambar tersebut dapat mengakibatkan....

- a. Udara semakin panas
- b. Tanah menjadi subur
- c. Suhu udara dingin
- d. Terjadi resapan air

21. Perhatikan gambar dibawah ini!



Gambar tersebut menunjukkan cuaca....

- a. Cerah
- b. Panas
- c. Berawan
- d. Hujan

22. Perhatikan gambar berikut ini!

Gambar tersebut menunjukkan musim....


- a. Hujan
- b. Kemarau
- c. Semi
- d. Panas



23. Yang termasuk kenampakan alam buatan adalah...

- a. Taman
- b. Bukit
- c. Gunung
- d. Laut

24. Perhatikan gambar !



Gambar hewan di atas adalah hewan...

- a. Burung
- b. Sapi
- c. Bebek
- d. Katak

25. warna sayap kupu-kupu yang terdapat pada gambar adalah...

- a. Merah, putih
- b. Biru, putih
- c. Hijau, kuning
- d. Hitam, coklat



**B. Jawablah pertanyaan berikut!**


26. Kegiatan di bawah ini merupakan norma masyarakat dalam...



27. .... jumlah saudaramu di rumah?"

Kata tanya yang tepat untuk kalimat pertanyaan tersebut adalah....

- 28.



Gambar di atas disebut segitiga .....

29. Gambar berikut ini adalah salah satu hewan yang termasuk bermetamorfosis tidak sempurna, apakah nama hewan tersebut ...



30. Kenampakan alam alami yang terdapat pada gambar berikut adalah .....

