



ESCUELA DE EDUCACIÓN BÁSICA "EDUARDO KINGMAN"

Sibambe # 510 y Ambato
2-154-409

EXAMEN DEL SEGUNDO PARCIAL DEL SEGUNDO QUIMESTRE

CALIFICACIÓN

ASIGNATURA: CIENCIAS NATURALES

AÑO BÁSICO: 5to

NOMBRE: _____

FECHA: _____

FIRMA DEL PROFESOR

EXAMEN DE CIENCIAS NATURALES

1. SELECCIONA EL GRUPO AL QUE PERTENECE CADA ANIMAL INVERTEBRADO (1.5 PTOS)



2. LEE LOS SIGUIENTES ENUNCIADOS Y SELECCIONA SI SON CORRECTOS O INCORRECTOS. (1.50 PTOS)

a. Los pulmones son órganos que se llenan de aire en la inspiración.



b. En un eclipse solar, la luna se interpone entre sol y la Tierra oculta momentáneamente su luz.



c. La faringe permite la circulación del aire desde las fosas nasales hasta la laringe.



d. Plutón es parte de un conjunto de pequeños cuerpos celestes.



E. Ceres es un cuerpo celeste más grande del cinturón de asteroides.



3. ARRASTRA CADA ÓRGANO DEL APARATO DIGESTIVO DONDE CORRESPONDA (1.20 PTOS)

ANO

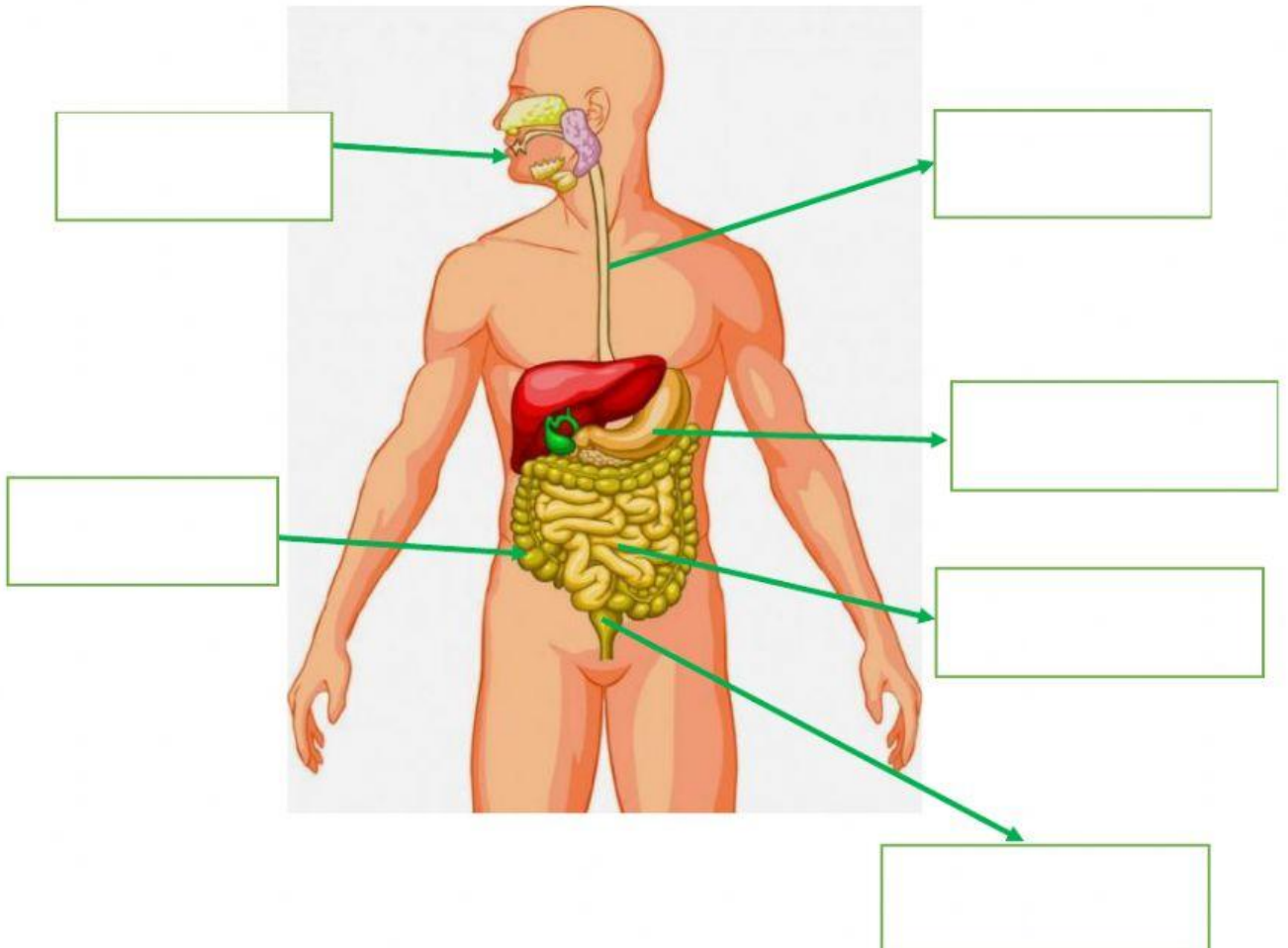
ESTÓMAGO

BOCA

INTESTINO GRUESO

INTESTINO DELGADO

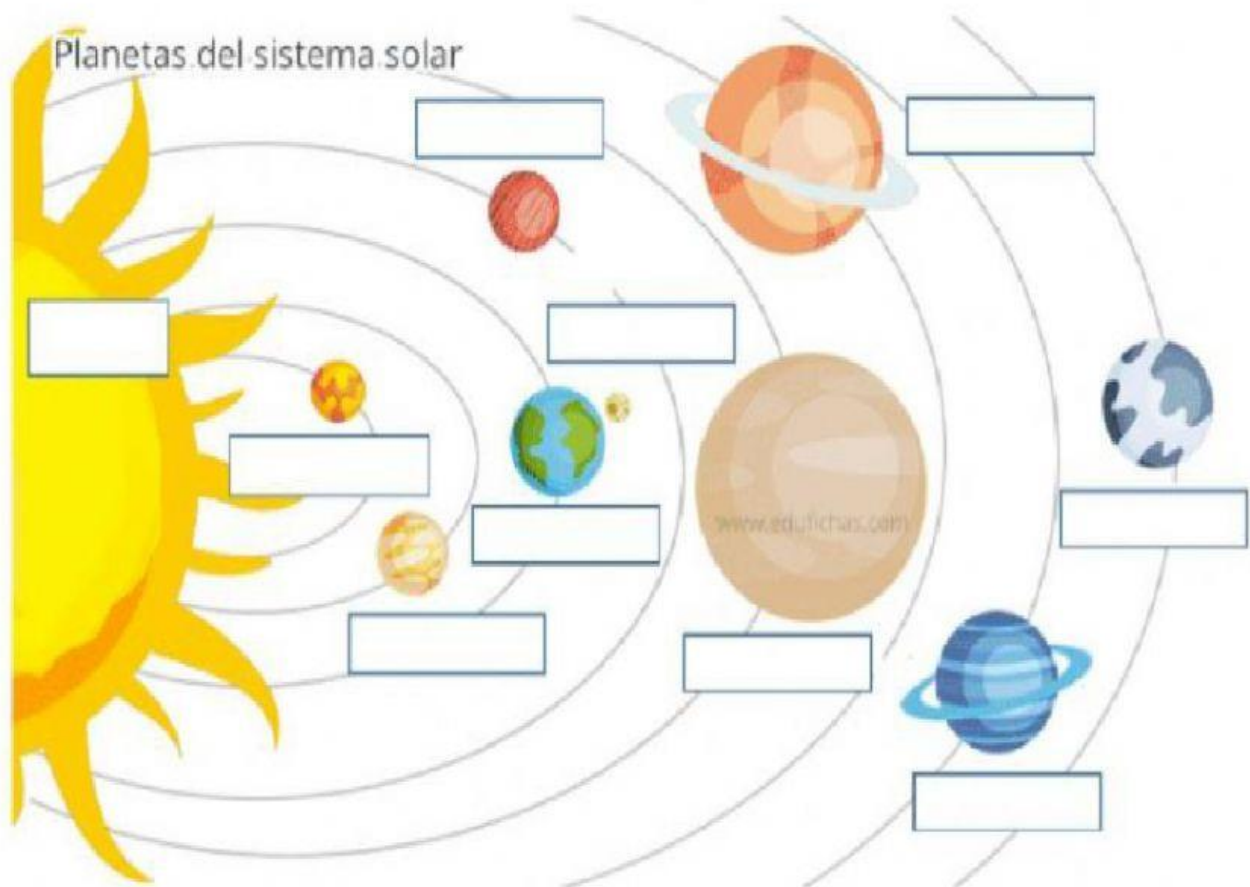
ESÓFAGO



4. SELECCIONA LA RESPUESTA CORRECTA. (1.80 PTOS)

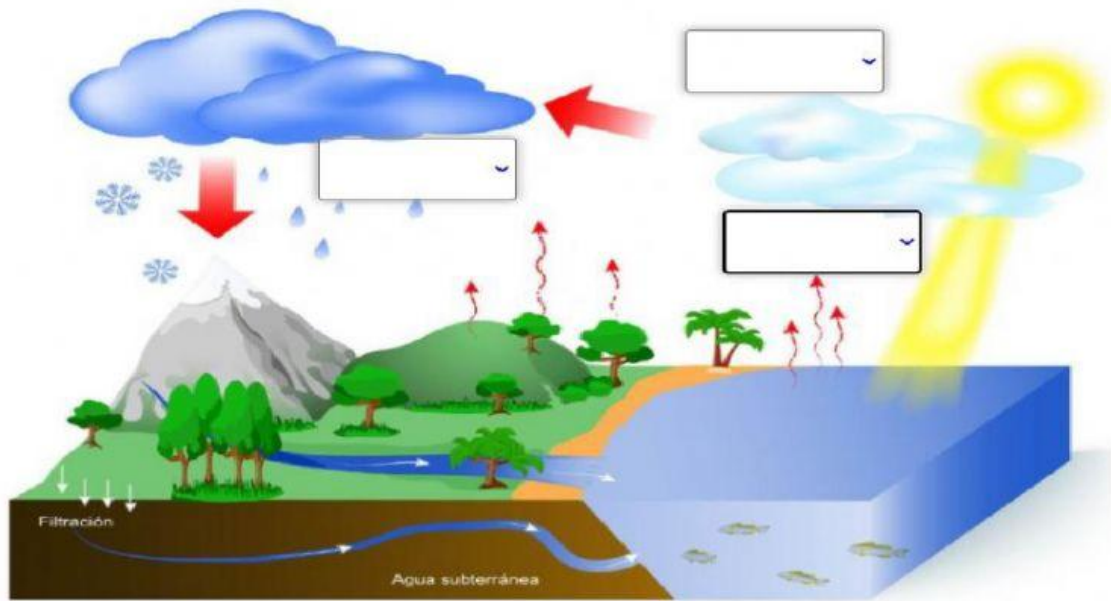
- Es una estrella y fuente de energía
- Satélite natural que orbita alrededor de la Tierra
- Pequeños cuerpos celestes compuestos por polvo, hielo, agua y rocas.

5. ARRASTRA CADA PALABRA HASTA SU LUGAR CORRESPONDIENTE (2 PTOS)



Saturno Venus Tierra Mercurio Júpiter Luna Neptuno Marte Urano Sol Acti
Ve a t

6. ELIGE EL CICLO DEL AGUA SEGÚN CORRESPONDA (0.80 PTOS)



7. SELECCIONA LAS FUENTES DE ENERGÍA RENOVABLE Y NO RENOVABLE SEGÚN CORRESPONDA. (1.20 PTO)

Fuente renovable de energía	Fuente no renovable de energía
<input type="checkbox"/> Sol	<input type="checkbox"/> Sol
<input type="checkbox"/> Carbón	<input type="checkbox"/> Carbón
<input type="checkbox"/> Petróleo	<input type="checkbox"/> Petróleo
<input type="checkbox"/> Viento	<input type="checkbox"/> Viento
<input type="checkbox"/> Agua	<input type="checkbox"/> Agua
<input type="checkbox"/> Gas Natural	<input type="checkbox"/> Gas Natural

