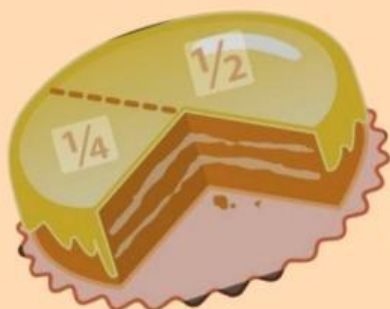


L K P D

Lembar Kerja Peserta Didik

Pecahan Senilai



Anggota Kelompok

1.
2.
3.
4.
5.
6.



Satuan Pendidikan : SDN Leuwianyar
Fase/Kelas : B/4 (Empat)
Mata Pelajaran : Matematika
Materi : Pecahan Senilai

Tujuan Pembelajaran

1. Melalui pembelajaran Problem Based Learning peserta didik dapat membandingkan, menemukan dan memilih pecahan-pecahan yang senilai menggunakan benda-benda konkrit.
2. Setelah mengamati media video pembelajaran dan berdiskusi peserta didik mampu memecahkan masalah yang terkait pecahan senilai dengan benar.
3. Dengan menggabungkan LKPD mode kertas dan E-LKPD peserta didik dapat memahami materi pembelajaran dengan benar.

Petunjuk

1. Berdoa Sebelum mengerjakan LKPD ini !
2. Isilah identitas nama anggota kelompok
3. Baca dan cermati setiap Langkah dalam LKPD ini !
4. Kerjakan semua soal dengan teliti!
5. Jika ada kesulitan bertanyalah kepada guru !

1. Ibu sudah membuat kue yang sangat lezat, kue keju sudah dipotong ibu menjadi 2 bagian, kue coklat sudah dipotong ibu menjadi 4 bagian, susanti ingin kue keju sedangkan melati ingin kue coklat. Bagaimana cara membagi kue tersebut agar mendapatkan bagian yang sama?

Susanti = _____

Melati = _____

Bacalah teks dibawah ini untuk menjawab soal nomor 2-4 !

Disajikan sebuah masalah sebagai berikut :

Sebuah keluarga terdiri dari ayah, ibu, andi dan Rara. Ayah dan ibu, masing-masing memiliki 1 buah kue. Kue ayah dibagi menjadi 2 bagian yang sama besar 1 bagiannya diberikan kepada andi. Kue Ibu dibagi menjadi 8 bagian sama besar 2 bagiannya diberikan kepada Rara. Rara terlihat tidak senang dengan kue yang diberikan kepadanya

2. Mengapa Rara terlihat tidak senang?

Karena Ibu tidak memberinya kue

Karena kue bagian Rara sedikit

Karena Andi mengambil kuenya

Karena ayah tidak memberinya kue



3. Tuliskan dalam bentuk pecahan bagian kue yang diterima Andi dan Rara !

Kue Andi = _____

Kue Rara = _____


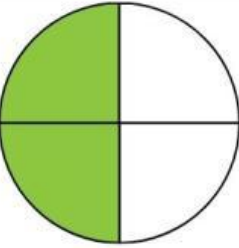
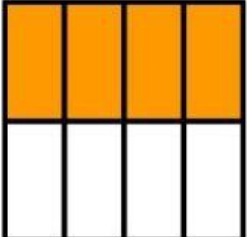

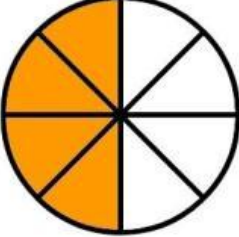

4. Karena Rara terlihat tidak senang, Ibu memberikan lagi 2 bagian kuenya kepada Rara. Menurut kalian apakah Rara akan senang setelah ibu memberikan lagi 2 bagian kuenya. Jelaskan Alasannya!

Alasannya :

.....

5. Perhatikan Gambar dibawah ini !

- Tuliskan nilai Pecahan gambar dibawah kolom yang sudah disediakan !
- Tuliskan juga apakah kedua pecahan tersebut senilai atau tidak senilai !

PECAHAN 1	PECAHAN 2	SENILAI/TIDAK SENILAI
 = ____	 = ____	
 = ____	 = ____	
 = ____	 = ____	

SELAMAT MENGERJAKAN !!!