



**PENILAIAN AKHIR SEMESTER (PAS) GANJIL  
TINGKAT SEKOLAH DASAR TP. 2023/2024  
KECAMATAN SINJAI TENGAH**



**Tema : 1 . Indah nya Kebersamaan**

**Nama Siswa :**

**Kelas : IV (Empat)**

**Nama Sekolah :**

**Berilah tanda silang (X) pada huruf a, b, c atau d, di depan jawaban yang paling benar!**

**1. PPKn**

Kerja sama dalam Keberagaman merupakan sikap yang harus dikembangkan.  
Contoh gotong royong disekolah adalah .....

- |                               |                                     |
|-------------------------------|-------------------------------------|
| a. Mengerjakan ulangan harian | c. Membuang sampah pada tempatnya   |
| b. Mengerjakan piket bersama  | d. Membersihkan kamar mandi bersama |

**2. Bahasa Indonesia**

Bacalah!

Saat percobaan akan dimulai, tiba-tiba terdengar azan. Siti dan Udin meminta izin teman –temannya untuk shalat. Edo meminjamkan ruang makannya untuk digunakan Siti dan Udin Shalat. Meskipun Edo beragama Katolik, ia tidak keberatan rumahnya dipakai untuk shalat. Beni yang beragama Kristen, Dayu yang beragama Hindu, dan Lani yang beragama Budha menunggu dengan sabar temannya beribadah. Keenam sahabat selalu menghargai satu dengan yang lain.  
Gagasan pokok dari bacaan di atas adalah .....

- a. Siti dan Udin meminta izin teman-temannya untuk shalat
- b. Teman-temannya mengizinkan untuk shalat
- c. Sikap menghargai satu dengan yang lain
- d. Edo meminjamkan ruang makannya untuk shalat

**3. IPA**

Setiap benda yang bergetar pasti akan menghasilkan bunyi. Benda-benda itu dinamakan sumber bunyi. Sumber bunyi adalah benda-benda yang dapat menghasilkan bunyi. Contoh sumber bunyi adalah alat-alat musik seperti gamelan, suling, dan terompet, serta benda-benda lain seperti drum, dan bedug yang dipukul.

Dari pernyataan diatas, benda-benda yang bergetar dan menghasilkan bunyi disebut .....

- |                 |          |            |                    |
|-----------------|----------|------------|--------------------|
| a. Sumber bunyi | b. Suara | c. Getaran | d. Gelombang bunyi |
|-----------------|----------|------------|--------------------|

**4. SBdP**



Dari gambar tari diatas, level tertinggi pada gerakan tari bungong jeumpa adalah....

- |                 |  |
|-----------------|--|
| a. Saat berdiri | c. Saat sujud kedepan                      |
| b. Saat duduk   | d. Saat posisi bertumpuh pada kedua tangan |

Berilah tanda ceklis (✓) jika benar, pada pernyataan dibawah ini!

5. **PPKn**

Keaneka ragaman yang ada di masyarakat harus kita hargai dan hormati, agar tidak terjadi perselisihan dan perpecahan. Keanekaragaman tersebut meliputi agama, suku bangsa, sistem kekerabatan, budaya, dan adat istiadat.

Cara sikap menghargai satu sama lain diantaranya :

Sikap menghargai satu sama lain	Benar/ Salah
a. Melarang teman yang akan beribadah ketika terdengar waktu untuk beribadah saat bermain	
b. Memperbolehkan teman untuk beribadah dirumahnya walaupun berbeda agama.	
c. Menunggu dengan sabar ketika temannya sedang beribadah.	
d. Senang bergaul dan bekerja sama dengan semua teman yang berbeda suku	

6. **BHS. INDONESIA.**

Saat percobaan akan dimulai, tiba-tiba terdengar adzan. Siti dan Udin meminta izin teman-temannya untuk shalat. Teman-temannya mengizinkan mereka untuk melakukan ibadah. Edo meminjamkan ruang makannya untuk digunakan Siti dan Udin Shalat. Meskipun Edo beragama Katolik, ia tidak keberatan rumahnya dipakai untuk shalat. Beni yang beragama Kristen, Dayu yang beragama Hindu, dan Lani yang beragama Buddha menunggu dengan sabar temannya beribadah. Keenam sahabat selalu menghargai satu dengan yang lain.

Dari bacaan di atas, yang merupakan gagasan pendukung pada paragraf tersebut yaitu;

Gagasan pendukung	Benar/ Salah
a. Beni yang beragama Kristen, Dayu yang beragama Hindu, dan Lani yang beragama Buddha menunggu dengan sabar temannya beribadah.	
b. Meskipun Edo beragama Katolik, ia tidak keberatan rumahnya dipakai untuk shalat.	
c. Siti dan Udin meminta izin teman-temannya untuk shalat.	
d. Keenam sahabat selalu menghargai satu dengan yang lain.	

7. **IPA**

Bunyi mempunyai jenis yang berbeda-beda. Hal ini bergantung dari frekuensinya. Frekuensi adalah banyaknya getaran yang terjadi setiap satu detik. Satuan frekuensi adalah Hertz(Hz). Berdasarkan frekuensinya yaitu;

Jenis frekuensi bunyi	Benar/ Salah
a. Bunyi infrasonik adalah bunyi yang mempunyai frekuensi sangat rendah yaitu kurang dari 20 Hz	
b. Bunyi Audiosonik adalah bunyi yang mempunyai frekuensi mulai 20-20.000Hz	
c. Bunyi Audiosonik adalah bunyi yang mempunyai frekuensi diantara 20-20.000Hz	
d. Bunyi ultrasonik adalah bunyi yang mempunyai frekuensi sangat tinggi, lebih dari 20.000 Hz	

8. **IPS**

Faktor penyebab keberagaman masyarakat Indonesia, keberagaman masyarakat Indonesia disebabkan oleh beberapa hal, diantaranya adalah sebagai berikut:

Faktor	Benar/ Salah
a. Keadaan geografis	
b. Pengaruh kebudayaan asing	
c. Kondisi iklim dan kondisi alam yang berbeda	
d. Keadaan pembangunan yang merata.	

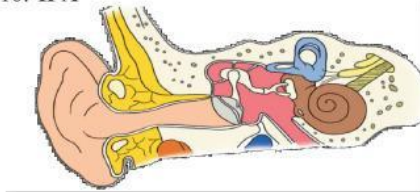
Pasangkanlah kedua pernyataan dibawah ini dengan pasangan yang tepat!

9. **PPKn**

Sikap menerima keanekaragaman budaya dapat kita wujudkan dalam bentuk kebiasaan menjaga kelestarian budaya asli, menghindari kebiasaan yang merusak budaya asli, dan menerima budaya asing atau baru.

Sikap	Contoh
Menjaga kelestarian budaya asli •	• Tidak Mencorat coret benda seni
Menghindari kebiasaan yang merusak budaya asli •	• Penggunaan internet secara bijak
Menerima budaya asing atau baru •	• Mengikuti lomba kesenian daerah

10. **IPA**



Bagian-bagian telinga beserta fungsinya yaitu;

Bagian Telingan	Kegunaan
Daun telinga •	• Saluran penghubung antara telinga bagian luar dan telinga bagian tengah
Lubang telinga •	• Mengumpulkan gelombang suara dari lingkungan sekitar
Saluran eustachius •	• Menyalurkan lendir dari telinga tengah, serta menjaga keseimbangan tekanan udara ditelinga tengah
Gendang telinga •	• Bergetar sesuai dengan jumlah getaran yang diterima daun telinga





11. **IPS**

Nama Rumah adat tradisional beserta nama daerah asalnya yang kita ketahui yaitu :

Rumah adat		Daerah Asal
Gadang	•	Sumatera Utara
	•	
Balai batak toba	•	Sumatera Barat
	•	
Baileo	•	Sulawesi selatan
	•	
tongkonan	•	Maluku
	•	

12. **SBdP**

Tarian Bungong Jeumpa dibagi ke dalam dua gerakan, yaitu gerakan saat berdiri dan gerakan saat duduk. Berikut gambar gerak dan abab-aba hitungan dari tari Jeumpa:

Gerakan	Aba-aba
	• Kedua telapak tangan saling berhadapan. Dibalik ke kanan dan kiri bergantian. Kaki berjalan di tempat sambil diayun. <b>Hitungan 4x8</b>
	• Kedua tangan di atas, kaki jinjit hentakkan dua kali. Ke kanan 2 kali. <b>Hitungan 4x8.</b>
	• Menghadap serong ke kanan. Kedua jari rapat ditarik ke atas. Kaki kanan ke depan. Tangan ditarik ke bawah, kaki kanan mundur. <b>Hitungan 2x8</b>
	• Kedua tangan memegang bahu, tangan didorong ke depan. Tangan lurus jari tangan mengarah ke atas. Kaki maju bergantian kanan dan kiri. <b>Hitungan 2x8</b>

Isilah titik-titik dibawah ini dengan jawaban yang benar!

13. **Bhs Indonesia**

Setiap bacaan biasanya terdiri atas beberapa paragraf. Setiap paragraf memiliki gagasan pokok yang didukung oleh gagasan pendukung. Gagasan pokok adalah ide utama yang dibahas dalam suatu bacaan, dapat berupa kalimat inti atau berupa pokok paragraf. Gagasan pendukung adalah uraian atau tambahan informasi untuk gagasan pokok.

Dari pernyataan di atas, informasi yang berupa tambahan uraian dari gagasan pokok dinamakan .....

14. **IPA**

Segala macam bentuk bunyi berasal dari benda yang bergetar. Getaran dari suatu benda akan mengakibatkan udara di sekitarnya bergetar. Getaran tersebut menimbulkan gelombang bunyi di udara. Benda-benda yang bergetar dan menghasilkan bunyi disebut sumber bunyi . Bunyi dapat merambat melalui benda padat, cair, dan gas. Akan tetapi, bunyi tidak dapat merambat pada ruang hampa. Bunyi yang rambatannya dihalangi benda yang permukaannya keras maka bunyi tersebut akan .....



15. **IPS**  
Indonesia adalah negara yang sangat beragam budaya, agama, dan bahasa daerahnya. Salah satu faktor yang menyebabkan beranekaragamnya budaya bangsa Indonesia adalah wilayah Indonesia yang berupa .....

16. **SBdP**



Gambar tersebut diatas adalah gerakan berdiri dalam tari Bungong Jeumpa. Gerakan ini dengan aba-aba hitungan  
Kedua tangan di atas, kaki jinjit hentakkan dua kali. Ke kanan 2 kali. Kedua tangan di atas. Kaki jinjit hentakkan dua kali. Ke kiri 2 kali. Hitungan .....

**Jawablah pertanyaan dibawah ini dengan jawaban yang benar!**

17. **PPKn**  
Indonesia terdiri atas keragaman suku, budaya, agama, dan sosial. Keragaman tersebut merupakan identitas bangsa Indonesia. Sebagai warga negara yang baik kita harus menjaga persatuan dan kesatuan dalam perbedaan dan keberagaman tersebut.  
Sebutkan cara menjaga kerukunan dalam keberagaman budaya bangsa Indonesia!  
Jawab :  
.....  
.....  
.....

**Bhs. Indonesia**

**Bacalah paragraf berikut untuk menjawab soal nomor 19-20!**

Nabil adalah murid di SD Sentosa kelas 4. Nabil memiliki banyak teman di dalam kelasnya yang berasal dari berbagai daerah yang berbeda. Bahkan diantaranya ada yang berasal dari luar pulau. Nabil merasa senang dengan keberagaman teman-teman yang dimilikinya. Dengan semua itu ia bisa mendapatkan banyak cerita dari teman-temannya yang berlainan daerah.

18. Tuliskan gagasan pokok paragraf diatas!  
Jawab :  
.....  
.....  
.....
19. Tuliskan Gagasan pendukung paragraf diatas!  
Jawab :  
.....  
.....  
.....
20. **SBdP**  
Tarian Bungong Jeumpa dibagi ke dalam dua gerakan, yaitu gerakan saat berdiri dan gerakan saat duduk. Jelaskan salah satu dari gerakan saat berdiri pada tarian Bungong Jeumpa?  
Jawab :  
.....  
.....  
.....

SELAMAT BELAJAR