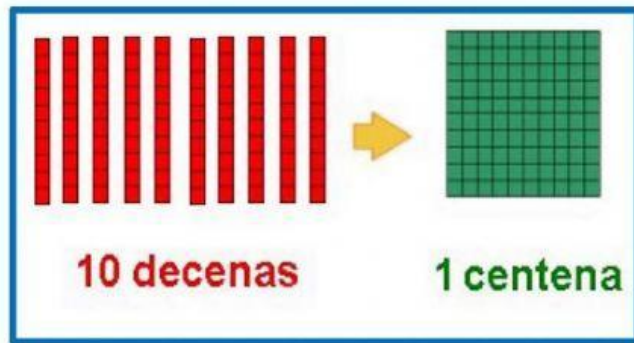



# PRACTICANDO CON LA CENTENA

Es un conjunto de 100 unidades o 10 decenas.



1. Observa el grafico y completa los espacios que corresponde.




C	D	U

Se lee:




C	D	U

Se lee:



C	D	U

Se lee:



C	D	U

Se lee:

2. Relaciona correctamente las siguientes cantidades.

- a. Cuatrocientos treinta y uno. ■
- b. Ciento dieciocho. ■
- c. Doscientos setenta y tres. ■
- d. Trescientos veintiseis. ■
- e. Quinientos tres. ■

. 326

. 503

. 118

. 431

. 273

